



نام خانوادگی:

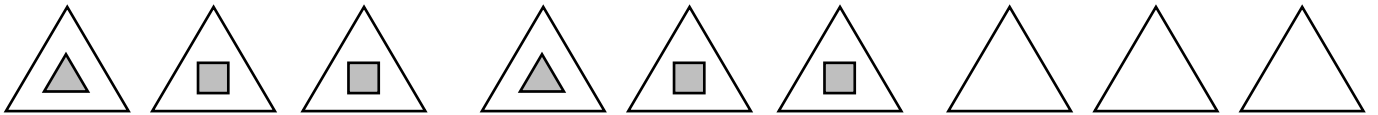
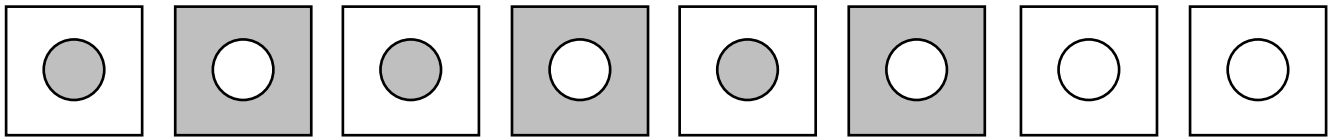
شماره لیست:

زنبورک ۳



مانند نمونه ترکیب کن و جدول را کامل کن.

جدول سودوکو را کامل کن.

الگوها را ادامه بده.



اگر به شکل‌های سمت چپ ۲ تا اضافه شود چندتا می‌شود؟



فعالیت‌های پیشنهادی: کارت‌هایی که روی هر کدام ۱ تا ۴ شکل کشیده شده را بسازید. به دانش آموز یک کارت می‌دهیم تا تعداد شکل‌های روی کارت را بگوید سپس ۲ تا به آن تعداد اضافه کرده و عدد آن را بگوید.



موفق باشید