



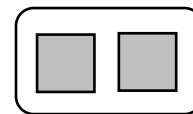

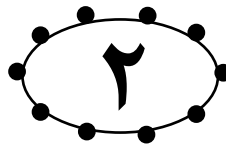
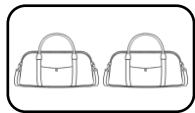


زنبورک ۷

جدول شگفت انگیز را کامل کن.

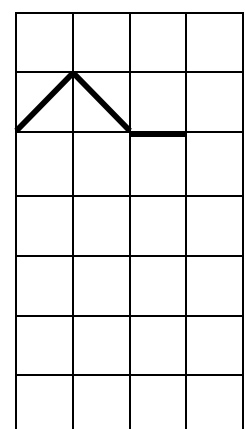
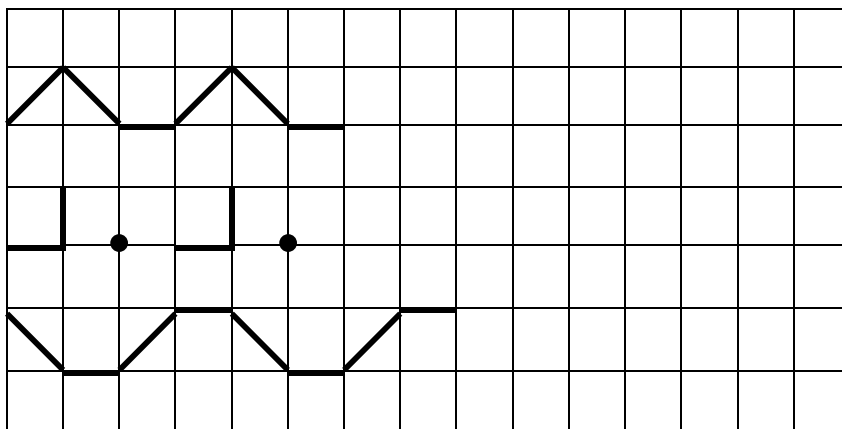
▲	○	▭	
▭	◻	○	
	▲		▭
◻		▲	○

	○	▲	◻
	◻		
◻		▭	
	▭	◻	▲


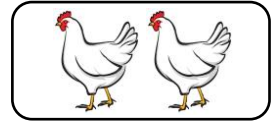

عدد ۲ را با خط کش به شکل های مربوط به آن وصل کن.



الگوها را ادامه بده و در قسمت آخر نمونه الگو را بکش.



عدد مربوط به هر شکل را زیر آن بنویس.

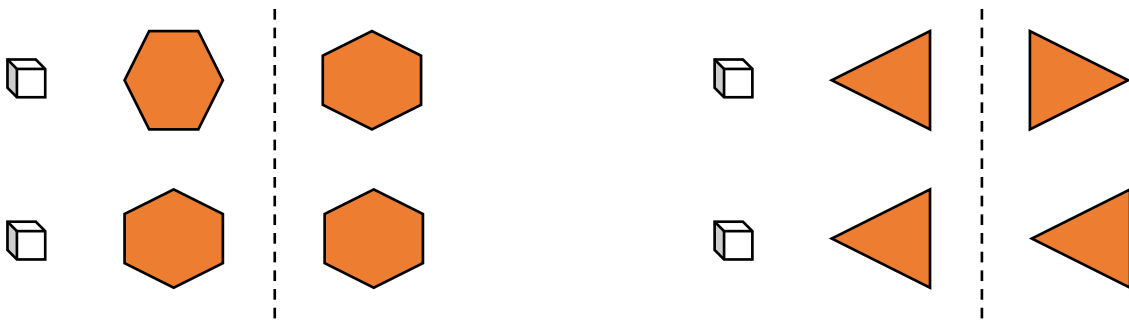


الگو را ادامه بده.

۲ - ۲ - ۱ - ۲ - ۲ - ۱ - - - - -

۱ - ۱ - ۱ - ۲ - ۱ - ۱ - ۱ - ۲ - - - - -

اگر شکل‌های مورد نظر را از روی خط تا کنیم با کدامیک از شکل‌های روبرو مطابقت دارد. با علامت تیک ✓ نشان بده. (این تمرین مشابه صفحه ۴۲ کتاب ریاضی می‌باشد)



مانند نمونه اعداد را بین دو خط بنویس.

۱ - ۱ -

۲ - ۲ -



موفق باشید