



۴- ۲۶ گرم فلز روی در واکنش با گاز کلر، ۴۳/۵۲ گرم روی کلرید تولید نموده است. بازده درصدی واکنش کدام است؟  
 ( $\text{Cl} = ۳۵/۵$  ,  $\text{Zn} = ۶۵ \text{ g.mol}^{-۱}$ )

- ۷۰ (۱)      ۷۵ (۲)      ۸۰ (۳)      ۸۵ (۴)

$\text{Zn} + \text{Cl}_2 \rightarrow \text{ZnCl}_2$       گزینه‌ی ۳ پاسخ صحیح است.

$$\frac{۲۶}{۶۵} \times \frac{R}{۱۰۰} = \frac{۴۳/۵۲}{۱۳۶} \Rightarrow R = ۸۰ \%$$

۵- ترکیب  $(\text{CH}_3)_p \text{CH} - \text{CH}(\text{C}_2\text{H}_5) - \text{CH}_3$  با کدام ترکیب ایزومر است؟

- (۱) ۲ و ۳- دی‌متیل پنتان      (۲) ۳- اتیل پنتان      (۳) ۲ و ۴- دی‌متیل بوتان      (۴) ۳- اتیل - ۲- متیل پنتان

گزینه‌ی ۲ پاسخ صحیح است. تعداد C در گزینه‌های ۳ و ۴ با ترکیب داده شده برابر نیست و این ترکیبات ایزومر آن نیستند.

گزینه‌ی ۱: نام خود ترکیب است و ایزومر آن نیست، اما گزینه‌ی ۲ فرمول مولکولی مشابه آن را دارد و خود آن ترکیب نیز نمی‌باشد یعنی ایزومر آن است.

۶- برای سوختن ۳/۶ گرم پنتان چند لیتر هوا شامل ۲۰٪ حجمی اکسیژن در شرایط STP لازم است؟

$$(\text{C} = ۱۲, \text{H} = ۱ \text{ g.mol}^{-۱})$$

- ۴/۴۸ (۱)      ۸/۹۶ (۲)      ۲۲/۴ (۳)      ۴۴/۸ (۴)

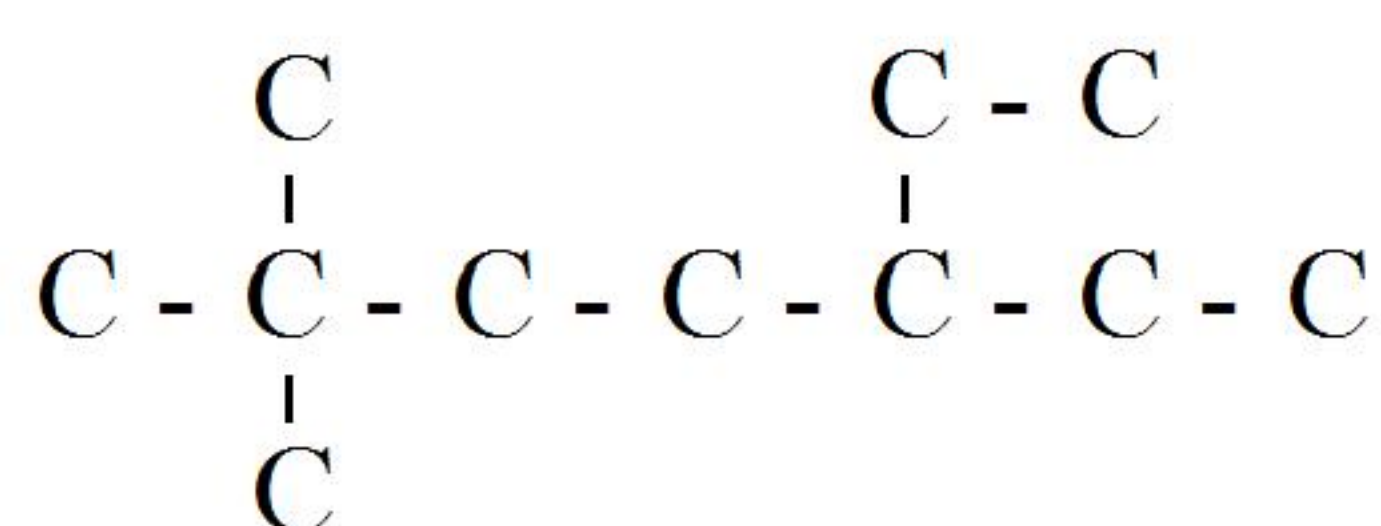
$\text{C}_5\text{H}_{12} + ۸\text{O}_2 \rightarrow ۵\text{CO}_2 + ۶\text{H}_2\text{O}$       گزینه‌ی ۴ پاسخ صحیح است.

$$\frac{۳/۶}{۷۲} = \frac{x}{۸ \times ۲۲/۴} \Rightarrow x = ۸/۹۶ \text{ LO}_2 \Rightarrow \text{حجم هوای لازم} = ۴۴/۸ \text{ L}$$

۷- نام ترکیب  $(\text{CH}_3)_m \text{C}(\text{CH}_2)_p \text{CH}(\text{C}_2\text{H}_5)_q$  مطابق با کدام گزینه است؟

- (۱) ۵- اتیل - ۲و۲- دی‌متیل هپتان      (۲) ۵- اتیل - ۳و۳- دی‌متیل اوکتان  
 (۳) ۳- اتیل - ۴و۴- دی‌متیل هپتان      (۴) ۲و۲- دی‌متیل - ۵- اتیل هپتان

گزینه‌ی ۱ پاسخ صحیح است.



۸- تعداد اتم‌های موجود در ۳L گاز اتان با چگالی  $۱/۲ \text{ g.L}^{-۱}$  به کدام عدد نزدیک‌تر است؟

$$(\text{C} = ۱۲, \text{H} = ۱: \text{g.mol}^{-۱})$$

- (۱)  $۵/۷۸ \times ۱۰^{۲۳}$       (۲)  $۵/۷۸ \times ۱۰^{۲۱}$       (۳)  $۸/۶۴ \times ۱۰^{۲۳}$       (۴)  $۸/۶۴ \times ۱۰^{۲۱}$

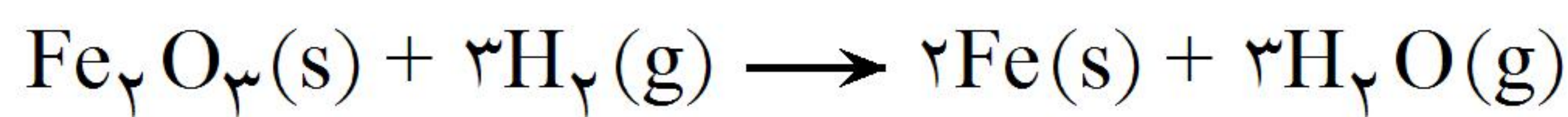
گزینه‌ی ۱ پاسخ صحیح است.

$$۳\text{L} \times \frac{۱۲\text{g}}{۱\text{L}} \times \frac{۱\text{mol}}{۳۰\text{g}} \times \frac{۶/۰.۲۲ \times ۱۰^{۲۳} \text{ مولکول}}{۱\text{mol}} \times \frac{۸\text{ اتم}}{۱ \text{ مولکول}} = ۵/۷۸ \times ۱۰^{۲۳}$$

۹- اگر در واکنش ۸ گرم فریک اکسید با گاز هیدروژن کافی، ۴/۶۲ گرم فلز آهن آزاد شود، بازده درصدی واکنش کدام است؟ (O = ۱۶, Fe = ۵۶: g.mol<sup>-1</sup>)

(۱) ۸۰ (۲) ۸۱/۵ (۳) ۸۲/۵ (۴) ۸۵

گزینه ۳ پاسخ صحیح است. زیرا داریم:



$$8\text{gFe}_3\text{O}_4 \qquad x \Rightarrow x = \frac{8\text{gFe}_3\text{O}_4 \times 2 \times 56\text{gFe}}{160\text{gFe}_3\text{O}_4} = 5/6\text{gFe}$$

$$\frac{4/62\text{g}}{5/6\text{g}} \times 100 = \%82/5$$

۱۰- کدام نام برای یک ترکیب آلی درست است؟

(۱) ۳- بوتن (۲) ۲، ۲- دی متیل - ۱- بوتن (۳) ۲، ۳- دی اتیل پنتان (۴) ۳- متیل هگزان

گزینه ۴ پاسخ صحیح است.

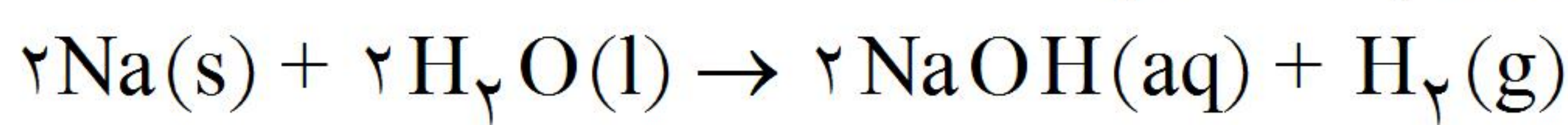
گزینه ۱: نام درست گزینه ۱ (۱) به صورت ۱- بوتن می باشد.

گزینه ۲: هیچ ترکیبی با مشخصه ۲ (۲) وجود ندارد زیرا کربن پیوند دوگانه نمی تواند ۲ شاخه فرعی آلکیل داشته باشد.

گزینه ۳: در آلکانها، اتیل در موقعیت شماره ۱ (۲) نمی تواند شاخه فرعی باشد.

۱۱- چنانچه در واکنش ۰/۴۶ گرم فلز سدیم با آب، ۰/۱۴ لیتر گاز هیدروژن در شرایط STP تولید شده باشد، کدام گزینه

در مورد آن درست است؟ (O = ۱۶, Na = ۲۳, H = ۱ : g.mol<sup>-1</sup>)



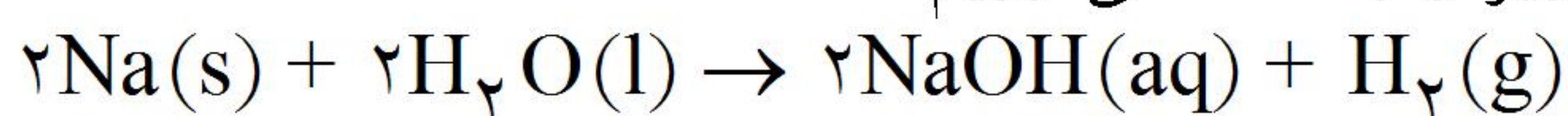
(۱) بازدهی درصدی واکنش، ۷۲/۵ درصد است.

(۲) مقدار نظری واکنش برای گاز هیدروژن، ۰/۰۱ گرم است.

(۳) مقدار نظری برای گاز هیدروژن، ۰/۷۸ گرم کم تر از مقدار نظری برای محلول سدیم هیدروکسید است.

(۴) بازده درصدی واکنش کم تر از ۱۰۰٪ است، زیرا سرعت انجام آن بسیار کم است.

گزینه ۳ پاسخ صحیح است. مقدار نظری فراورده ها واکنش زیر را به دست می آوریم:



$$0/46\text{gNa} \times \frac{1\text{molNa}}{23\text{gNa}} \times \frac{1\text{molH}_2}{2\text{molNa}} \times \frac{2\text{gH}_2}{1\text{molH}_2} = 0/02\text{gH}_2$$

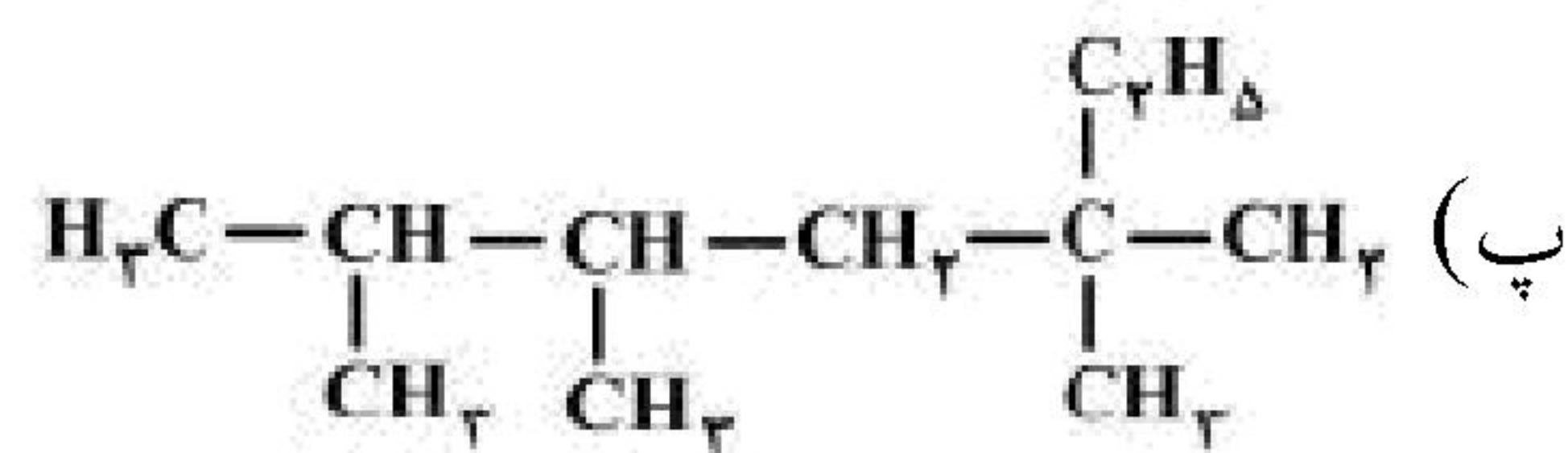
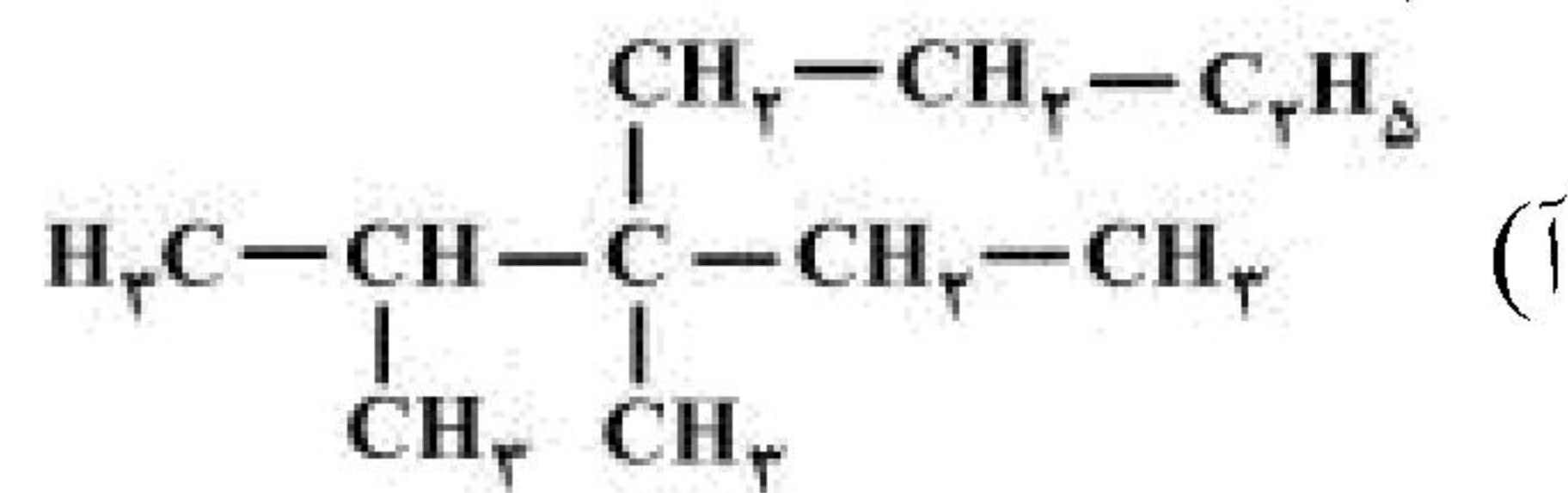
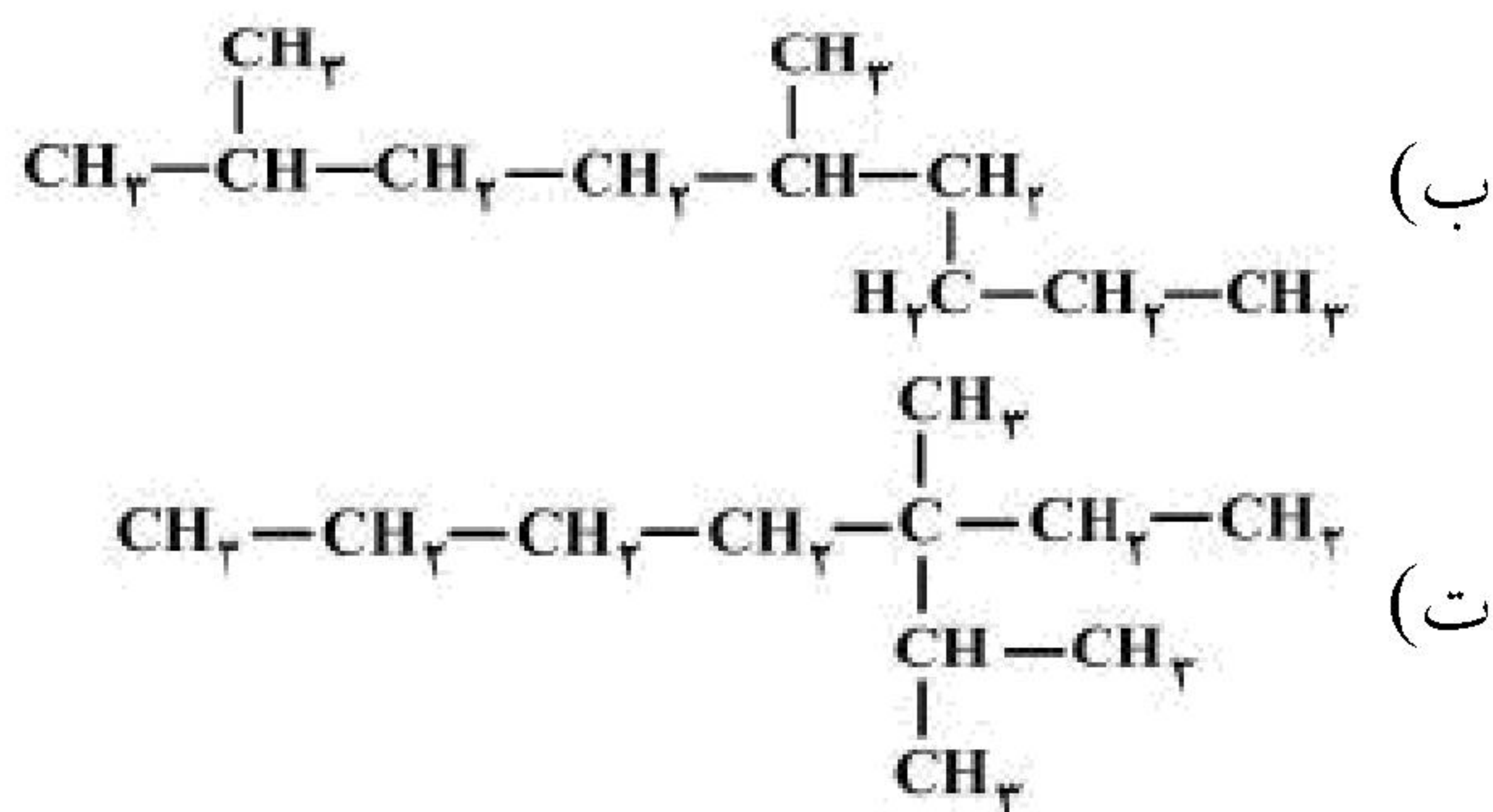
$$0/46\text{gNa} \times \frac{1\text{molNa}}{23\text{gNa}} \times \frac{2\text{molNaOH}}{2\text{molNa}} \times \frac{40\text{gNaOH}}{1\text{molNaOH}} = 0/8\text{gNaOH}$$

برای محاسبه بازده درصدی واکنش، ابتدا جرم مقدار عملی را به دست می آوریم:

$$0/14\text{LH}_2 \times \frac{1\text{molH}_2}{22/4\text{LH}_2} \times \frac{2\text{gH}_2}{1\text{molH}_2} = 0/125\text{gH}_2$$

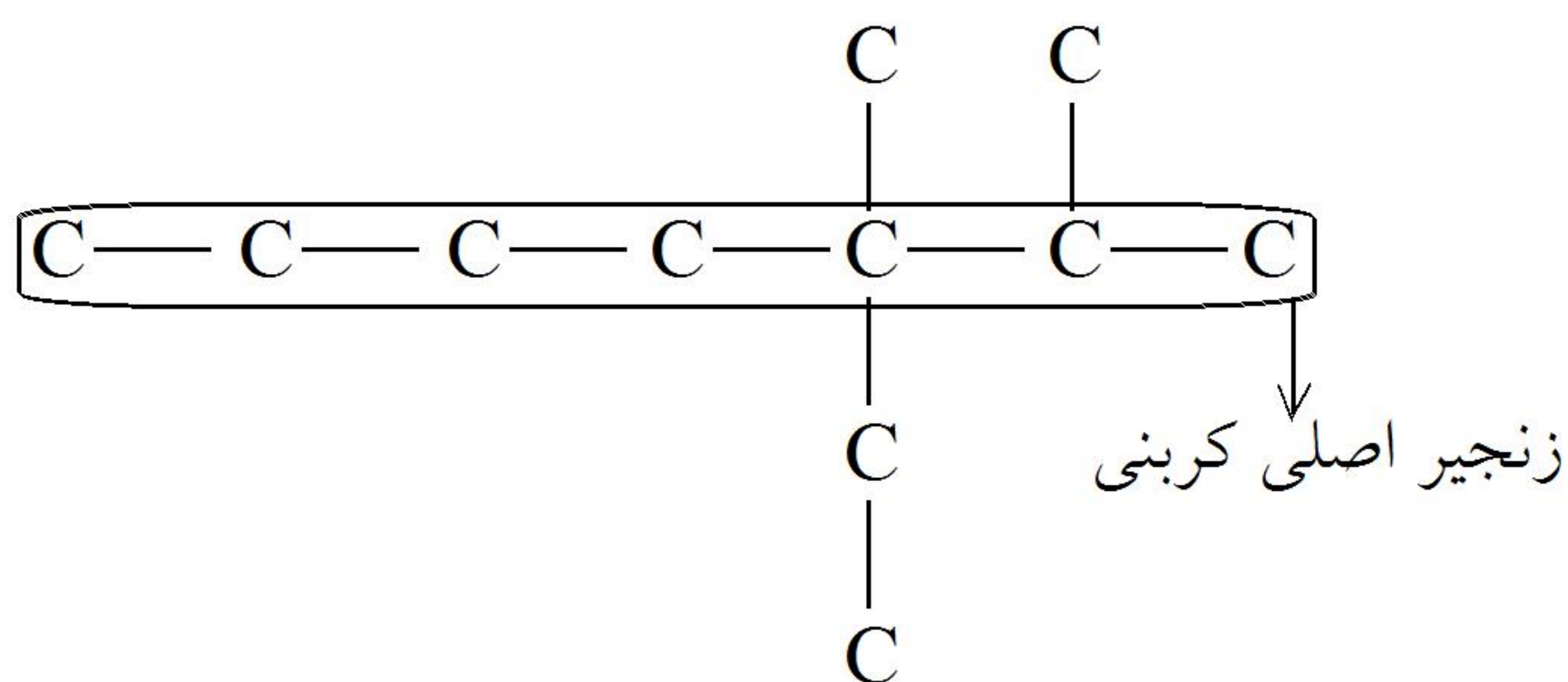
$$\text{بازده درصدی} = \frac{0/125}{0/02} \times 100 = \%62/5$$

۱۲- کدام دو فرمول ساختاری به یک آلکان مربوط اند؟



(۱) آ، ب (۲) آ، ت (۳) پ، ت (۴) ب، پ

گزینه ۲ پاسخ صحیح است. اگر هر یک از دو ترکیب (آ) و (ت) را بدون اتم‌های H رسم کنیم، به صورت زیر خواهند بود:



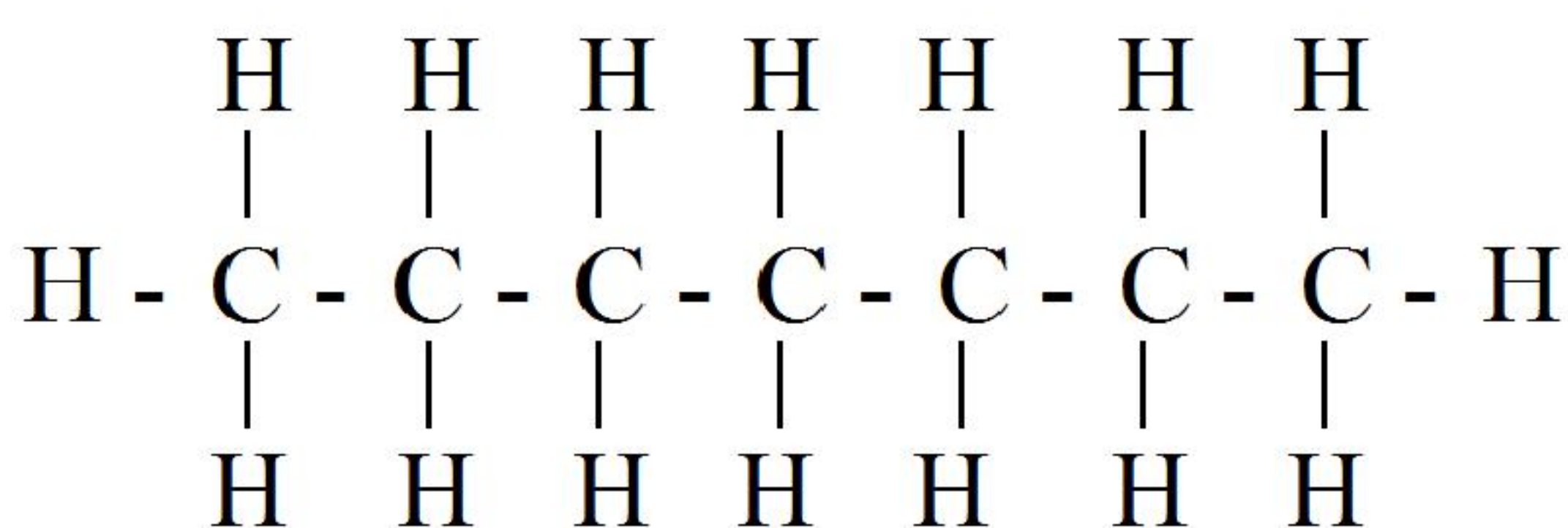
۱۳- فرمول مولکولی هپتان، کدام است و با کدام ترکیب ایزومر است و در مولکول آن چند جفت الکترون پیوندی شرکت دارد؟

- (۱)  $\text{C}_7\text{H}_{16}$  و ۲، ۳ - تری‌متیل بوتان و ۲۱  
 (۲)  $\text{C}_7\text{H}_{16}$  و ۳ - اتیل پنتان و ۲۲  
 (۳)  $\text{C}_7\text{H}_{14}$  و ۲، ۳، ۳ - تری‌متیل بوتان و ۲۲  
 (۴)  $\text{C}_7\text{H}_{14}$  و ۳ - اتیل پنتان و ۲۱

گزینه ۲ پاسخ صحیح است.

هپتان  $\text{C}_7\text{H}_{16}$

هپتان با ۳ - اتیل پنتان ایزومر است.



توجه: تعداد پیوند کووالانسی در یک آلکان n کربنی، برابر  $(3n + 1)$  است. (n تعداد اتم کربن است). پس دارای ۲۲ پیوند است.

۱۴- از واکنش ۳۰ گرم لیتیم پراکسید با خلوص ۸۰٪ با کربن دی‌اکسید، در صورتی که بازده درصدی واکنش ۹۲٪ باشد،

چند لیتر اکسیژن با چگالی  $1/6 \text{ g.L}^{-1}$  حاصل می‌شود؟

(۱) ۹/۶ (۲) ۴/۸ (۳) ۶ (۴) ۵/۲۲

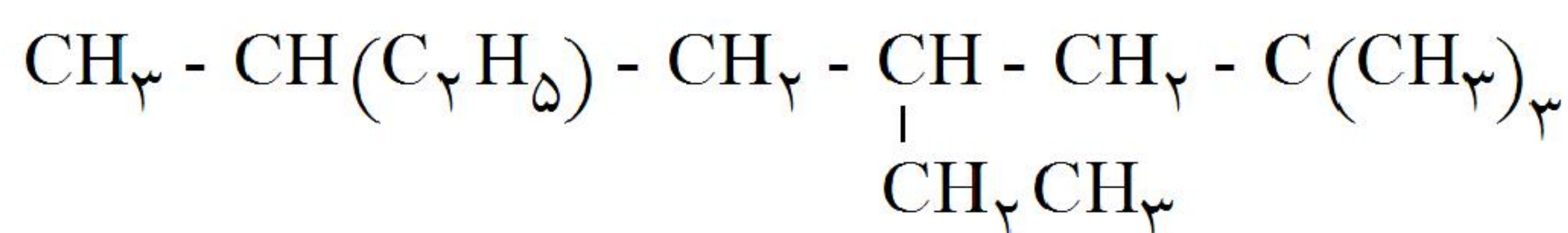
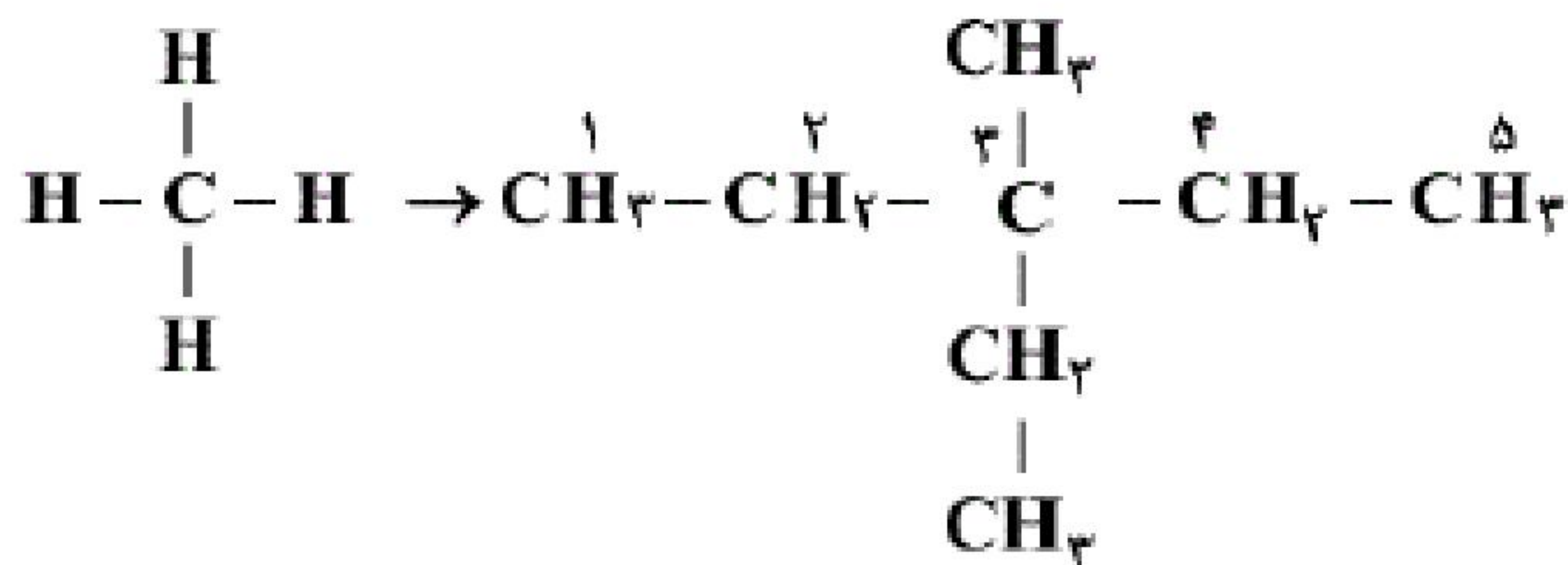
گزینه ۲ پاسخ صحیح است.

$$2\text{Li}_2\text{O}_2 + 2\text{CO}_2 \rightarrow 2\text{Li}_2\text{CO}_3 + \text{O}_2$$

$$? \text{ LO}_2 = 30 \text{ gLi}_2\text{O}_2 \times \frac{\text{خالص } 80 \text{ gLi}_2\text{O}_2}{100 \text{ gLi}_2\text{O}_2 \text{ ناخالص}} \times \frac{1 \text{ mol Li}_2\text{O}_2}{46 \text{ gLi}_2\text{O}_2}$$

$$\times \frac{1 \text{ mol O}_2}{2 \text{ mol Li}_2\text{O}_2} \times \frac{32 \text{ gO}_2}{1 \text{ mol O}_2} \times \frac{1 \text{ LO}_2}{1/6 \text{ gO}_2} \times \frac{92}{100} = 4/8 \text{ LO}_2$$

۱۵- اگر به جای ۴ اتم H در ساختار متان، یک عامل متیل و ۳ عامل اتیل جانشین شود، نام ماده‌ی حاصل کدام خواهد شد؟  
 (۱) ۲- اتیل، ۳- متیل پنتان (۲) ۳- اتیل، ۲- متیل پنتان (۳) ۳- اتیل، ۳- متیل پنتان (۴) ۳- اتیل، ۳- متیل هگزان  
 گزینه‌ی ۳ پاسخ صحیح است. ۳- اتیل، ۳- متیل پنتان



۱۶- نام آیوپاک هیدروکربن مقابل کدام است؟

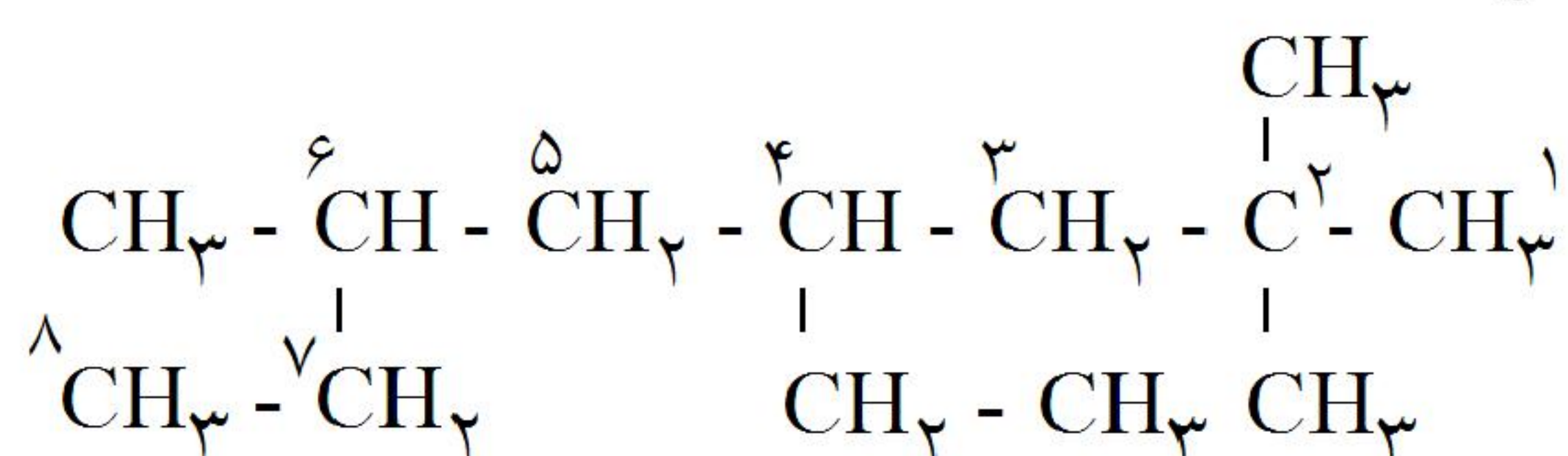
(۲) ۴، ۶- دی اتیل - ۲، ۲- دی متیل هپتان

(۱) ۵- اتیل - ۳، ۷، ۷- تری متیل اوکتان

(۴) ۲، ۴- دی اتیل - ۶، ۶- دی متیل هپتان

(۳) ۴- اتیل - ۲، ۲، ۶- تری متیل اوکتان

گزینه‌ی ۳ پاسخ صحیح است. نام آیوپاک: ۴- اتیل - ۲، ۲، ۶- تری متیل اوکتان



توجه داشته باشید که شماره گذاری زنجیره‌ی اصلی از سمتی انجام می‌شود که شماره‌ی شاخه‌های فرعی کوچک‌تر شود.

۱۷- یکی از سوخت‌هایی که سال‌ها پیش در موشک‌سازی به کار می‌رفت، مخلوطی متشکل از دو مایع هیدرازین ( $N_2H_4$ ) و دی‌نیتروژن تترااکسید ( $N_2O_4$ ) بوده است که در اثر تماس، آتش گرفته و دو گاز نیتروژن و بخار آب را تولید می‌کند. اگر  $6/4$  گرم هیدرازین با  $18/4$  گرم دی‌نیتروژن تترااکسید مخلوط شوند و  $5600$  میلی‌لیتر گاز نیتروژن در شرایط STP به دست آید، بازده درصدی این واکنش تقریباً کدام است؟

( $O = 16, N = 14, H = 1 : g \cdot mol^{-1}$ )

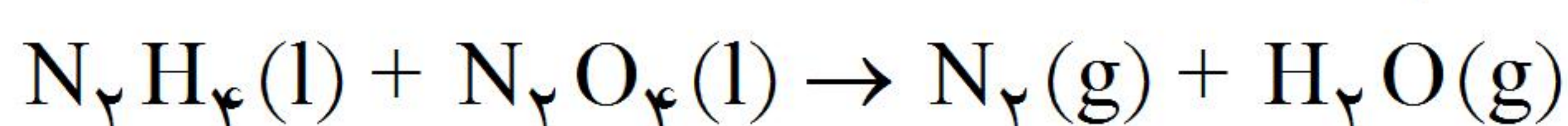
۸۳/۳۳ (۴)

۴۱/۶۶ (۳)

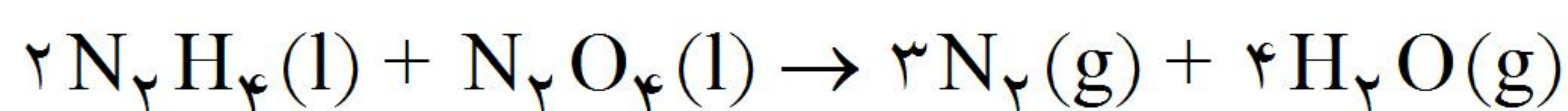
۱۶/۶۶ (۲)

۸/۳۳ (۱)

گزینه‌ی ۴ پاسخ صحیح است. با توجه به راهنمایی‌های متن سؤال می‌توانیم معادله واکنش را نوشته و موازنه کنیم یعنی سؤال به ما گفته که  $N_2H_4$  و  $N_2O_4$  واکنش‌دهنده‌ها و  $N_2$  و  $H_2O$  فراورده هستند.



حال واکنش را موازنه می‌کنیم:



اکنون می‌توانیم واکنش‌دهنده‌ی محدودکننده را مشخص کنیم:

$$? \text{ mol } N_2H_4 = 6/4 \text{ g } N_2H_4 \times \frac{1 \text{ mol } N_2H_4}{32 \text{ g } N_2H_4} = 0/2 \text{ mol } N_2H_4 \rightarrow \frac{0/2 \text{ mol}}{2} = 0/1 \text{ mol } N_2H_4$$

$$? \text{ mol } N_2O_4 = 18/4 \text{ g } N_2O_4 \times \frac{1 \text{ mol } N_2O_4}{92 \text{ g } N_2O_4} = 0/2 \text{ mol } N_2O_4 \rightarrow \frac{0/2 \text{ mol}}{1} = 0/2 \text{ mol } N_2O_4$$

پس  $N_2H_4$  محدودکننده است.

$$0/2 \text{ mol } N_2H_4 \times \frac{3 \text{ mol } N_2}{2 \text{ mol } N_2H_4} \times \frac{22400 \text{ mL } N_2}{1 \text{ mol } N_2} = 6720 \text{ mL } N_2$$

که این عدد، مقدار نظری است و مقدار عملی واکنش  $5600$  میلی‌لیتر  $N_2$  است، برای تعیین بازدهی درصدی خواهیم داشت:

$$\text{بازده درصدی واکنش} = \frac{\text{مقدار عملی}}{\text{مقدار نظری}} \times 100 = \frac{5600}{6720} \times 100 \approx 83/33\%$$

۱۸- در کدام هیدروکربن زیر، ۴ گروه یکسان به یک اتم کربن متصل شده‌اند؟

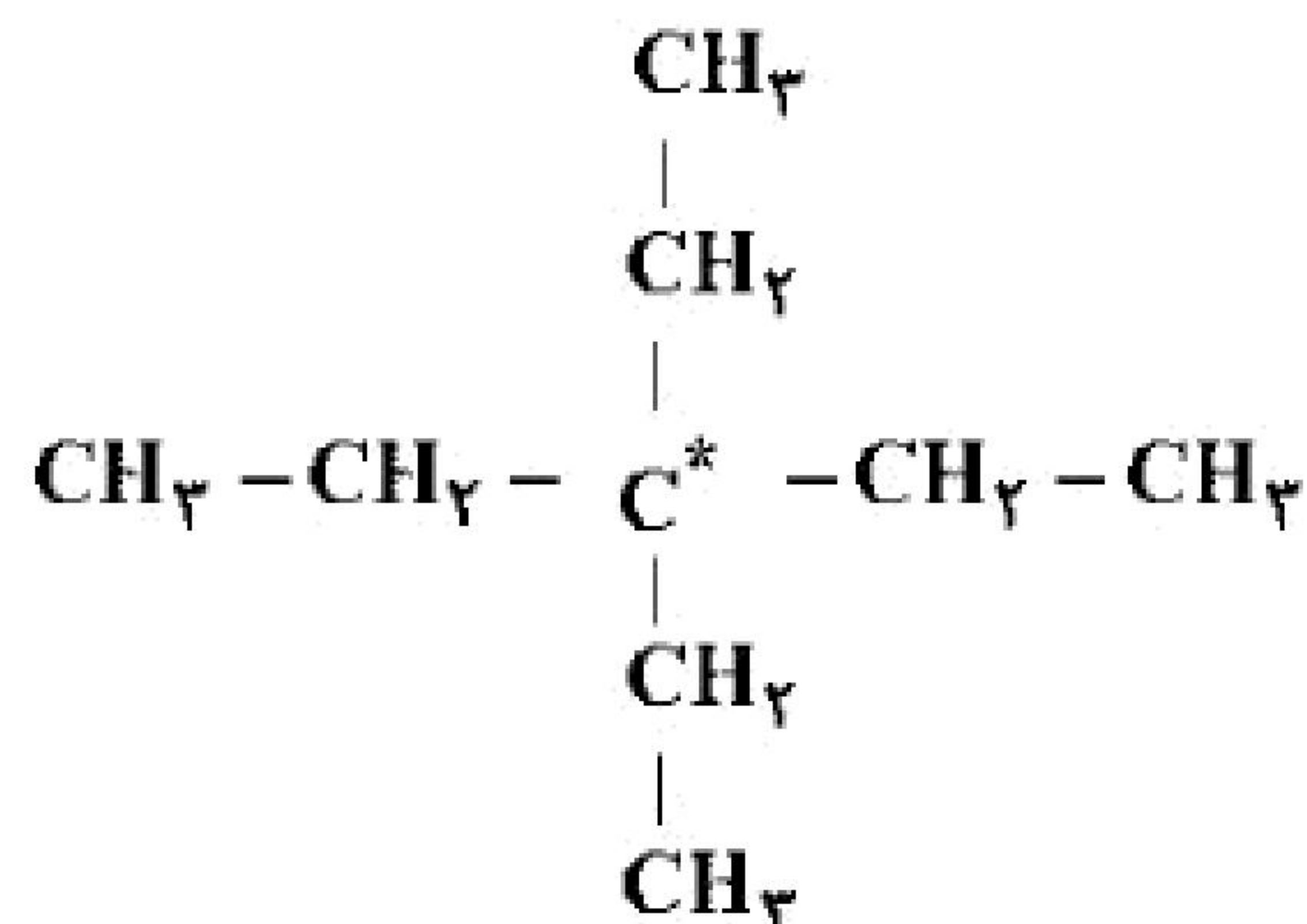
(۱) ۲، ۲ - دی‌متیل بوتان

(۲) ۳، ۳ - دی‌اتیل پنتان

(۳) ۲، ۳ - دی‌متیل بوتان

(۴) ۳، ۴ - دی‌اتیل پنتان

گزینه‌ی ۲ پاسخ صحیح است. اگر ساختار ۳، ۳- دی‌اتیل پنتان را رسم کنیم، می‌توان دریافت که ۴ گروه اتیل ( $-CH_2 - CH_3$ ) به یک اتم کربن متصل شده‌اند.

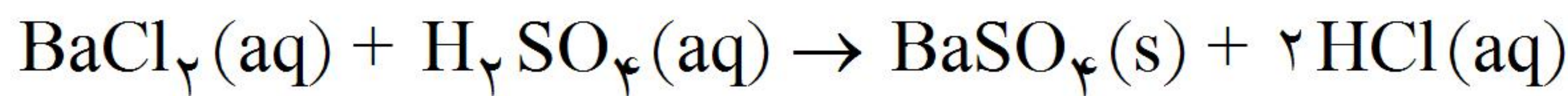




۲۲- اگر در واکنش ۰/۰۰۵ مول باریم کلرید با سولفوریک اسید، ۹۷۸/۶ میلی‌گرم باریم سولفات نامحلول در آب تشکیل شود، بازده درصدی این واکنش، کدام است؟  
 (Ba = ۱۳۷, Cl = ۳۵/۵, S = ۳۲, O = ۱۶ : g. mol<sup>-1</sup>)

(۱) ۷۶ (۲) ۸ (۳) ۷۸ (۴) ۸۴

گزینه‌ی ۴ پاسخ صحیح است. واکنش انجام شده:



اکنون مقدار نظری BaSO<sub>۴</sub> تولیدی را به دست می‌آوریم:

$$0.005 \text{ mol BaCl}_2 \times \frac{1 \text{ mol BaSO}_4}{1 \text{ mol BaCl}_2} \times \frac{233 \text{ g BaSO}_4}{1 \text{ mol BaSO}_4} = 1165 \text{ mg BaSO}_4$$

به کمک رابطه‌ی زیر، بازده درصدی واکنش به دست می‌آید:

$$\text{بازده درصدی واکنش} = \frac{\text{مقدار عملی}}{\text{مقدار نظری}} \times 100 = \frac{978.6}{1165} \times 100 = 84\%$$

۲۳- اگر هر کیلوگرم از یک نمونه آب فاضلاب دارای ۰/۰۰۴ گرم یون Hg<sup>۲+</sup> باشد، از واکنش سدیم کلرید اضافی با یک تن از این نمونه آب، چند گرم رسوب Hg<sub>۲</sub>Cl<sub>۲</sub> به دست می‌آید، در صورتی‌که بازده درصدی واکنش برابر ۹۰

درصد باشد؟ (Cl = ۳۵/۵, Hg = ۲۰۰ : g. mol<sup>-1</sup>)

(۱) ۴/۲۳۹ (۲) ۴/۷۱ (۳) ۴/۵۵۲ (۴) ۵/۲۳۳

گزینه‌ی ۱ پاسخ صحیح است. بر اثر مصرف هر مول یون Hg<sup>۲+</sup>، یک مول رسوب Hg<sub>۲</sub>Cl<sub>۲</sub> تولید می‌شود.

$$\text{جرم رسوب} = 1000 \text{ kg} \times \frac{0.004 \text{ g Hg}^{2+}}{1 \text{ kg}} \times \frac{1 \text{ mol Hg}^{2+}}{2 \times 200 \text{ g Hg}^{2+}} \times \frac{1 \text{ mol Hg}_2\text{Cl}_2}{1 \text{ mol Hg}^{2+}} \times \frac{471 \text{ g Hg}_2\text{Cl}_2}{1 \text{ mol Hg}_2\text{Cl}_2}$$

$$\times \frac{90}{100} = 4.239 \text{ g}$$

۲۴- اگر تفاوت شمار پروتون‌ها و نوترون‌های اتم عنصر <sup>۸۹</sup>A برابر با ۱۱ باشد، کدام گزینه درباره‌ی این عنصر نادرست است؟

(۱) نماد یون پایدار آن A<sup>۲+</sup> است.

(۲) هم‌خانواده‌ی عنصر Se<sub>۲۱</sub> است.

(۳) در آرایش الکترونی پایه‌ی آن، یک تک الکترون به چشم می‌خورد.

(۴) از فلز پتاسیم، چگال‌تر و دیرذوب‌تر است.

گزینه‌ی ۱ پاسخ صحیح است. با حل معادله‌ی زیر به تعداد پروتون‌ها (عدد اتمی) این عنصر می‌رسیم:

$$\begin{cases} n + p = 89 \\ n - p = 11 \end{cases}$$

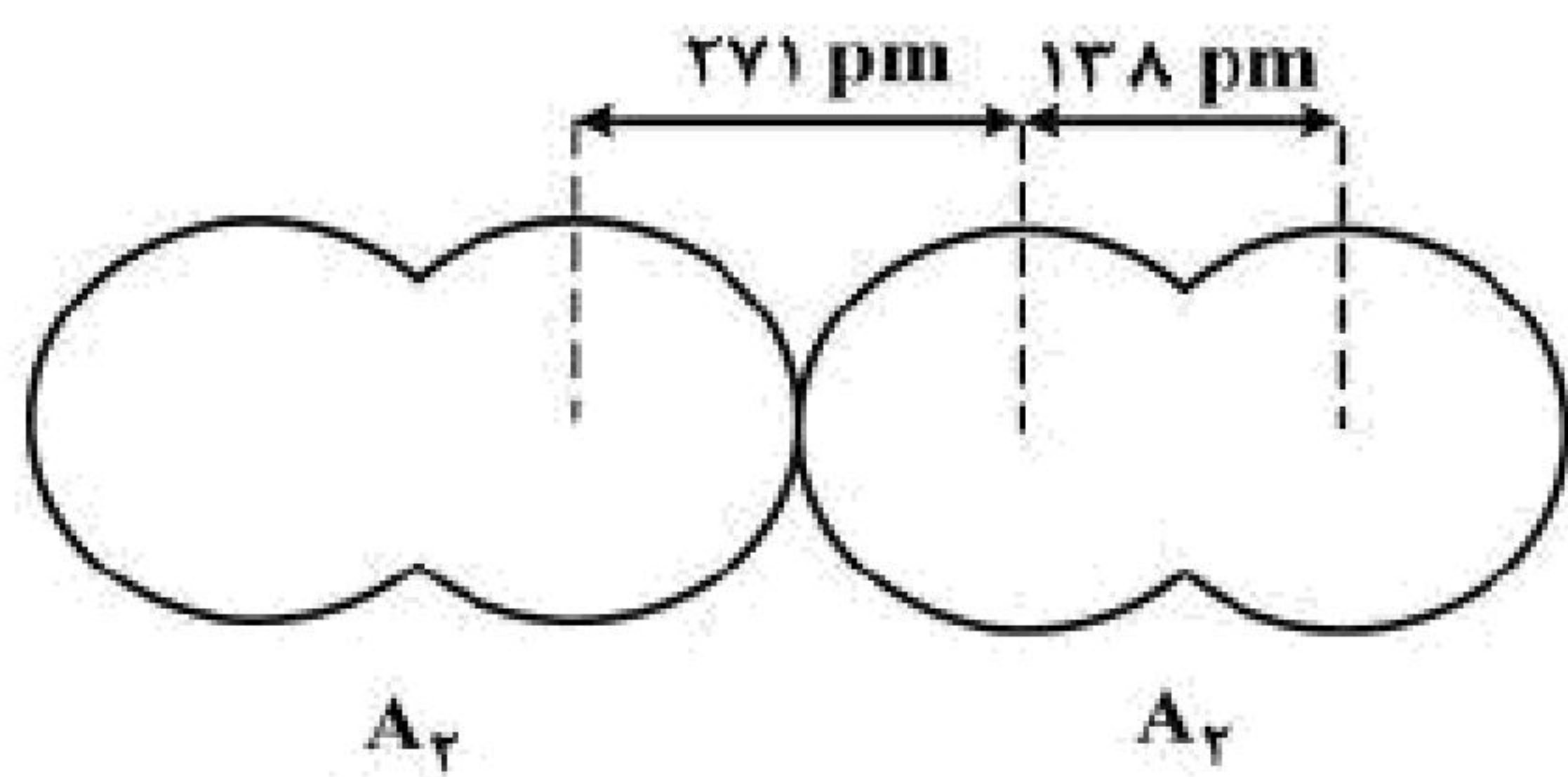
عدد اتمی آن ۳۹ است. پس سه خانه بعد از گاز نجیب Kr<sub>۳۶</sub> و در گروه ۳ قرار دارد. (هم گروه اسکاندیم)

این عنصر واسطه بوده و از پتاسیم و سایر فلزهای اصلی چگال‌تر و دیر ذوب‌تر است. در آرایش الکترونی آن یک تک الکترون در زیرلایه‌ی ۴d مشاهده می‌شود. اما برای رسیدن به آرایش پایدار گاز نجیب باید سه الکترون از دست بدهد و یون A<sup>۳+</sup> را بسازد.



۲۵- با توجه به شکل زیر، تفاوت شعاع کووالانسی و شعاع وان دروالسی

عنصر A، برابر چند pm است؟



(۱) ۵۶/۶

(۲) ۶۶/۵

(۳) ۱۳/۳

(۴) ۱۱/۳۲

گزینه ۲ پاسخ صحیح است.

$$\left. \begin{aligned} r_c &= \frac{138 \text{ pm}}{2} = 69 \text{ pm} \\ r_w &= \frac{271 \text{ pm}}{2} = 135.5 \text{ pm} \end{aligned} \right\} r_w - r_c = 135.5 - 69 = 66.5 \text{ pm}$$

۲۶- اگر جرم مولی یک آلکان ۲/۳۸٪ از جرم مولی آلکن نظیر خود (با شمار اتم‌های کربن یکسان) بیش تر باشد، فرمول

مولکولی این آلکان، کدام است؟ ( $C = 12, H = 1 : g \cdot mol^{-1}$ )

(۴)  $C_6H_{10}$

(۳)  $C_5H_{12}$

(۲)  $C_7H_{16}$

(۱)  $C_6H_{14}$

گزینه ۱ پاسخ صحیح است. با توجه به فرمول عمومی آلکان‌ها  $C_nH_{2n+2}$  و آلکن‌ها  $C_nH_{2n}$  معلوم می‌شود تفاوت

جرم آلکان و آلکن هم کربن برابر جرم ۲ اتم هیدروژن (۲g) است یعنی ۲/۳۸ درصد از جرم آلکن برابر ۲ گرم است.

$$14n \times \frac{2}{38} = 2 \Rightarrow n = 6 \Rightarrow C_6H_{14} \text{ آلکان}$$

۲۷- نام هیدروکربنی با فرمول  $C_7H_{16}CH(CH_3)CH(C_2H_5)CH(CH_3)CH_2CH(CH_3)$ ، کدام است؟

(۲) ۵- اتیل - ۲، ۴، ۶ - تری‌متیل اوکتان

(۱) ۵- اتیل - ۲، ۴، ۶ - تری‌متیل هپتان

(۴) ۴- اتیل - ۳، ۵، ۷ - تری‌متیل اوکتان

(۳) ۴- اتیل - ۳، ۵، ۷ - تری‌متیل هپتان

گزینه ۲ پاسخ صحیح است. زیرا، نام هیدروکربن پیشنهاد شده، ۵- اتیل - ۲، ۴، ۶ - تری‌متیل اوکتان است.

۲۸- اگر از واکنش سوختن یک مول گوگرد، در نهایت ۶۷/۲g گاز گوگرد تری‌اکسید به دست آید، بازده درصد واکنش،

کدام است؟ ( $S = 32, O = 16 : g \cdot mol^{-1}$ )


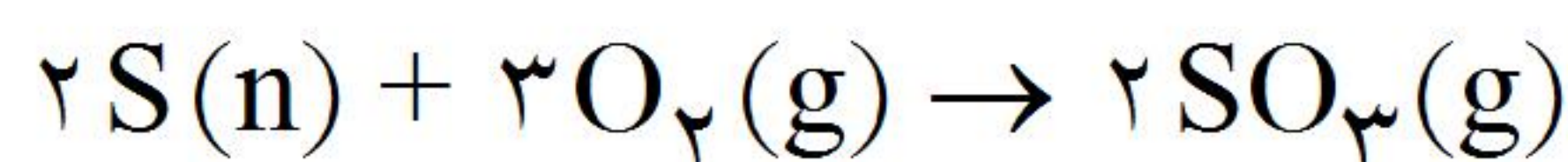
(۴) ۹۵

(۳) ۸۴

(۲) ۹۰

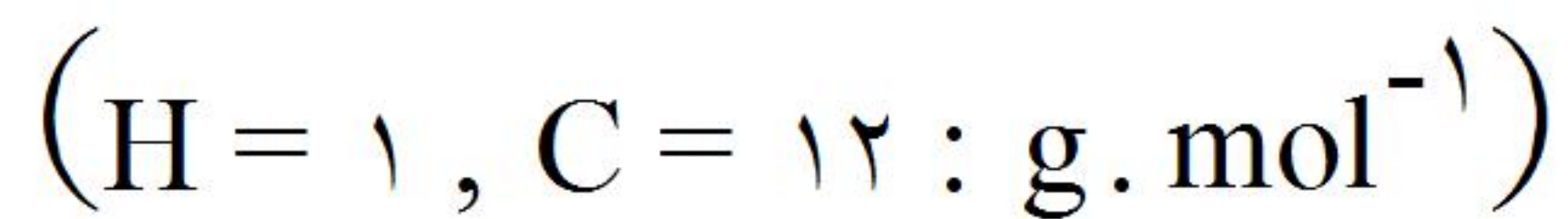
(۱) ۸۰

گزینه ۳ پاسخ صحیح است. زیرا، می‌توان نوشت:



$$\text{بازده درصدی} = \frac{67/2 \text{ g}}{80 \text{ g}} \times 100 = 84\%$$

۲۹- اگر ۳/۳۶ لیتر مخلوط شامل گازهای اتین و متان در شرایط STP در واکنش کامل در مجاورت کاتالیزگر مناسب، ۰/۴ گرم گاز هیدروژن جذب کند، نسبت جرمی اتین به متان در این مخلوط کدام است؟



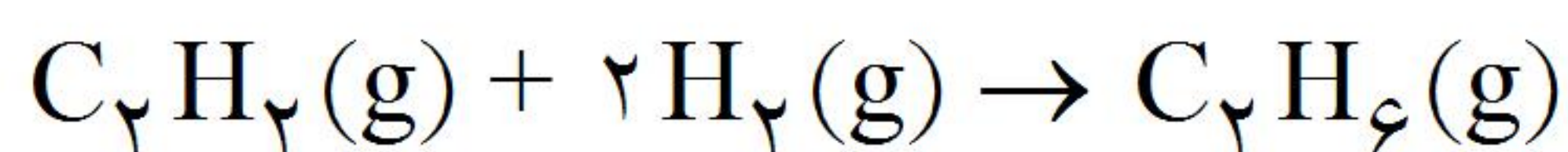
۳/۵ (۴)

۳/۲۵ (۳)

۲/۵ (۲)

۲/۲۵ (۱)

گزینه ۳ پاسخ صحیح است. زیرا، می توان نوشت:



$$x \cdot \frac{22}{4} LC_2H_2 + \frac{0}{4} gH_2 \rightarrow x = \frac{0/4 gH_2 \times 22/4 LC_2H_2}{4 gH_2} = 2/24 LC_2H_2$$

$$3/36 L - 2/24 L = 1/12 LC_2H_2$$

$$\left. \begin{aligned} \frac{2/24 LC_2H_2 \times 26 g}{22/4 L} &= 2/6 gC_2H_2 \\ \frac{1/12 L \times 16 gCH_4}{22/4 L} &= 0/8 gCH_4 \end{aligned} \right\} \rightarrow \frac{2/6 g}{0/8 g} = 3/25$$

۳۰- نام هیدروکربنی با فرمول  $(CH_3)_2CCH(CH_2)_2CH(CH_2CH_3)CH_3$  کدام است؟

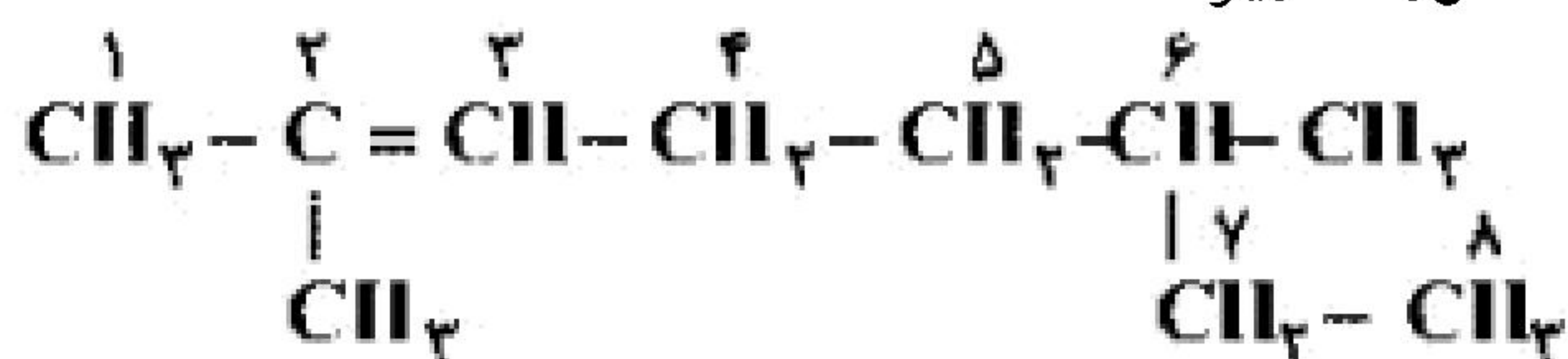
(۲، ۶ - دی متیل اوکتان)

(۱، ۳، ۷ - دی متیل - ۶ - اوکتن)

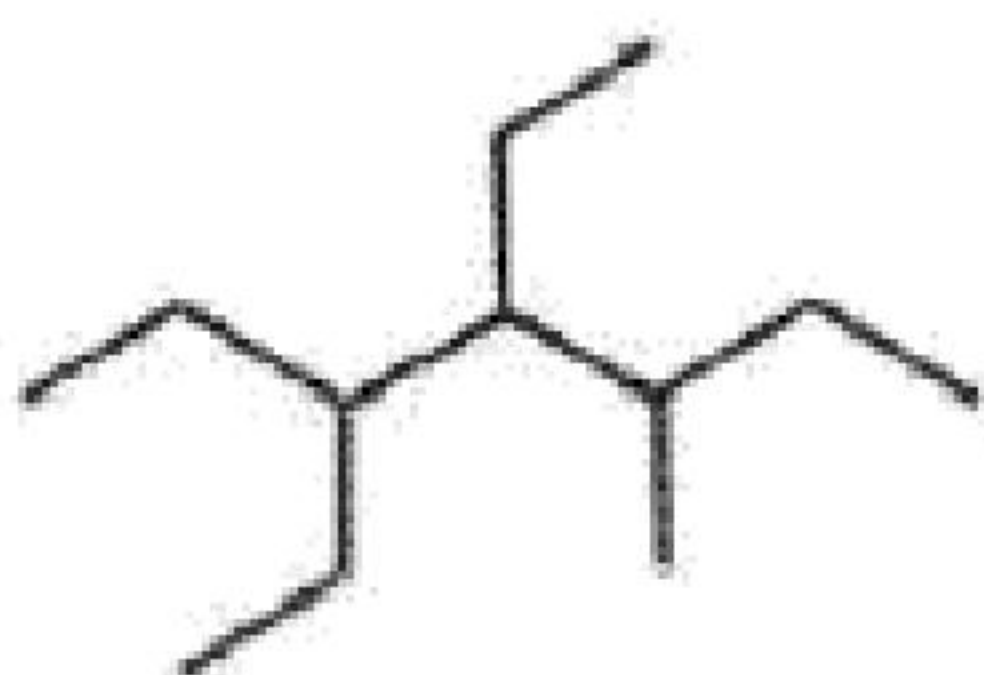
(۳، ۷ - دی متیل اوکتان)

(۲، ۶ - دی متیل - ۲ - اوکتن)

گزینه ی ۳ پاسخ صحیح است. فرمول گسترده ترکیب داده شده به صورت زیر است:



۲، ۶ - دی متیل - ۲ - اوکتن



۳۱- نام ترکیب مقابل به روش آیوپاک چیست؟

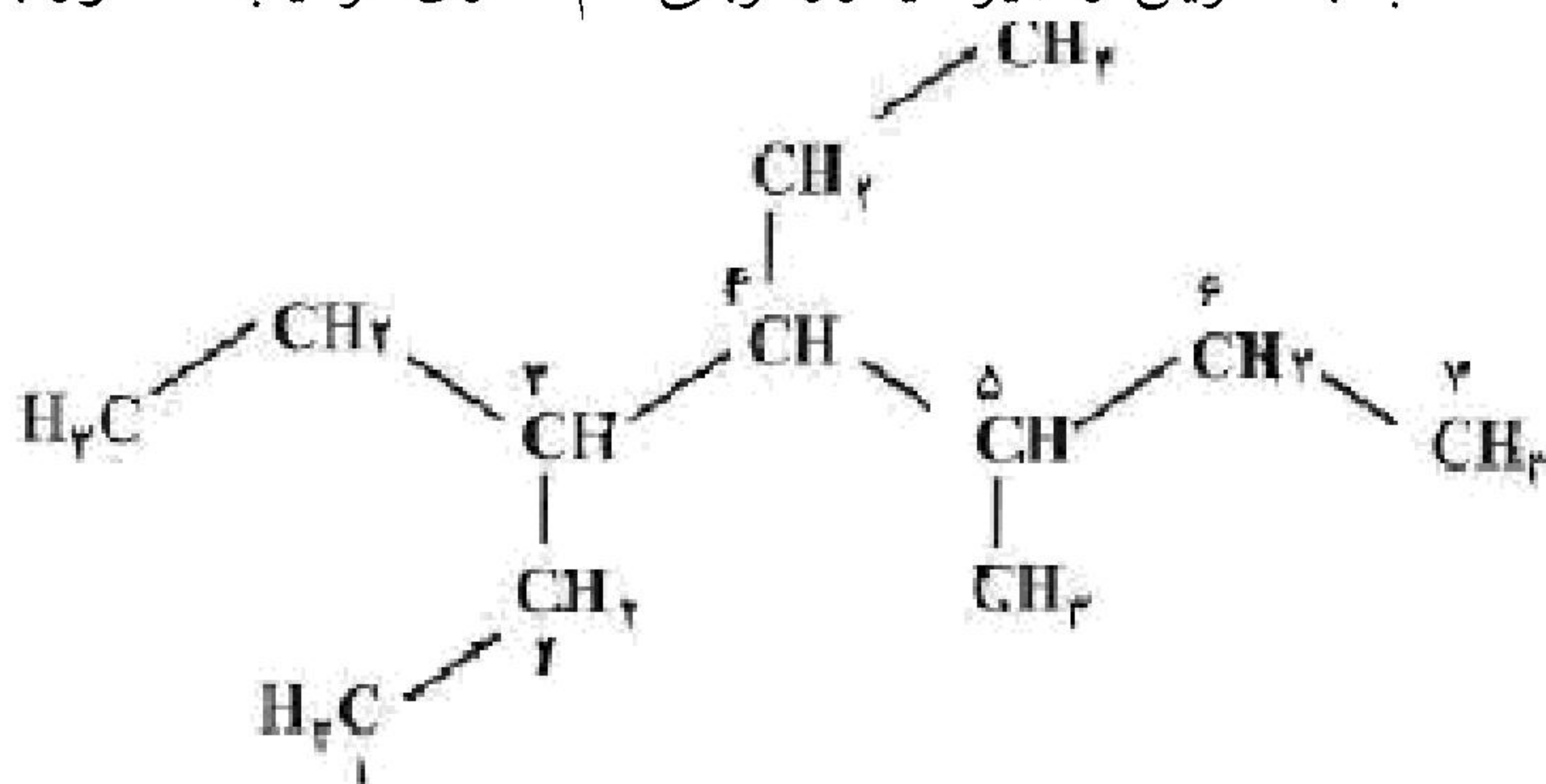
(۱، ۳، ۴ - دی اتیل - ۵ - متیل هپتان)

(۲، ۴، ۵ - دی اتیل - ۳ - متیل هپتان)

(۳، ۶ - دی متیل - ۴ - اتیل اکتان)

(۴، ۴ - اتیل - ۳ - ۶ - دی متیل اکتان)

گزینه ی ۱ پاسخ صحیح است. با انتخاب بلندترین زنجیر هیدروکربنی نام گذاری ترکیب مذکور به صورت زیر است:



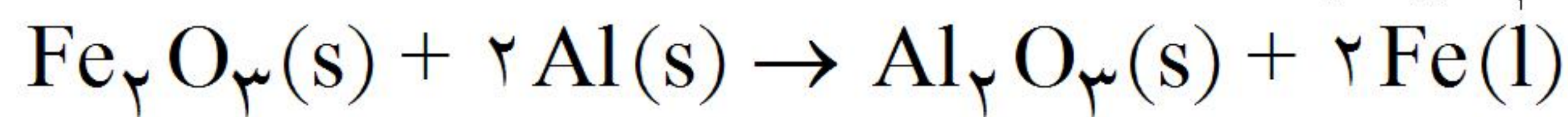
۳، ۴، ۵ - دی اتیل - ۵ - متیل هپتان

۳۲- چند گرم آلومینیم اکسید، از واکنش ۲۷۰ گرم آلومینیم (با خلوص ۷۰٪) با مقدار کافی از آهن (III) اکسید خالص در

واکنش ترمیت با بازده ۹۰٪ تولید می‌شود؟  $(O = ۱۶, Al = ۲۷, Fe = ۵۶ : g \cdot mol^{-1})$

۳۲۱/۳ (۱) ۳۵۷ (۲) ۴۵۹ (۳) ۴۸۹/۷ (۴)

گزینه‌ی ۱ پاسخ صحیح است. واکنش ترمیت به صورت زیر انجام می‌شود:



مقدار  $Al_2O_3$  در شرایط مسئله عبارتست از:

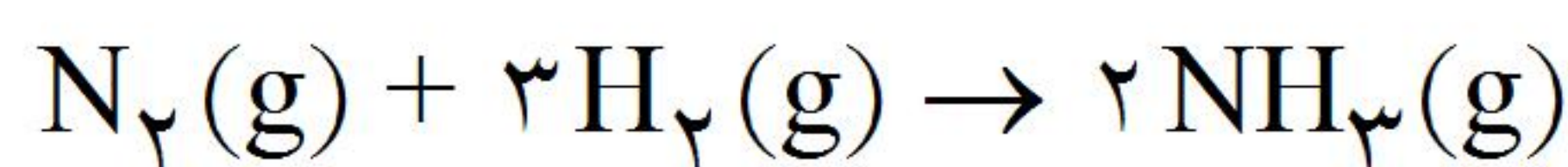
$$270 \text{ g Al خالص} \times \frac{70 \text{ g Al خالص}}{100 \text{ g Al خالص}} \times \frac{1 \text{ mol Al}}{27 \text{ g Al}} \times \frac{1 \text{ mol } Al_2O_3}{2 \text{ mol Al}} \times \frac{102 \text{ g } Al_2O_3}{1 \text{ mol } Al_2O_3} \times \frac{90}{100} = 321/3 \text{ g } Al_2O_3$$

۳۳- اگر مخلوطی از ۱۲ گرم گاز هیدروژن و ۴۲ گرم گاز نیتروژن در شرایط مناسب با هم واکنش دهند، چند مول گاز

آمونیاک تشکیل می‌شود، در صورتی که بازده درصدی واکنش ۶۰٪ باشد؟  $(H = ۱, N = ۱۴ : g \cdot mol^{-1})$

۱/۶ (۱) ۱/۸ (۲) ۲/۴ (۳) ۲/۶ (۴)

گزینه ۲ پاسخ صحیح است. زیرا، داریم:



$$\frac{12 \text{ g } H_2}{2 \text{ g} \cdot \text{mol}^{-1}} = 6 \text{ mol } H_2 : 3 = 2 \text{ mol } H_2, \quad \frac{42 \text{ g } N_2}{28 \text{ g} \cdot \text{mol}^{-1}} = 1.5 \text{ mol } N_2$$

پس  $N_2$  واکنش دهنده محدودکننده است و می‌توان نوشت:

$$\frac{1 \text{ mol } N_2}{1.5 \text{ mol } N_2} \times \frac{2 \text{ mol } NH_3}{x} \Rightarrow x = \frac{1.5 \text{ mol } N_2 \times 2 \text{ mol } NH_3}{1 \text{ mol } N_2} = 3 \text{ mol } NH_3$$

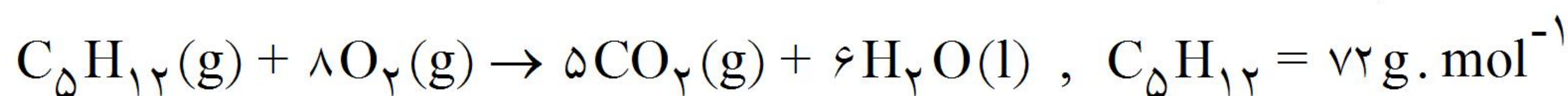
$$3 \text{ mol } NH_3 \times 0.6 = 1.8 \text{ mol } NH_3$$

۳۴- از سوختن کامل ۱۴/۴ گرم گاز پنتان، چند لیتر گاز کربن دی‌اکسید در شرایط STP تولید می‌شود؟

$(C = ۱۲, H = ۱ : g \cdot mol^{-1})$

۴۴/۸ (۴) ۲۲/۴ (۳) ۱۱/۲ (۲) ۵/۶ (۱)

گزینه ۳ پاسخ صحیح است. زیرا، داریم:



$$1 \text{ mol پنتان} \quad 5 \times 22/4 \text{ L } CO_2$$

$$0.2 \text{ mol پنتان} \quad x$$

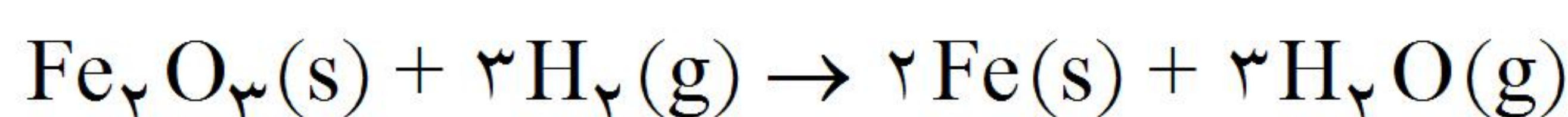
$$x = \frac{0.2 \text{ mol} \times 5 \times 22/4 \text{ L } CO_2}{1 \text{ mol}} = 22/4 \text{ L } CO_2$$

۳۵- اگر در واکنش ۸ گرم  $Fe_2O_3$  با گاز هیدروژن کافی، ۴/۶۲ گرم فلز آهن آزاد شود، بازده درصد واکنش، کدام

است؟  $(O = ۱۶, Fe = ۵۶ : g \cdot mol^{-1})$

۸۵ (۴) ۸۲/۵ (۳) ۸۱/۵ (۲) ۹۱/۵ (۱)

گزینه ۳ پاسخ صحیح است. زیرا، داریم:



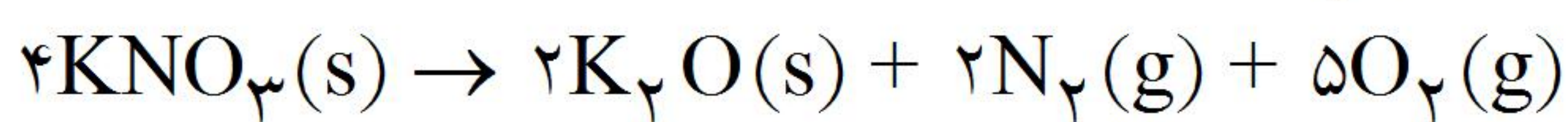
$$160 \text{ g } Fe_2O_3 \quad 2 \times 56 \text{ g } Fe$$

$$8 \text{ g } Fe_2O_3 \quad x$$

$$x = \frac{8 \text{ g } Fe_2O_3 \times 2 \times 56 \text{ g } Fe}{160 \text{ g } Fe_2O_3} = 5/6 \text{ g } Fe$$

$$\frac{4/62 \text{ g}}{5/6 \text{ g}} \times 100 = \%82/5$$

۳۶- اگر ۱۲/۱۲ گرم پتاسیم نترات در دمای  $612^{\circ}\text{C}$  تجزیه شود و  $0/141$  مول گاز اکسیژن آزاد شود، بازده درصدی این واکنش کدام است؟  $(\text{N} = 14, \text{O} = 16, \text{K} = 39 : \text{g.mol}^{-1})$



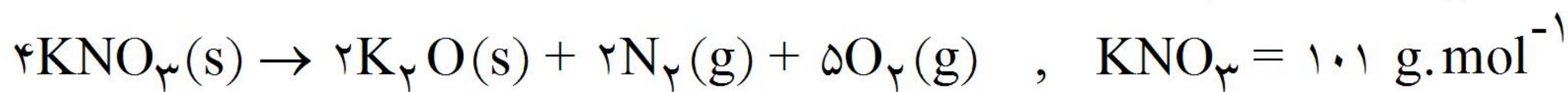
۹۴ (۴)

۹۲ (۳)

۸۴ (۲)

۸۲ (۱)

گزینه‌ی ۴ پاسخ صحیح است. پتاسیم نترات در دمای بالاتر از  $500^{\circ}\text{C}$  مطابق واکنش زیر تجزیه می‌شود، داریم:

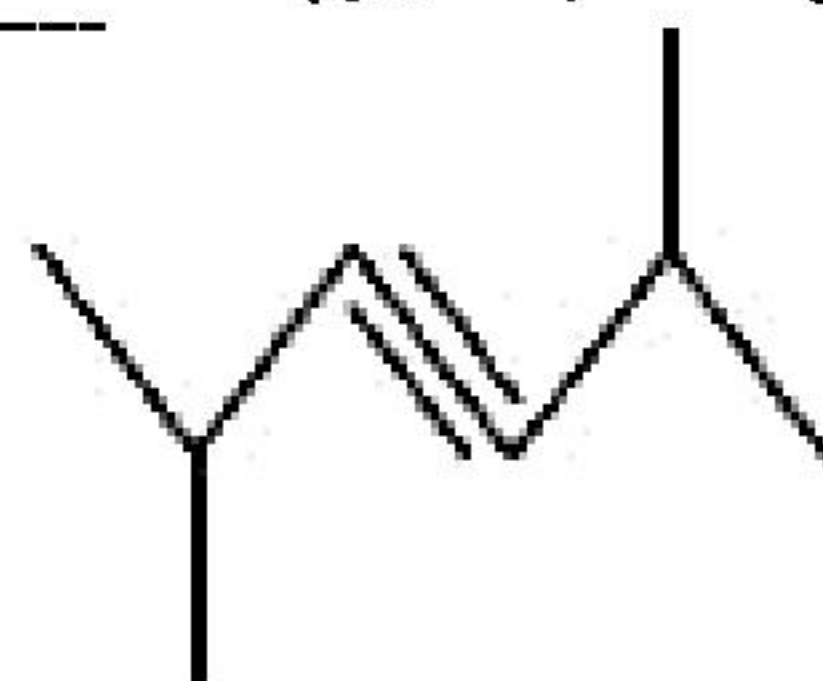


$$\frac{4 \times 101 \text{ gKNO}_3}{12/12 \text{ g KNO}_3} \times \frac{5 \text{ mol O}_2}{x} \Rightarrow x = \frac{12/12 \text{ gKNO}_3 \times 5 \text{ mol O}_2}{4 \times 101 \text{ g KNO}_3} = 0/15 \text{ mol O}_2 \text{ (مقدار نظری)}$$

$$\text{بازده درصدی} = \frac{0/141 \text{ mol O}_2 \times 100}{0/15 \text{ mol O}_2} = 94\%$$

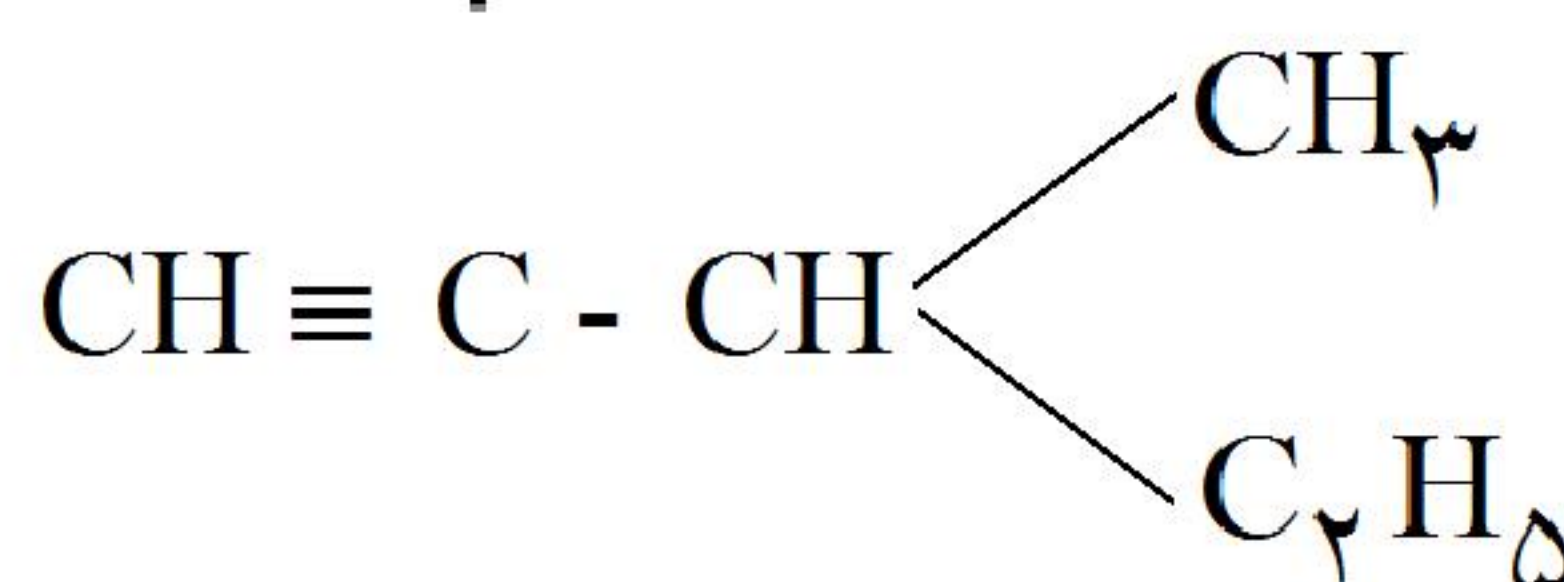
۳۷- چند مورد از نام‌گذاری‌های زیر برحسب آیوپاک نادرست است؟ (A و B محصولات واکنش می‌باشند).

(ب) ۲- برمواتان:  $\text{a} \rightarrow \text{HBr} + \text{اتن}$



(الف) ۲، ۵ دی‌متیل ۳-هگزین:

(ت) کلرواتن:  $\text{B} \rightarrow \text{HCl}(\text{g}) + \text{استیلن}$



(ج) ۳-اتیل - ۱-بوتین:

۱ (۴)

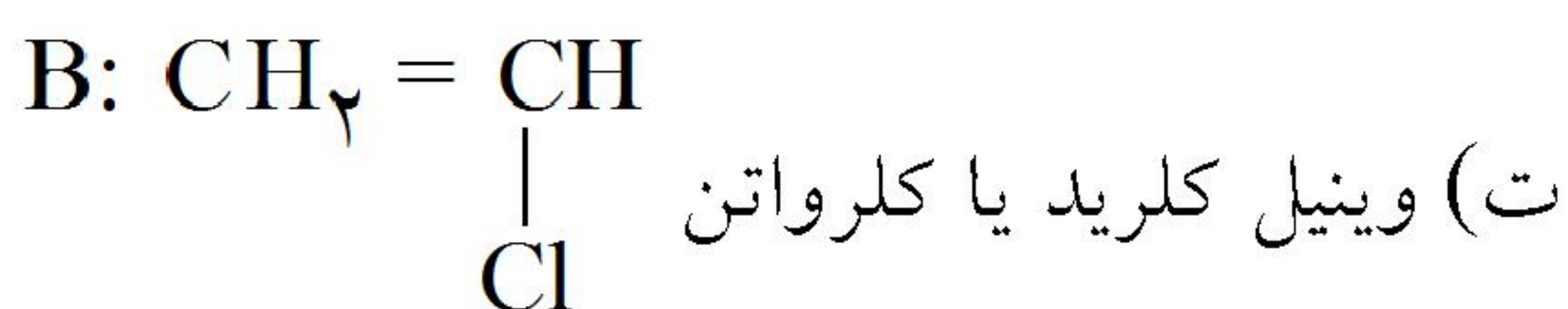
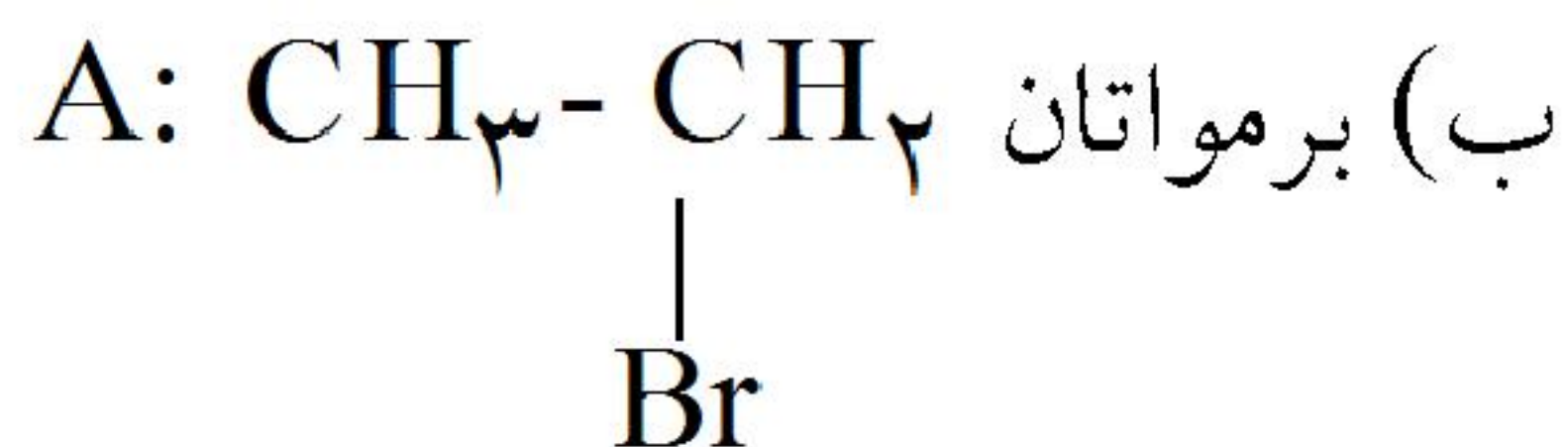
۲ (۳)

۳ (۲)

۴ (۱)

گزینه ۳ پاسخ صحیح است.

(الف) ۲، ۵ - دی‌متیل ۳ - هگزین



(پ) ۳ - متیل - ۱ - پنتین

۳۸- کدام نام برای یک آلکان درست است؟

(۱) ۲ و ۵ - دی‌متیل پنتان

(۳) ۳ - پروپیل - ۲ و ۴ - دی‌متیل پنتان

(۲) ۴ - اتیل - ۲ - متیل پنتان

(۴) ۳ - اتیل - ۲ و ۴ - دی‌متیل پنتان

گزینه ۴ پاسخ صحیح است.

گزینه‌ی ۱: در پنتان شاخه‌ی فرعی آلکیل در موقعیت ۱ و ۵ قرار نمی‌گیرد.

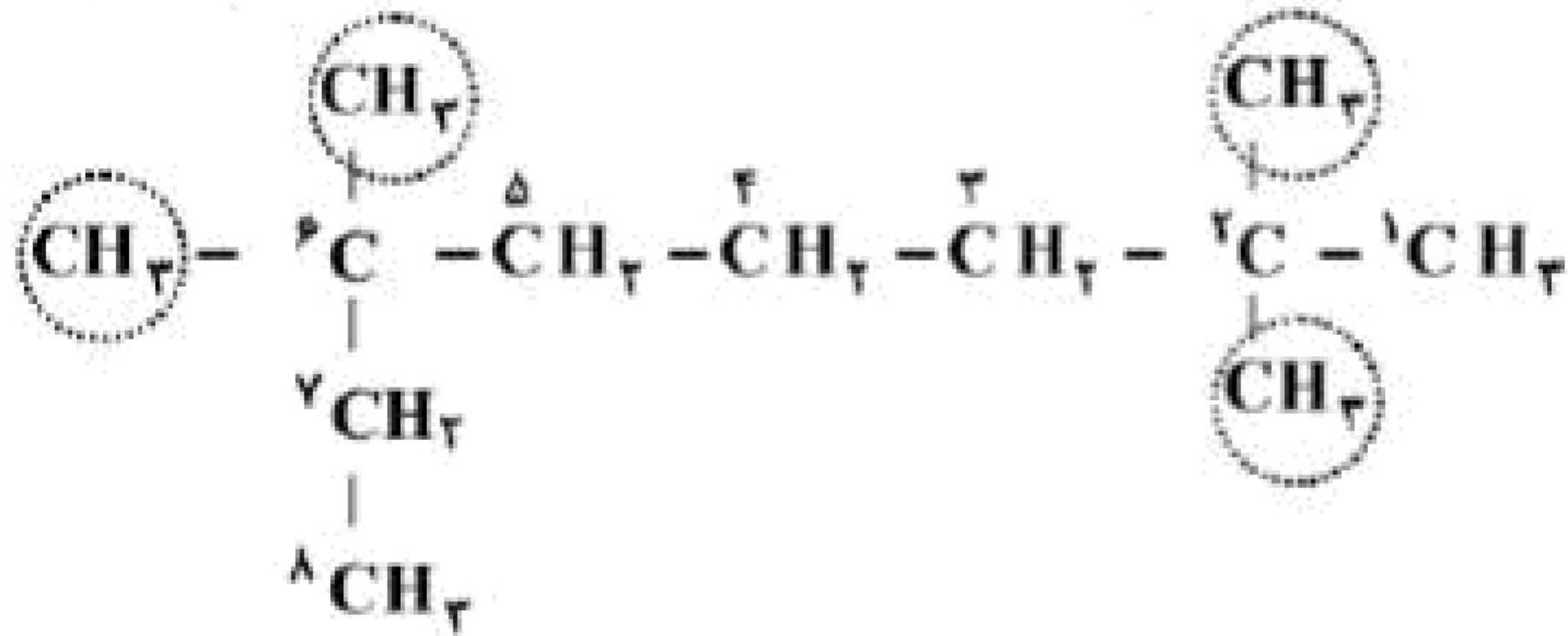
گزینه‌ی ۲: در پنتان شاخه‌ی فرعی اتیل در موقعیت ۲ و ۴ قرار نمی‌گیرد.

گزینه‌ی ۳: پروپیل به عنوان یک شاخه‌ی فرعی در موقعیت ۱ تا ۳ قرار نمی‌گیرد.

۳۹- نام هیدروکربنی با فرمول  $\text{CH}_3 - \underset{\text{C}_7\text{H}_5}{\overset{\text{CH}_3}{\text{C}}} - (\text{CH}_2)_7 - \text{C}(\text{CH}_3)_2$  کدام است؟

- (۱) ۲، ۲، ۴، ۴ - تترامتیل هگزان  
 (۲) ۲، ۲، ۶، ۶ - اتیل - تری متیل هپتان  
 (۳) ۲، ۲، ۵، ۵ - تری متیل هپتان  
 (۴) ۲، ۲، ۶، ۶ - تترامتیل اوکتان

گزینه ی ۴ پاسخ صحیح است. زنجیره ی اصلی زنجیری است که دارای بیشترین تعداد کربن باشد. شماره گذاری از طرفی آغاز می شود که به شاخه های فرعی نزدیک تر است.



۲، ۲، ۶، ۶ - تترامتیل اوکتان

۴۰- اگر در واکنشی با معادله ی نمادی:  $\text{HNO}_3(\text{aq}) + \text{Cu}(\text{s}) \rightarrow \text{Cu}(\text{NO}_3)_2(\text{aq}) + \text{NO}_2(\text{g}) + \text{H}_2\text{O}(\text{l})$  ، ۰/۵

مول نیتریک اسید مصرف شود و بازده واکنش ۸۵ درصد باشد، چند لیتر گاز نیتروژن دی اکسید در شرایط STP آزاد می شود؟

- (۱) ۴/۷۶ (۲) ۵/۰۶ (۳) ۴/۶۷ (۴) ۵/۶۰

گزینه ی ۱ پاسخ صحیح است.



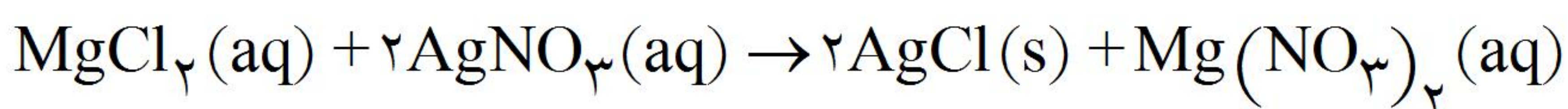
$$\Rightarrow x = \frac{0/5\text{molHNO}_3 \times 22/4\text{LNO}_2(\text{g})}{2\text{molHNO}_3} = 5/6\text{LNO}_2(\text{g}) \quad , \quad 5/6\text{L} \times \frac{85}{100} = 4/75\text{L}$$

۴۱- در واکنش ۱/۹ گرم منیزیم کلرید با مقدار کافی محلول نقره نترات، ۴/۰۳۵ گرم رسوب سفید به دست می آید. بازده

درصدی واکنش کدام است؟ ( $\text{Mg} = 24, \text{Cl} = 35/5, \text{Ag} = 108 : \text{g} \cdot \text{mol}^{-1}$ )

- (۱) ۷۲/۵ (۲) ۷۵ (۳) ۸۲/۵ (۴) ۸۵

گزینه ی ۲ پاسخ صحیح است.



$$\frac{95\text{gMgCl}_2}{1/9\text{gMgCl}_2} \times \frac{2 \times 143/5\text{AgCl}}{x_1} \Rightarrow x_1 = \frac{1/9\text{gMgCl}_2 \times 2 \times 143/5\text{gAgCl}}{95\text{gMgCl}_2} = 5/74\text{gAgCl}$$

$$\frac{4/305\text{g}}{5/74\text{g}} \times 100 = \%75$$

۴۲- در واکنش ۲۰۰ میلی لیتر محلول  $2/5 \text{ mol.L}^{-1}$  سولفوریک اسید با مقدار کافی گرد آهن، چند لیتر گاز هیدروژن به دست می آید؟ (در صورتی که بازده درصدی واکنش، برابر ۸۰٪ و چگالی گاز هیدروژن در شرایط آزمایش برابر  $0/08 \text{ g.L}^{-1}$  باشد.)

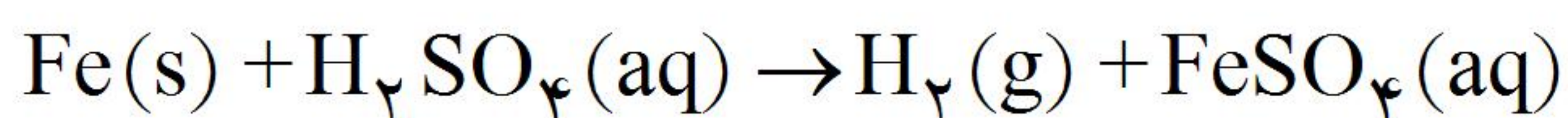
۱۲/۵ (۴)

۱۰ (۳)

۸ (۲)

۶/۲۵ (۱)

گزینه ی ۳ پاسخ صحیح است.



$$\frac{2/5 \text{ mol.L}^{-1} \times 200 \text{ mL}}{1000 \text{ mL.L}^{-1}} = 0/5 \text{ mol}$$

$$\frac{1 \text{ mol H}_2\text{SO}_4}{0/5 \text{ mol H}_2\text{SO}_4} \times \frac{2 \text{ g H}_2}{x} \Rightarrow x = \frac{0/5 \text{ mol H}_2\text{SO}_4 \times 2 \text{ g H}_2}{1 \text{ mol H}_2\text{SO}_4} = 1 \text{ g H}_2$$

$$1 \text{ g H}_2 : 0/08 \text{ g.L}^{-1} = 12/5 \text{ L H}_2 \text{ (با بازدهی ۱۰۰ درصد)}$$

$$\text{حجم گاز با بازدهی ۸۰ درصد} = 12/5 \text{ L} \times \frac{80}{100} = 10 \text{ L}$$

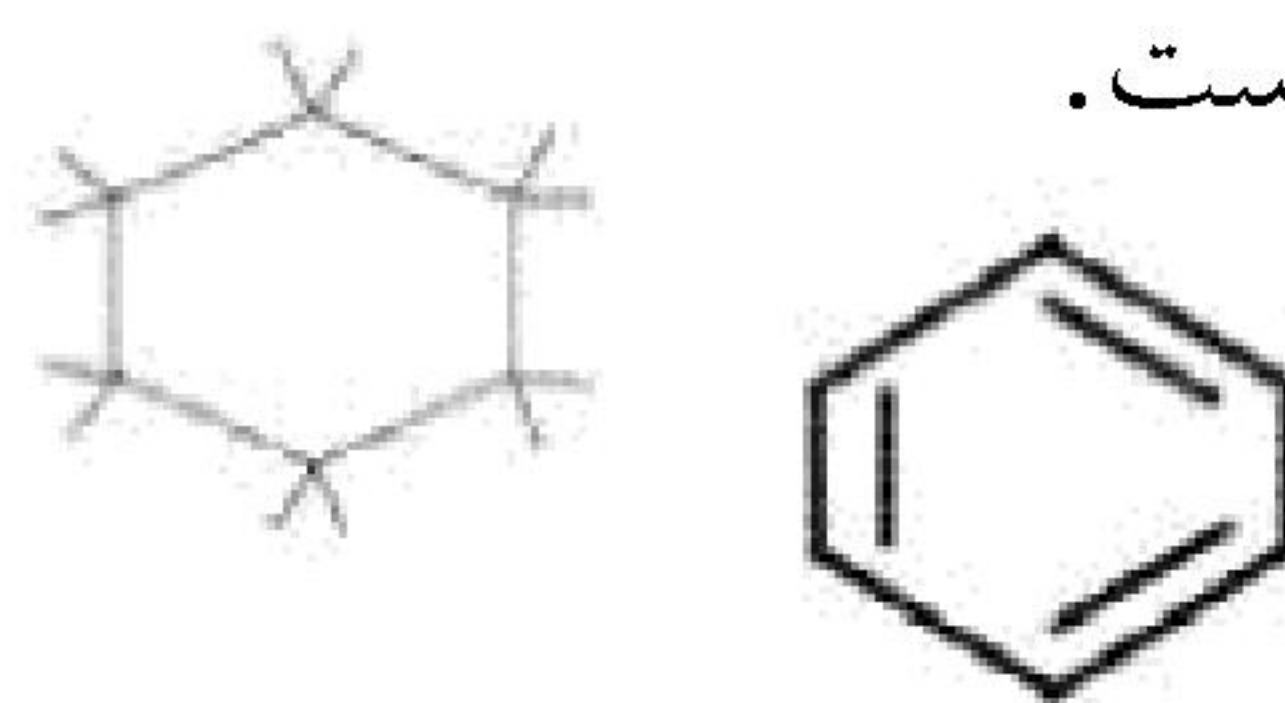
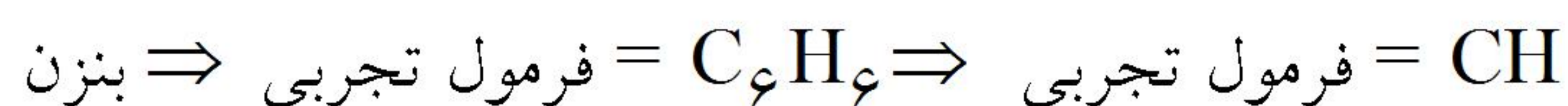

۴۳- کدام گزینه درست نیست؟

(۱) دمای جوش اتانول بالاتر از دی متیل اتر است.

(۲) نفتالن از دسته ی هیدروکربن های آروماتیک است.

(۳) واکنش پذیری اتن کم تر از اتین و بیش تر از اتان است. (۴) فرمول تجربی سیکلوهگزان و بنزن، یکسان است.

گزینه ی ۴ پاسخ صحیح است.



۴۴- کدام نام برای یک آلکن یا آلکین درست است؟

(۱) ۲- متیل - ۳- بوتن

(۲) ۲- متیل - ۱- بوتن

(۳) ۲ و ۲- دی متیل - ۱- بوتن

(۴) ۲ و ۳- دی متیل - ۲- بوتن

گزینه ۴ پاسخ صحیح است.

• در گزینه ی ۱ جهت شماره گذاری نادرست است و نام درست آن ۳- متیل - ۱- بوتن است.

• در ترکیباتی مانند گزینه های ۲ و ۳، کربن دارای شاخه ی جانبی، ۵ ظرفیتی می شود که نادرست است.

۴۵- درصد جرمی کربن در فراورده ی واکنش گاز هیدروژن کلرید با ۳- هگزن کدام است؟

$$\left( \text{H} = 1, \text{C} = 12, \text{Cl} = 35 : \text{g. mol}^{-1} \right)$$

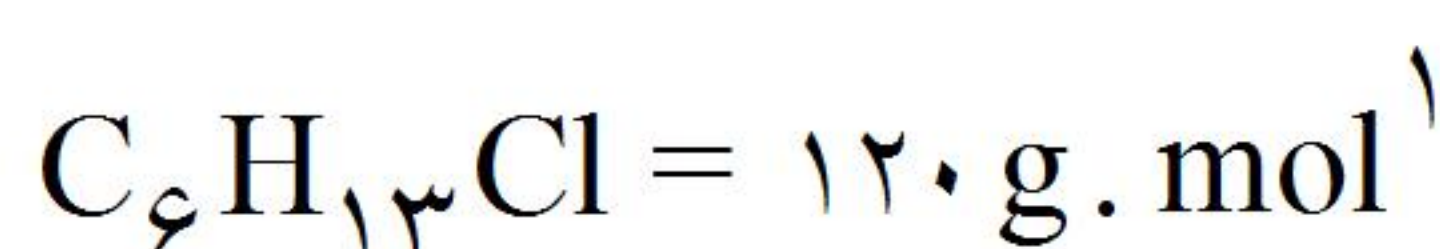
۶۰/۳ (۴)

۶۰/۱۰ (۳)

۵۹/۷ (۲)

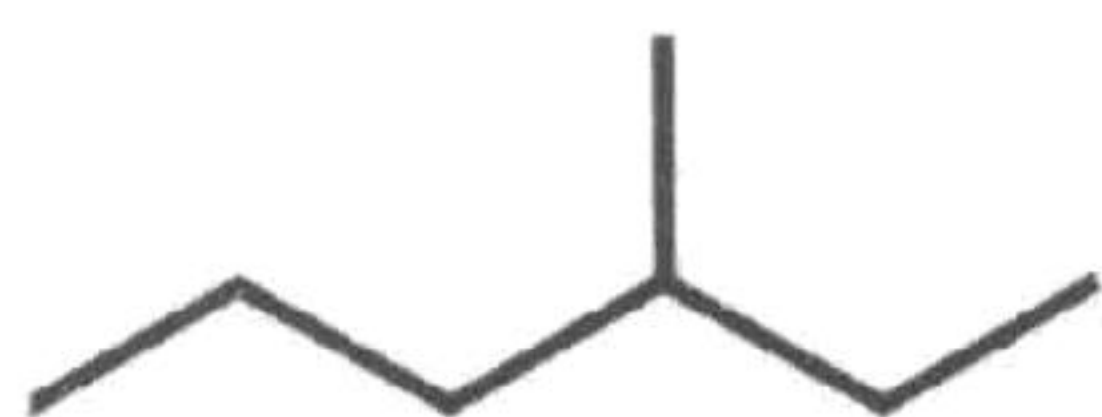
۵۹/۱۰ (۱)

گزینه ۳ پاسخ صحیح است. زیرا مطابق واکنش  $\text{C}_6\text{H}_{12} + \text{HCl} \rightarrow \text{C}_6\text{H}_{13}\text{Cl}$  داریم:



$$\text{درصد جرمی کربن} = \frac{6 \times 12 \text{ g. mol}^{-1}}{120 \text{ g. mol}^{-1}} \times 100 = 60/0\%$$

۴۶- درباره ترکیبی با فرمول نقطه - خط روبه‌رو، چند مورد از مطالب زیر درست‌اند؟



(۴) صفر

(۳) ۳

(۲) ۲

(۱) ۱

\* با ۲، ۲- دی‌متیل بوتان هم‌پار است.

\* تمایل زیادی به انجام واکنش‌های شیمیایی دارد.

\* تنها دارای یک ایزومر ساختاری راست‌زنجیر است.

\* شمار اتم‌های تشکیل‌دهنده مولکول آن برابر با ۲۲ است.

گزینه ۱ پاسخ صحیح است. این ترکیب ۳- متیل هگزان ( $C_7H_{16}$ ) بوده و تنها دارای یک ایزومر ساختاری راست‌زنجیر است.

۴۷- چند گرم آلومینیوم باید در واکنش ترمیت شرکت کند تا فلز به دست آمده بعد از سرد شدن با ۱۶ گرم اکسیژن به‌طور

کامل واکنش دهد؟ ( $Al = ۲۷, O = ۱۶ : g \cdot mol^{-1}$ )

(۴) ۲۸/۸

(۳) ۱۸

(۲) ۱۴/۴

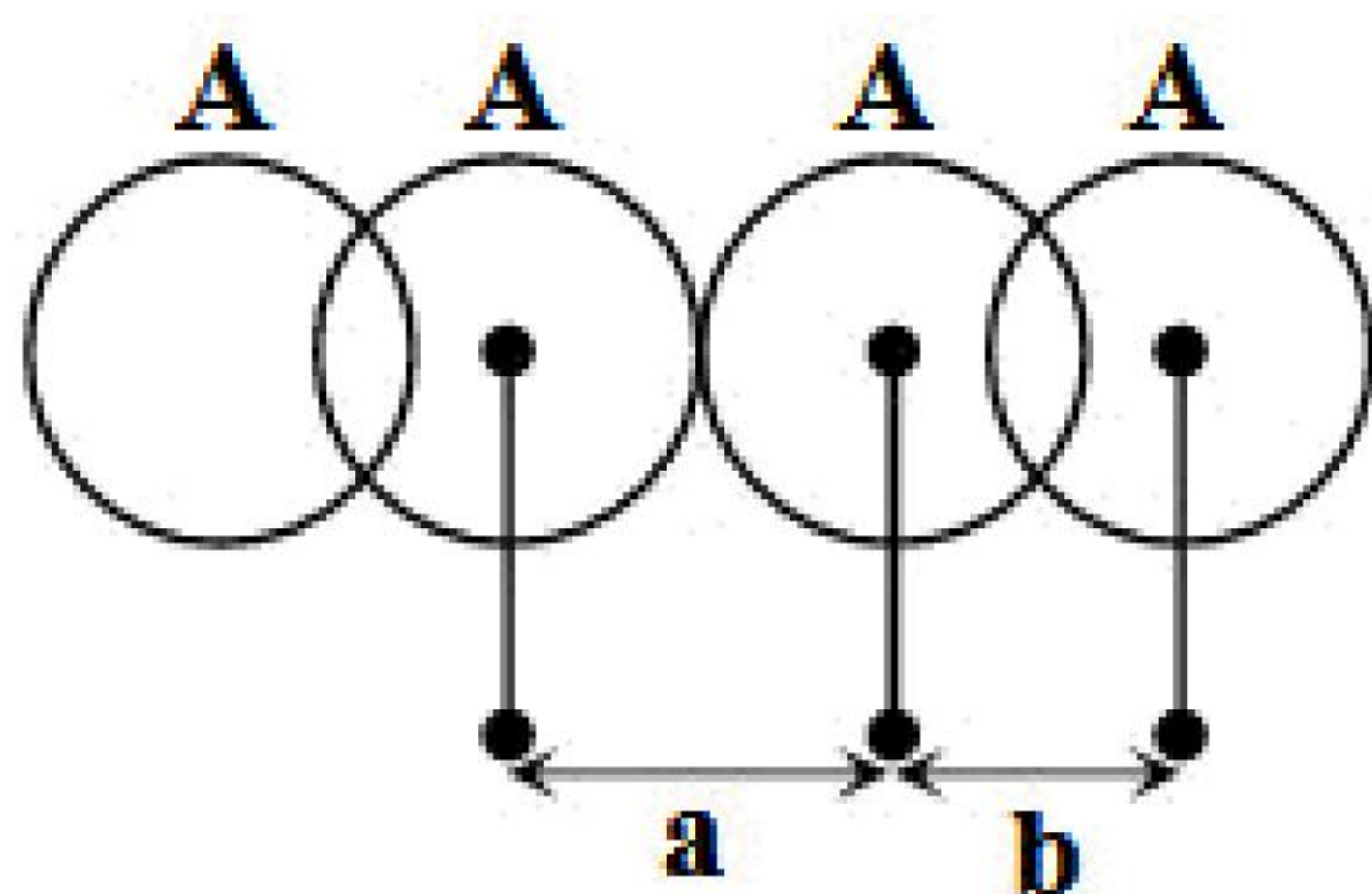
(۱) ۹

گزینه ۳ پاسخ صحیح است.



$$?gAl = ۱۶gO_2 \times \frac{1molO_2}{32gO_2} \times \frac{2molFe}{3molO_2} \times \frac{2molAl}{2molFe} \times \frac{27gAl}{1molAl} = ۱۸gAl$$

۴۸- با توجه به شکل، تفاوت شعاع وان‌دروالسی و کووالانسی اتم A کدام است؟



(۱) a - b

(۲)  $\frac{a+b}{2}$

(۳)  $\frac{a-b}{2}$

(۴) b - a

گزینه ۳ پاسخ صحیح است.

$$\left. \begin{array}{l} \text{شعاع کووالانسی} = \frac{b}{2} \\ \text{شعاع وان‌دروالسی} = \frac{a}{2} \end{array} \right\} \text{اختلاف} = \frac{a}{2} - \frac{b}{2} = \frac{a-b}{2}$$

۴۹- کدام مطلب درباره‌ی هیدروکربنی با نام «۳- اتیل - ۳- متیل پنتان»، نادرست است؟

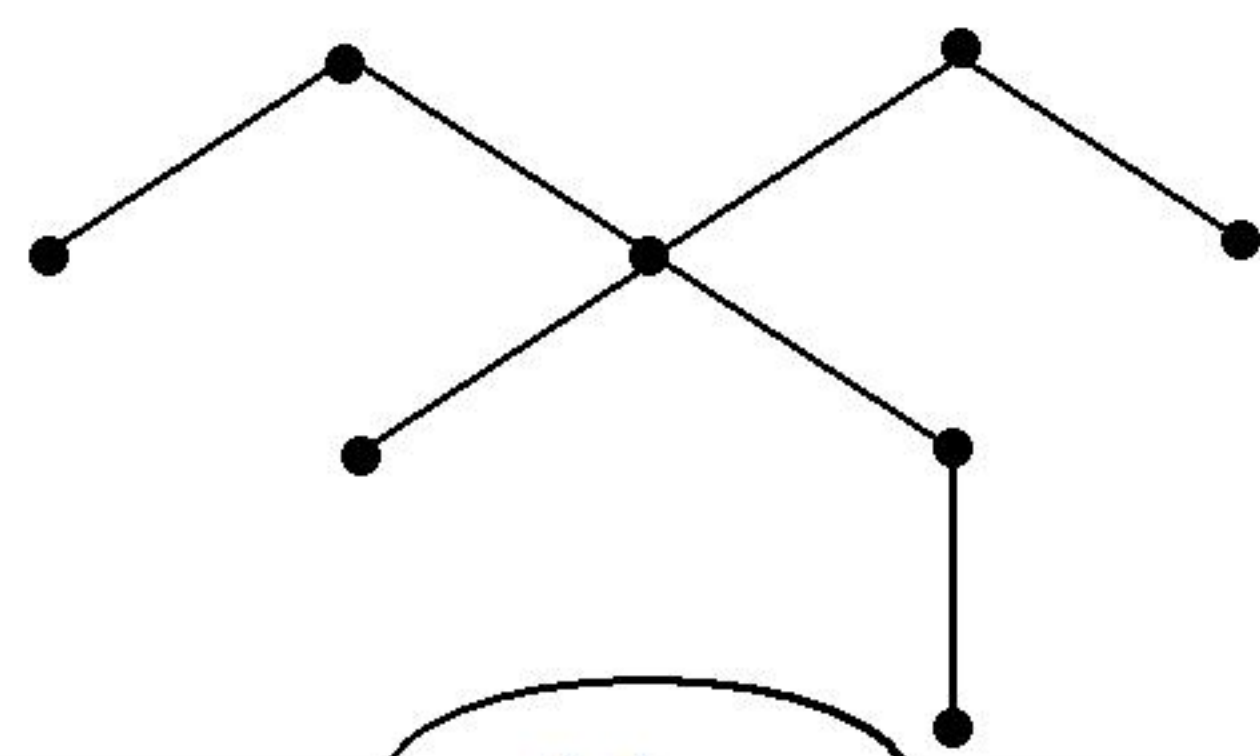
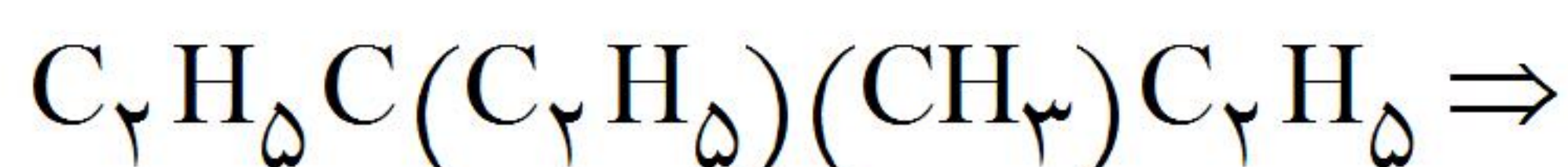
(۱) با ایزواوکتان هم‌پار بوده و هر اتم کربن در آن، چهار قلمرو الکترونی دارد.

(۲) در نمایش فرمول ساختاری آن به روش نقطه - خط ۸ پیوند کووالانسی وجود دارد.

(۳) شماره‌گذاری اتم‌های کربن زنجیر اصلی مولکول آن از هر سویی که انجام بگیرد، در نام آن تغییری به‌وجود نمی‌آورد.

(۴) در مولکول آن، به مانند مولکول «۲- متیل - ۲- پروپانول» اتم کربنی وجود دارد که به سه گروه آلکیل یکسان متصل است.

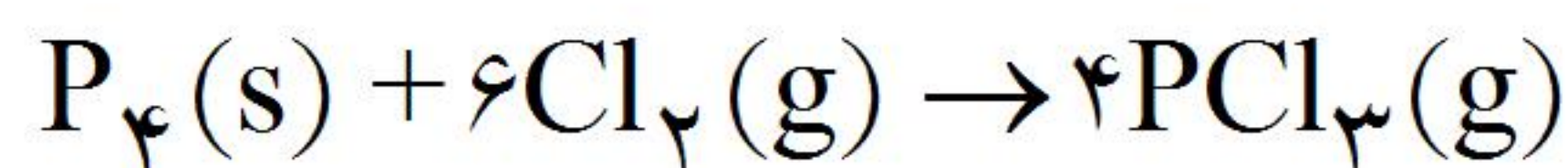
گزینه‌ی ۲ پاسخ صحیح است. زیرا در نمایش فرمول ساختاری مولکول «۳- اتیل - ۳- متیل پنتان» به روش نقطه - خط هفت پیوند کووالانسی وجود دارد.



۵۰- فسفرتری کلرید، از واکنشی که معادله‌ی نمادی آن به صورت  $P_4(s) + Cl_2(g) \rightarrow PCl_3(g)$  است، تهیه می‌شود. اگر بازده درصدی واکنش برابر ۸۰ درصد باشد، از واکنش  $1240\text{g}$  فسفر سفید چند کیلوگرم فسفر تری کلرید به دست می‌آید؟ ( $P = 31, Cl = 35.5 : \text{g.mol}^{-1}$ )

(۱) ۲/۲ (۲) ۱/۱ (۳) ۴/۴ (۴) ۳/۳

گزینه‌ی ۳ پاسخ صحیح است.



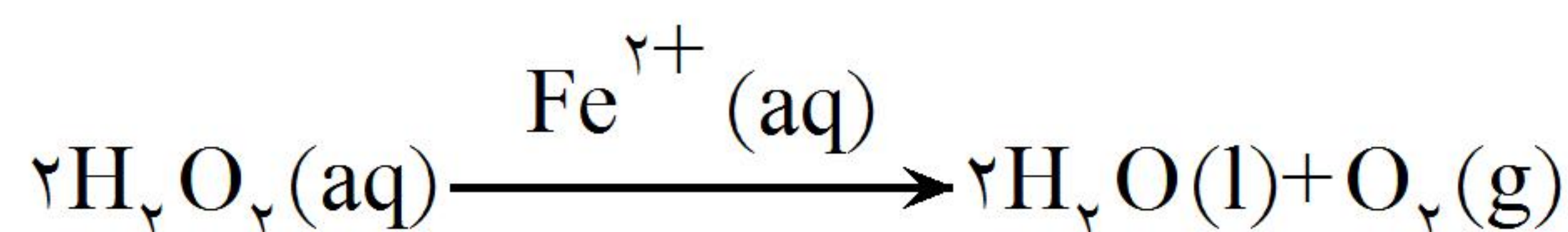
$$\frac{31\text{gP}}{1240\text{gP}} = \frac{137.5\text{gPCl}_3}{x} \Rightarrow x = \frac{1240\text{gP} \times 137.5\text{gPCl}_3}{31\text{gP}} = 5500\text{gPCl}_3$$

$$5500\text{g} \times \frac{10}{100} = 550\text{gPCl}_3 \rightarrow 550\text{g} \times \frac{1\text{kg}}{1000\text{g}} = 0.55\text{kg}$$

۵۱- در واکنش  $2H_2O_2(aq) \xrightarrow{Fe^{2+}(aq)} 2H_2O(l) + O_2(g)$ ، در شرایط STP، در مدت زمان ۵ دقیقه، ۰/۱ مول هیدروژن پراکسید تجزیه می‌شود. سرعت متوسط تولید  $O_2(g)$  بر حسب لیتر بر دقیقه کدام است؟

(۱) ۰/۰۲ (۲) ۰/۰۱ (۳) ۰/۲۲۴ (۴) ۰/۱۱۲

گزینه ۳ پاسخ صحیح است.



$$\bar{R}_{H_2O_2} = \frac{-0.1\text{mol}}{5\text{min}} = -0.02\text{mol.min}^{-1}$$

$$\bar{R}_{O_2} = \frac{1}{2}\bar{R}_{H_2O_2} = \frac{1}{2} \times \frac{2}{100} = \frac{1}{100}\text{mol.min}^{-1}$$

$$\bar{R}_{O_2} = 0.01\text{mol.min}^{-1} \times \frac{22.4\text{L}}{1\text{mol}} = 0.224\text{L.min}^{-1}$$

۵۲- بین سرعت مصرف واکنش دهنده و تولید فراورده‌ها با سرعت واکنش رابطه‌ی زیر برقرار است. اگر ۰/۱۶ مول از واکنش دهنده در یک ظرف ۲ لیتری در دمای معینی تجزیه شود و پس از ده دقیقه از آغاز واکنش، تعداد مول‌های آن به ۰/۰۸ مول برسد، سرعت متوسط تولید شدن ماده‌ی C در این مدت بر حسب  $\text{mol.L}^{-1}.\text{s}^{-1}$  تقریباً کدام است؟ (تمام مواد شرکت کننده در واکنش در حالت گازی هستند)

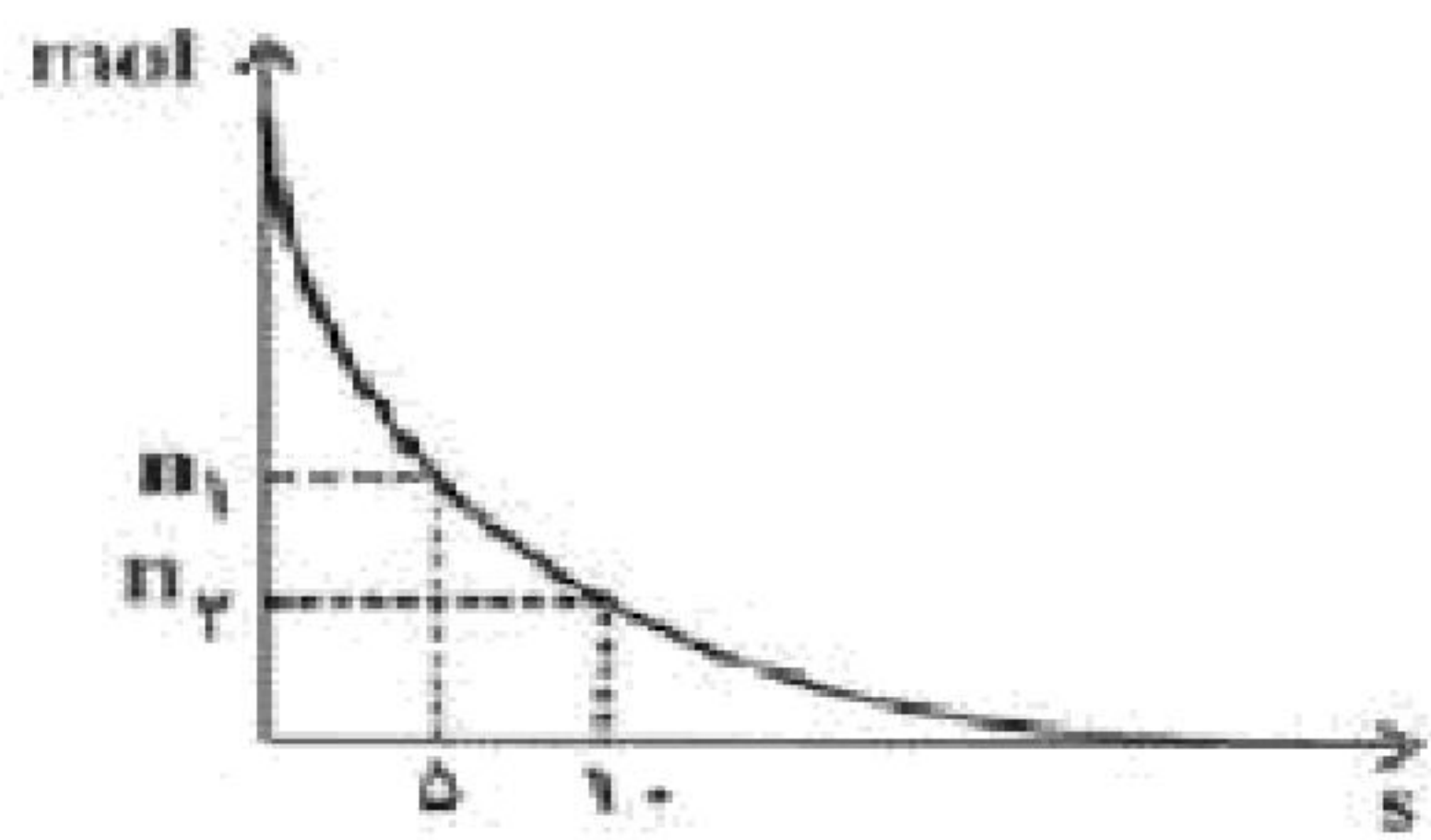
$$R_{\text{واکنش}} = \frac{1}{2} \frac{\Delta n(C)}{\Delta t} = \frac{1}{3} \frac{\Delta n(D)}{\Delta t} = \frac{1}{3} \frac{-\Delta n(A)}{\Delta t}$$

(۱)  $9/99 \times 10^{-5}$  (۲)  $9/99 \times 10^{-4}$  (۳)  $4/44 \times 10^{-5}$  (۴)  $4/44 \times 10^{-4}$

گزینه ۳ پاسخ صحیح است.

$$\frac{\bar{R}_A}{3} = \frac{\bar{R}_C}{2} \Rightarrow \bar{R}_C = \frac{2}{3}\bar{R}_A = \frac{2}{3} \times 6/66 \times 10^{-5} = 4/44 \times 10^{-5}\text{mol.L}^{-1}.\text{s}^{-1}$$





۵۳- نمودار روبه‌رو، مربوط به تجزیه گاز دی‌نیتروژن پتوکسید در یک ظرف ۴ لیتری است، اگر سرعت متوسط تولید گاز اکسیژن در فاصله‌ی زمانی ۵ تا ۱۰ ثانیه برابر  $0.5 \text{ mol.L}^{-1}.\text{min}^{-1}$  باشد،  $n_1$  و  $n_2$  به ترتیب کدام یک از اعداد زیر می‌توانند باشند؟ (اعداد را از راست به چپ بخوانید.)

(۱)  $\frac{7}{12} - 0.75$       (۲)  $0.75 - \frac{11}{12}$       (۳)  $\frac{1}{6} - 0.5$       (۴)  $0.5 - \frac{7}{6}$

گزینه ۳ پاسخ صحیح است. اولاً نمودار داده شده مربوط به  $\text{N}_2\text{O}_5$  است، زیرا نزولی می‌باشد. ثانیاً واکنش تجزیه‌ی دی‌نیتروژن پتوکسید به صورت  $2\text{N}_2\text{O}_5(\text{g}) \rightarrow 4\text{NO}_2(\text{g}) + \text{O}_2(\text{g})$  است که سرعت تولید گاز اکسیژن در فاصله‌ی زمانی ۵ تا ۱۰ ثانیه به ما داده شده است، یعنی:

$$\bar{R}_{\text{N}_2\text{O}_5} = 2\bar{R}_{\text{O}_2} = 2 \times 0.5 = 1 \text{ mol.L}^{-1}.\text{min}^{-1}$$

$$\bar{R}_{\text{N}_2\text{O}_5} = 2\bar{R}_{\text{O}_2} = -\frac{\Delta n}{\Delta t} \rightarrow 1 \frac{\text{mol}}{\text{L.min}} = -\frac{\Delta n \text{ mol}}{5\text{s}} \times \frac{60\text{s}}{1\text{min}} \times \frac{1}{4\text{L}} = -3\Delta n \text{ mol.L.min}^{-1}$$

$$1 = -3(n_2 - n_1) \rightarrow n_2 - n_1 = -\frac{1}{3}$$

باید  $n_2 - n_1$  برابر  $-\frac{1}{3}$  شود. پس ناچاریم تک‌تک گزینه‌ها را امتحان کنیم، تنها گزینه‌ای که درست است، گزینه‌ی (۳) می‌باشد.

۵۴- ۱۰ مول  $\text{SO}_2$  را به همراه مقداری  $\text{O}_2$  وارد یک ظرف سربسته‌ی یک لیتری می‌کنیم تا واکنش  $2\text{SO}_2(\text{g}) + \text{O}_2(\text{g}) \rightarrow 2\text{SO}_3(\text{g})$  در آن انجام شود. در صورتی که پس از گذشت ۵۰ ثانیه از شروع واکنش، ۱۳ مول گاز در ظرف وجود داشته باشد و سرعت واکنش در این بازه‌ی زمانی  $0.04 \text{ mol.L}^{-1}.\text{s}^{-1}$  باشد، چند درصد از  $\text{O}_2$  تا این لحظه در واکنش مصرف شده است؟

(۱) ۱۰      (۲) ۲۰      (۳) ۴      (۴) ۲۵

گزینه ۴ پاسخ صحیح است.

$$\bar{R}_{\text{SO}_3} = 0.04 \frac{\text{mol}}{\text{L.s}} \times 1\text{L} = 0.04 \text{ mol.s}^{-1}$$

$$\bar{R}_{\text{SO}_3} = +\frac{\Delta n_{\text{SO}_3}}{\Delta t} = \frac{\text{تعداد مول SO}_3 \text{ تولید شده}}{\Delta t} \Rightarrow 0.04 = \frac{2x}{50} \Rightarrow 2x = 50 \times 0.04 = 2 \Rightarrow x = 1 \text{ mol}$$

اکنون که مقدار  $x$  را به دست آوردیم، می‌توانیم با استفاده از معادله‌ی زیر، مقدار پارامتر  $a$  را تعیین نماییم:

$$13 = 10 + a - x \Rightarrow 13 = 10 + a - 1 \Rightarrow a = 4 \text{ mol}$$

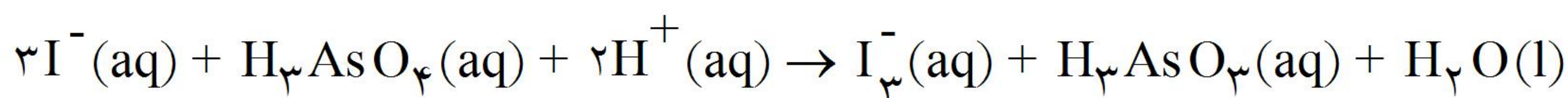
با در دست داشتن  $x$  و  $a$ ، درصد مصرف  $\text{O}_2$  در واکنش به صورت زیر محاسبه می‌شود:

$$\text{درصد مصرف O}_2 = \frac{\text{تعداد مول O}_2 \text{ مصرف شده}}{\text{تعداد مول O}_2 \text{ اولیه}} \times 100 = \frac{x}{a} \times 100 = \frac{1}{4} \times 100 = 25\%$$

۵۵- اگر اکسایش یون یدید به وسیلهی آرسنیک اسید با معادلهی واکنش زیر در ظرفی به حجم  $V$  ایترا انجام شود و در آن

پس از گذشت ده دقیقه از آغاز واکنش داشته باشیم  $\frac{-\Delta[I^-]}{\Delta t} = 4/8 \times 10^{-4} \text{ mol.L}^{-1} \cdot \text{s}^{-1}$  و نیز  $2/4 \times 10^{-1}$  مول

$I_3^-$  تولید شده باشد، به ترتیب از راست به چپ  $V$  کدام است و سرعت مصرف  $H_3AsO_4$  در این گستره‌ی زمانی، چند مول بر ثانیه است؟



$$4 \times 10^{-4} - 2/5 \quad (4) \qquad 4 \times 10^{-4} \quad (3) \qquad 1/6 \times 10^{-4} - 2/5 \quad (2) \qquad 1/6 \times 10^{-4} \quad (1)$$

گزینه ۳ پاسخ صحیح است.

$$\bar{R}_{I_3^-} = \frac{1}{3} \bar{R}_{I^-} = \frac{1}{3} \times 4/8 \times 10^{-4} = 1/6 \times 10^{-4} \text{ mol.L}^{-1} \cdot \text{s}^{-1}$$

$$\bar{R}_{I_3^-} = \frac{\Delta[I_3^-]}{\Delta t} \Rightarrow 1/6 \times 10^{-4} \frac{\text{mol}}{\text{L.s}} = \frac{\Delta[I_3^-]}{600\text{s}} \Rightarrow \Delta[I_3^-] = 9/6 \times 10^{-2} \text{ mol.L}^{-1}$$

$$\Delta[I_3^-] = \frac{\Delta n_{I_3^-}}{V} \Rightarrow 9/6 \times 10^{-2} = \frac{2/4 \times 10^{-1}}{V} \Rightarrow V = 2/5 \text{ mol}$$

برای محاسبه‌ی سرعت متوسط  $H_3AsO_4$  نیز داریم:

$$\bar{R}_{H_3AsO_4} = \frac{1}{3} \bar{R}_{I^-} = 1/6 \times 10^{-4} \frac{\text{mol}}{\text{L.s}} \times 2/5 \text{L} = 4 \times 10^{-4} \frac{\text{mol}}{\text{s}}$$

۵۶- پس از ۱۰ ثانیه از شروع تجزیه  $A$  در واکنش گازی  $2A \rightarrow 3B + 4C$  مقدار  $7/5$  مول از  $B$  و  $4$  مول از  $A$  در ظرف  $5$  لیتری وجود دارد. از این رو مقدار اولیه  $A$  برابر با... مول و سرعت تولید  $C$  بر حسب  $\text{mol.L}^{-1} \cdot \text{min}^{-1}$  برابر با... و سرعت واکنش برابر با... مول بر ثانیه است.

$$0/5-0/2 \quad (1) \qquad 0/25-12-9 \quad (2) \qquad 0/5-12-5 \quad (3) \qquad 0/25-0/2-9 \quad (4)$$

گزینه ۴ پاسخ صحیح است.

$$\text{mol A} = 7/5 \text{ mol B} \times \frac{2 \text{ mol A}}{3 \text{ mol B}} = 9 \text{ mol A} \rightarrow \text{مواد اولیه} = 9 + 4 = 13 \text{ mol A}$$

$$\text{C مواد تولیدی} = 9 \text{ mol A} \times \frac{4 \text{ mol C}}{2 \text{ mol A}} = 18 \text{ mol C} \rightarrow [C] = \frac{18 \text{ mol}}{5 \text{ L}} = 3.6 \text{ mol.L}^{-1}$$

$$\bar{R}_C = \frac{\Delta[C]}{\Delta t} = \frac{3.6 \text{ mol.L}^{-1}}{10 \text{ s}} = 0.36 \text{ mol.L}^{-1} \cdot \text{s}^{-1}$$

$$\bar{R}_C = 0.36 \times 60 = 21.6 \text{ mol.L}^{-1} \cdot \text{min}^{-1} \rightarrow \bar{R}_C = \frac{18 \text{ mol}}{10 \text{ s}} = 1.8 \text{ mol.s}^{-1}$$

$$\bar{R}_{\text{واکنش}} = \frac{\bar{R}_C}{4} \Rightarrow \bar{R}_{\text{واکنش}} = \frac{1}{4} \text{ mol.s}^{-1} = 0.45 \text{ mol.s}^{-1}$$

۵۷- برای بالا بردن دمای ۵/۵۵ کیلوگرم از ماده‌ای با ظرفیت گرمایی ویژه  $2/5 \text{ J} \cdot \text{g}^{-1} \cdot ^\circ\text{C}^{-1}$ ، به اندازه  $40^\circ\text{C}$ ، چند گرم گاز پروپان باید بسوزد؟ (گرمای سوختن گاز پروپان برابر  $2220 \text{ kJ} \cdot \text{mol}^{-1}$  است.)

$$(H = 1, C = 12 : \text{g} \cdot \text{mol}^{-1})$$

۲۲ (۴)

۱۱ (۳)

۸ (۲)

۵ (۱)

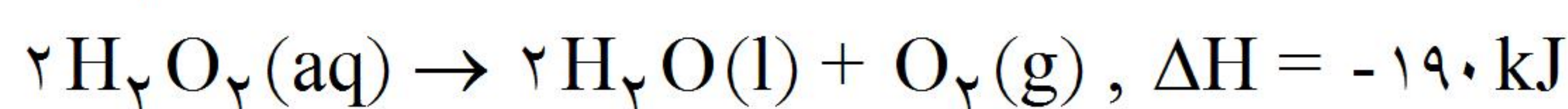
گزینه ۳ پاسخ صحیح است. زیرا، داریم:

$$5/55 \text{ kg} \times \frac{1000 \text{ g}}{1 \text{ kg}} = 5550 \text{ g}$$

$$q = 5550 \text{ g} \times 2/5 \text{ J} \cdot \text{g}^{-1} \cdot ^\circ\text{C}^{-1} \times 40^\circ\text{C} = 555000 \text{ J} \Rightarrow 555 \text{ kJ}$$

$$44 \text{ g C}_3\text{H}_8 \quad 2220 \text{ kJ} \quad \rightarrow \quad x = \frac{555 \text{ kJ} \times 44 \text{ g C}_3\text{H}_8}{2220 \text{ kJ}} = 11 \text{ g C}_3\text{H}_8$$

۵۸- با توجه به واکنش‌های زیر،  $\Delta H$  واکنش  $\text{C}_6\text{H}_6\text{O}_2(\text{aq}) + \text{H}_2\text{O}_2(\text{aq}) \rightarrow \text{C}_6\text{H}_4\text{O}_2(\text{aq}) + 2\text{H}_2\text{O}(\text{l})$  برابر با چند کیلوژول است؟



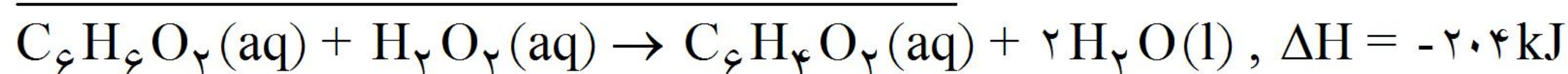
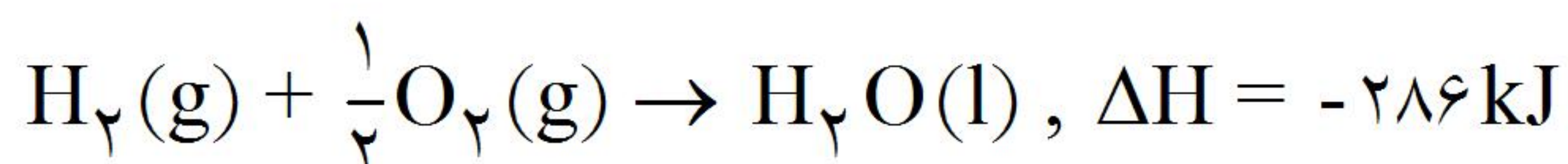
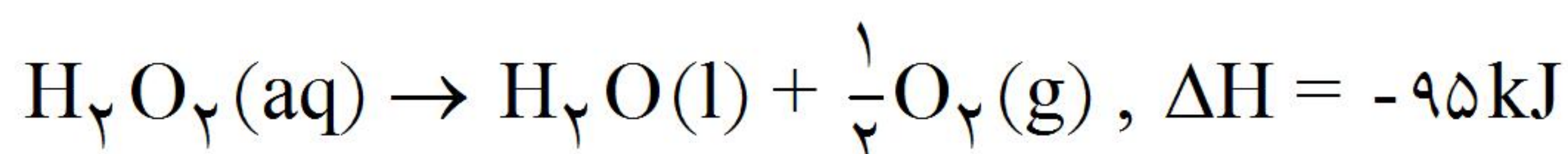
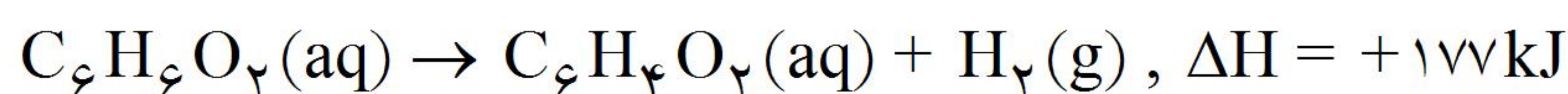
-۲۰۴ (۴)

+۲۰۸ (۳)

+۲۰۴ (۲)

-۲۰۸ (۱)

گزینه ۴ پاسخ صحیح است. زیرا، داریم:



۵۹- با توجه به واکنش‌های زیر،  $\Delta H$  واکنش:  $\text{CO}(\text{g}) + \text{H}_2\text{O}(\text{l}) \rightarrow \text{CO}_2(\text{g}) + \text{H}_2(\text{g})$  چند کیلوژول است؟



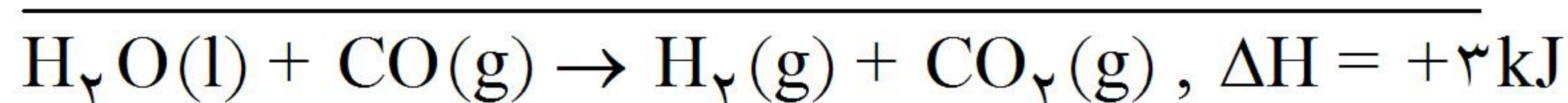
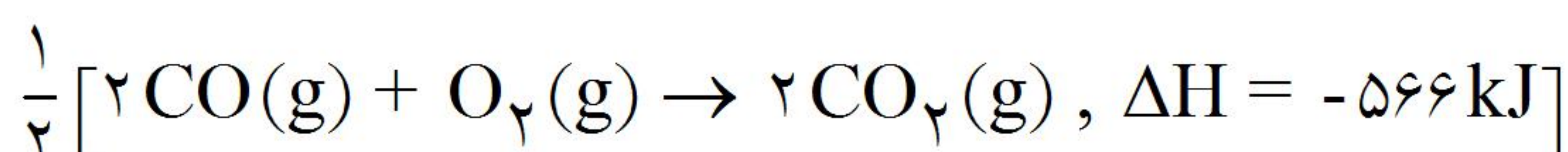
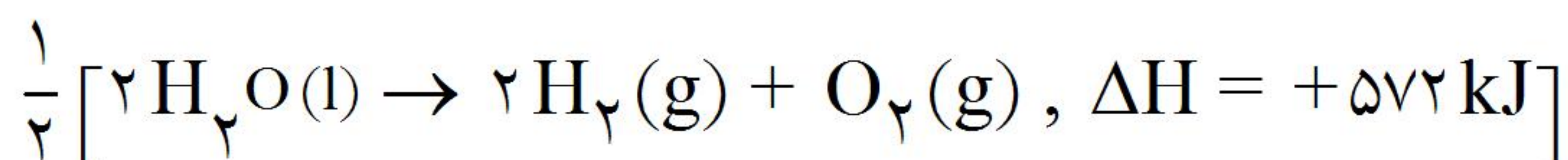
+۳ (۴)

-۳ (۳)

+۶ (۲)

-۶ (۱)

گزینه ۴ پاسخ صحیح است. زیرا، می‌توان نوشت:



۶۰- اگر برای رساندن دمای یک قطعه فلزی به وزن ۲ کیلوگرم و با دمای  $32^{\circ}\text{C}$  به دمای ذوب آن،  $1320$  کیلوژول گرما لازم باشد، ظرفیت گرمایی ویژه این فلز چند  $\text{J} \cdot \text{g}^{-1} \cdot ^{\circ}\text{C}^{-1}$  است؟ (دمای ذوب این فلز را  $1532^{\circ}\text{C}$  در نظر بگیرید.)

- (۱)  $0/44$  (۲)  $0/55$  (۳)  $0/66$  (۴)  $0/77$

گزینه ۱ پاسخ صحیح است. زیرا، داریم:

$$\Delta T = 1532^{\circ}\text{C} - 32^{\circ}\text{C} = 1500^{\circ}\text{C}$$

$$m = 2\text{kg} \times \frac{1000\text{g}}{1\text{kg}} = 2000\text{g}$$

$$q = 1320\text{kJ} \times \frac{1000\text{J}}{1\text{kJ}} = 1320000\text{J}$$

$$c = \frac{q}{m \cdot \Delta T} = \frac{1320000\text{J}}{2000\text{g} \times 1500^{\circ}\text{C}} = 0/44\text{J} \cdot \text{g}^{-1} \cdot ^{\circ}\text{C}^{-1}$$

۶۱- دو ظرف پنج لیتری، متصل به هم با شیری بسته بین آنها، یکی دارای یک مول گاز هیدروژن و دیگری دارای یک مول گاز کلر است. اگر شیر میان آنها باز شود و به محض تأمین انرژی فعال‌سازی لازم، واکنش با سرعت متوسط  $10^{-3}\text{mol} \cdot \text{L}^{-1} \cdot \text{s}^{-1}$  انجام شود، چند ثانیه زمان برای انجام کامل واکنش لازم است؟

- (۱)  $60$  (۲)  $80$  (۳)  $100$  (۴)  $20$

گزینه ۳ پاسخ صحیح است. زیرا، داریم:

$$2 \times 5\text{L} = 10 \text{ (لیتر)}$$

$$1\text{s} \quad 10^{-3}\text{mol} \cdot \text{L}^{-1} \times 10\text{L} \rightarrow x = \frac{1\text{mol} \times 1\text{s}}{10^{-2}\text{mol}} = 100\text{s}$$

۶۲-  $30$  گرم گاز  $\text{NOCl}$  را در یک ظرف  $10$  لیتری گرما می‌دهیم. اگر پس از  $10$  دقیقه،  $14/2$  گرم گاز کلر تشکیل شده باشد، چند گرم از آن باقی مانده و سرعت متوسط تجزیه‌ی  $\text{NOCl}$  به تقریب برابر با چند  $\text{mol} \cdot \text{L}^{-1} \cdot \text{s}^{-1}$  است؟

$$\left( \text{N} = 14, \text{O} = 16, \text{Cl} = 35/5 : \text{g} \cdot \text{mol}^{-1} \right)$$

$$5/6 \times 10^{-5}, 4/5 \text{ (۲)} \quad 5/6 \times 10^{-4}, 4/5 \text{ (۱)}$$

$$6/7 \times 10^{-5}, 3/8 \text{ (۴)} \quad 6/7 \times 10^{-4}, 3/8 \text{ (۳)}$$

گزینه ۴ پاسخ صحیح است. زیرا، داریم:



$$2 \times 65/5\text{gNOCl} \quad 71\text{gCl}_2 \quad \Rightarrow x = \frac{14/2\text{gCl}_2 \times 2 \times 65/5\text{gNOCl}}{71\text{gCl}_2} = 26/2\text{gNOCl}$$

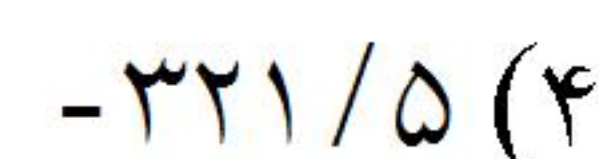
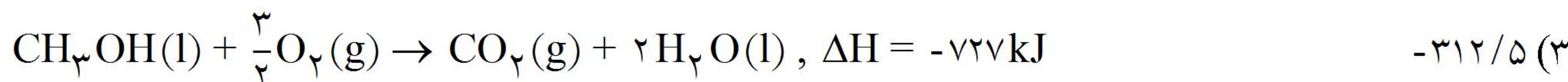
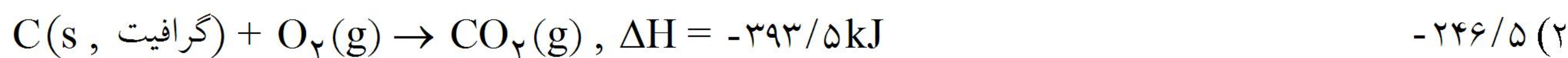
$$30\text{g} - 26/2\text{g} = 3/8\text{g}$$

$$26/2\text{g} : 65/5\text{g} \cdot \text{mol}^{-1} = 0/4\text{mol}$$

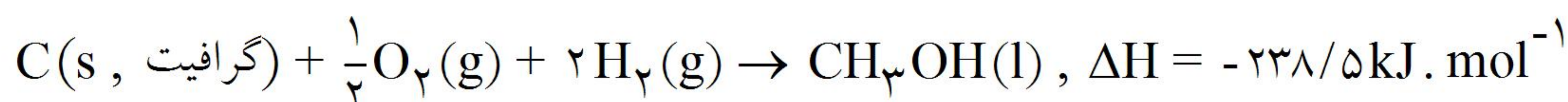
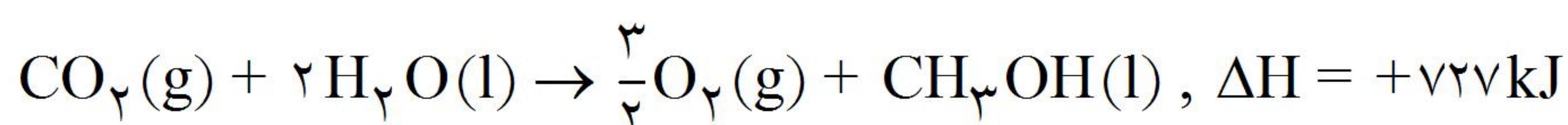
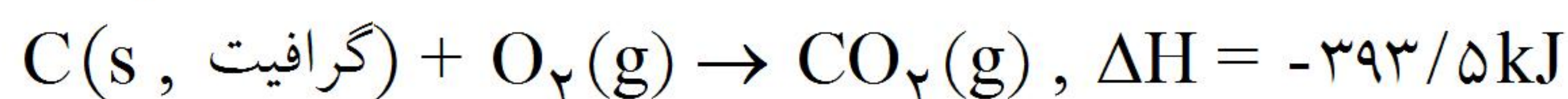
$$\Delta t = 10\text{min} \times \frac{60\text{s}}{1\text{min}} = 600\text{s}$$

$$\text{سرعت متوسط واکنش} = \frac{0/4\text{mol}}{10\text{L} \times 600\text{s}} \simeq 6/7 \times 10^{-5}\text{mol} \cdot \text{L}^{-1} \cdot \text{s}^{-1}$$

۶۳- با توجه به واکنش‌های زیر،  $\Delta H$  تشکیل متانول برابر چند کیلوژول بر مول است؟



گزینه ۱ پاسخ صحیح است. زیرا، می‌توان نوشت:



۶۴- واکنش مقابل را در نظر بگیرید:



با توجه به جدول زیر، کدام عبارت در مورد آن درست است؟

زمان (s)	۰	۱۰	۲۰	۳۰	۴۰	۵۰	۶۰
غلظت اوزون ( $\text{mol} \cdot \text{L}^{-1}$ )	$3/2 \times 10^{-5}$	$2/22 \times 10^{-5}$	$1/95 \times 10^{-5}$	$1/62 \times 10^{-5}$	$1/4 \times 10^{-5}$	$1/23 \times 10^{-5}$	$1/1 \times 10^{-5}$

(۱) در یک دقیقه اول واکنش، غلظت اوزون به‌طور متوسط در هر ثانیه  $3/5 \times 10^{-6} \text{ mol} \cdot \text{L}^{-1}$  کاهش می‌یابد.

(۲) سرعت متوسط تولید گاز  $O_2$  بیان می‌دارد که غلظت اکسیژن در هر لحظه چه‌قدر سریع افزایش می‌یابد.

(۳) سرعت متوسط مصرف اتیلن با گذشت زمان کاهش و سرعت متوسط تولید گاز  $C_2H_4O$  با گذشت زمان افزایش می‌یابد.

(۴) سرعت متوسط مصرف اوزون در بازه‌ی زمانی صفر تا ۱۰ ثانیه، ۶ مرتبه سریع‌تر از سرعت متوسط مصرف اوزون در بازه‌ی زمانی ۵۰ تا ۶۰ ثانیه است.

گزینه‌ی ۴ پاسخ صحیح است. سرعت متوسط مصرف اوزون در بازه‌ی زمانی صفر تا ۱۰ ثانیه برابر است با:

$$\bar{R}_{O_3} = -\frac{\Delta [O_3]}{\Delta t} = -\frac{(2/22 - 3/2) \times 10^{-5}}{10} = 0,078 \times 10^{-5} \text{ mol} \cdot \text{L}^{-1} \cdot \text{s}^{-1}$$

سرعت متوسط مصرف اوزون در بازه‌ی زمانی ۵۰ تا ۶۰ ثانیه نیز برابر است با:

$$\bar{R}_{O_3} = -\frac{\Delta [O_3]}{\Delta t} = -\frac{(1/1 - 1/23) \times 10^{-5}}{10} = 0,013 \times 10^{-5} \text{ mol} \cdot \text{L}^{-1} \cdot \text{s}^{-1}$$

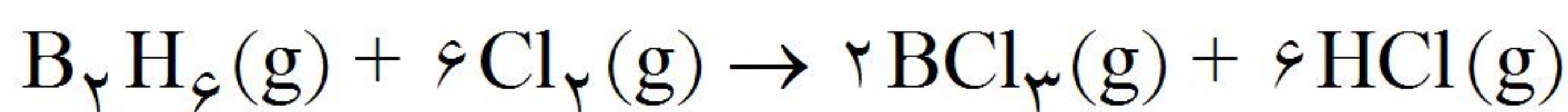
بنابراین می‌توان نوشت:

$$\frac{\text{سرعت متوسط مصرف } O_3 \text{ در بازه‌ی زمانی صفر تا } 10 \text{ ثانیه}}{\text{سرعت متوسط مصرف } O_3 \text{ در بازه‌ی زمانی } 50 \text{ تا } 60 \text{ ثانیه}} = \frac{0,078 \times 10^{-5}}{0,013 \times 10^{-5}} = 6$$

۶۵- از HCl تولیدی در واکنش  $B_2H_6(g) + 6Cl_2(g) \rightarrow 2BCl_3(g) + 6HCl(g)$  برای واکنش  $2Al(s) + 6HCl(aq) \rightarrow 2AlCl_3(aq) + 3H_2(g)$  استفاده می‌شود. ۶/۵ مول  $B_2H_6$  را به همراه ۲۴/۵ مول  $Cl_2$  وارد یک ظرف سر بسته می‌کنیم تا با هم واکنش دهند. اگر پس از مدتی مجموع مول‌های گازی برابر ۳۳ باشد و HCl در ظرف دیگری و در واکنش دوم در مدت دو دقیقه مصرف شود. سرعت تولید گاز هیدروژن بر حسب  $mol \cdot L^{-1} \cdot min^{-1}$  کدام است؟ (حجم بالای محلول در ظرف واکنش دوم، ۳ لیتر است.)

۱ (۱) ۲ (۲) ۳ (۳) ۴ (۴)

گزینه‌ی ۱ پاسخ صحیح است.



$$6/5 - x \quad 24/5 - 6x \quad 2x \quad 6x$$

$$n_{\text{کل}} = n_{B_2H_6} + n_{Cl_2} + n_{BCl_3} + n_{HCl}$$

$$= (6/5 - x) + (24/5 - 6x) + (2x) + (6x) \Rightarrow 33 = 31 + x \Rightarrow x = 2 \text{ mol}$$

با استفاده از مقدار پارامتر x که آنرا محاسبه کردیم، می‌توانیم تعداد مول HCl تولیدی در واکنش اول را پیدا کنیم. HCl تولید شده در ظرف اول به عنوان واکنش دهنده وارد ظرف دوم شده و گاز  $H_2$  را تولید می‌کند.

$$\text{تعداد مول HCl تولید شده در ظرف اول} = 6x = 6 \times 2 = 12 \text{ mol}$$

$$\text{?mol H}_2 = 12 \text{ mol HCl} \times \frac{3 \text{ mol H}_2}{6 \text{ mol HCl}} = 6 \text{ mol H}_2 \quad (\text{در ظرف دوم تولید می‌شود})$$

$$\Delta n_{H_2} = 6 \text{ mol} \Rightarrow \Delta [H_2] = \frac{\Delta n}{V} = \frac{6}{3} = 2 \text{ mol} \cdot L^{-1}$$

$$\Delta t = 2 \text{ min}$$

$$\bar{R}_{H_2} = + \frac{\Delta [H_2]}{\Delta t} = \frac{2}{2} = 1 \text{ mol} \cdot L^{-1} \cdot \text{min}^{-1}$$

۶۶- اگر ۶/۷۲ لیتر مخلوط پروپان و اکسیژن در شرایط STP طوری بسوزند که هیچ‌کدام از آنها اضافه نماند، چند کیلوژول گرما آزاد می‌شود؟



۱ (۱) ۵۵ ۲ (۲) ۸۷/۵ ۳ (۳) ۱۱۰ ۴ (۴) ۱۴۳/۵

$$6/72 \text{ L مخلوط} \times \frac{1 \text{ mol مخلوط}}{22/4 \text{ L مخلوط}} \times \frac{2200 \text{ kJ}}{6 \text{ mol مخلوط}} = 110 \text{ kJ}$$

گزینه‌ی ۳ پاسخ صحیح است.

۶۷- در یک ظرف، سه ترکیب گازی A، B و C وجود دارد. با استفاده از اطلاعات زیر معادله واکنش انجام شده بین

$$\bar{R}_C = +\frac{\Delta n_C}{\Delta t} \quad \text{و} \quad \bar{R}_A = 0.25 \times \frac{\Delta n_B}{\Delta t} = \frac{1}{2} \frac{\Delta n_C}{\Delta t} \quad \text{آن‌ها کدام است؟}$$



گزینه‌ی ۱ پاسخ صحیح است. با توجه به رابطه‌ی  $\bar{R}_C = +\frac{\Delta n_C}{\Delta t}$  به این نکته پی می‌بریم که C فراورده‌ی واکنش می‌باشد، چون برای محاسبه سرعت متوسط آن، کنار  $\Delta n$  علامت منفی وجود ندارد.

$$\bar{R}_A = \frac{1}{2} \frac{\Delta n_C}{\Delta t} = \frac{1}{2} \bar{R}_C \Rightarrow \frac{\bar{R}_A}{\bar{R}_C} = \frac{1}{2} = \frac{\text{ضریب استوکیومتری A}}{\text{ضریب استوکیومتری C}}$$

به کمک تساوی بالا به این نتیجه می‌رسیم که ضریب استوکیومتری C، دو برابر ضریب استوکیومتری A می‌باشد. در

رابطه‌ی  $\bar{R}_A = 0.25 \times \frac{\Delta n_B}{\Delta t}$ ، با توجه به این که می‌دانیم  $\bar{R}_A$  کمیتی مثبت است، بنابراین  $\frac{\Delta n_B}{\Delta t}$  هم مثبت می‌باشد،

پس B هم فراورده این واکنش و  $\frac{\Delta n_B}{\Delta t}$  نشان‌دهنده‌ی  $\bar{R}_B$  است.

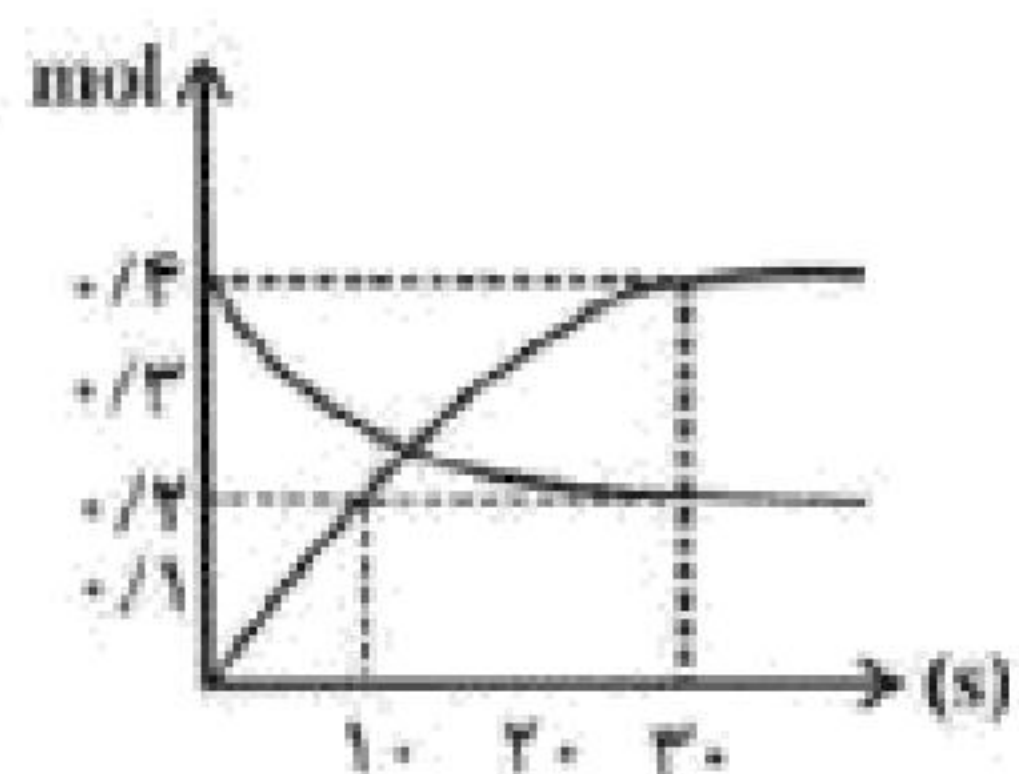
$$\bar{R}_A = 0.25 \times \frac{\Delta n_B}{\Delta t} = 0.25 \times \bar{R}_B \Rightarrow \frac{\bar{R}_A}{\bar{R}_B} = \frac{1}{4} = \frac{\text{ضریب استوکیومتری A}}{\text{ضریب استوکیومتری B}}$$

ضریب استوکیومتری B، چهار برابر ضریب استوکیومتری A می‌باشد. هم‌چنین می‌دانیم که B و C فراورده واکنش هستند، پس A واکنش‌دهنده می‌باشد. (توجه: واکنش نمی‌تواند بدون ماده‌ی اولیه باشد، B و C فراورده‌اند. پس حتماً A واکنش‌دهنده این واکنش است)

ضریب استوکیومتری C، دو برابر ضریب استوکیومتری A و ضریب استوکیومتری B چهار برابر ضریب استوکیومتری A است، پس اگر ضریب استوکیومتری A را یک در نظر بگیریم، ضریب استوکیومتری C، برابر با ۲ و ضریب استوکیومتری B برابر با ۴ می‌باشد. با توجه به این توضیحات معادله‌ی واکنش انجام شده در ظرف به صورت  $A \rightarrow 4B + 2C$  است.

$$\bar{R}_{\text{واکنش}} = \frac{\bar{R}_A}{1} = \frac{\bar{R}_B}{4} = \frac{\bar{R}_C}{2}$$

۶۸- با توجه به نمودار مقابل که تغییرات مول را در واکنش  $B(g) \rightarrow 2A(g)$  نشان می‌دهد، کدام گزینه درست است؟



(۱) سرعت متوسط تولید A در بازه‌ی زمانی ۱۰ تا ۳۰ ثانیه بیش‌تر از ۱۰ ثانیه اول می‌باشد.

(۲) در این واکنش رابطه  $\frac{-\Delta[B]}{\Delta t} = \frac{2\Delta[A]}{\Delta t}$  برقرار است.

(۳) اگر سرعت متوسط واکنش در فاصله‌ی زمانی ۳۰ ثانیه ابتدایی برابر با  $\frac{0.1}{L \cdot \min}$  باشد، حجم ظرف واکنش ۴ لیتر می‌باشد.

(۴) با گذشت زمان سرعت متوسط مصرف B کاهش و سرعت متوسط تولید ماده A افزایش می‌یابد.

گزینه‌ی ۳ پاسخ صحیح است.

$$\bar{R}_{\text{واکنش}} = \bar{R}_B = \bar{R}_B = \frac{\Delta(\text{molB})}{L \Delta t} \Rightarrow 0.1 = \frac{0.2 \text{ mol}}{xL \cdot \frac{1}{2} \text{ min}} \Rightarrow 0.1x = 0.4 \Rightarrow x = 4L$$

بررسی سایر گزینه‌ها:

(۱) سرعت واکنش در زمان‌های آغازین بیش‌تر است.

(۲) در این واکنش رابطه  $\frac{-\Delta[B]}{\Delta t} = \frac{\Delta[A]}{2\Delta t}$  برقرار است.

(۴) با گذشت زمان سرعت متوسط مصرف و یا تولید مواد کاهش می‌یابد.

۶۹- مقداری گاز  $\text{NO}_2$  را وارد ظرف در بسته مناسب می‌کنیم تا مطابق واکنش  $2\text{NO}_2(g) \rightarrow 2\text{NO}(g) + \text{O}_2(g)$

تجزیه شود. اگر در دقیقه دوم از شروع واکنش مجموع حجم گازهای NO،  $\text{NO}_2$  و  $\text{O}_2$  در شرایط STP برابر ۱۴ لیتر باشد و سهم هر کدام از گازها به نسبت استوکیومتری آنها باشد، مقدار  $\text{NO}_2$  در شروع واکنش چند گرم بوده است و برای مصرف مقدار باقی‌مانده  $\text{NO}_2$  با نصف سرعت اولیه (دقیق ۰ تا ۲) چند ثانیه زمان لازم است؟

$$(N=14, O=16 : \text{g} \cdot \text{mol}^{-1})$$

$$120 - 23 \quad (4) \qquad 240 - 23 \quad (3) \qquad 150 - 28/75 \quad (2) \qquad 300 - 28/75 \quad (1)$$

گزینه‌ی ۳ پاسخ صحیح است. با توجه به «داده‌های سؤال برای تعیین سهم هر یک از گازها ۱۴ لیتر را به ۵ قسمت مساوی تقسیم می‌کنیم که برابر ۲/۸ لیتر است. بنابراین حجم گاز  $\text{O}_2$  برابر ۲/۸ لیتر و حجم هر یک از گازهای NO و  $\text{NO}_2$  برابر ۵/۶ لیتر است. بنابراین جرم مصرف شده  $\text{NO}_2$  با استفاده از  $\text{O}_2$  یا NO تولیدی برابر است با:

$$\text{جرم مصرف شده } \text{NO}_2 = 5/6 L \text{NO} \times \frac{1 \text{ molNO}}{22/4 L \text{NO}} \times \frac{2 \text{ molNO}_2}{2 \text{ molNO}} \times \frac{46 \text{ gNO}_2}{1 \text{ molNO}_2} = 11/5 \text{ gNO}_2$$

$$\text{جرم باقی مانده } \text{NO}_2 = 5/6 L \text{NO}_2 \times \frac{1 \text{ molNO}_2}{22/4 L \text{NO}_2} \times \frac{46 \text{ gNO}_2}{1 \text{ molNO}_2} = 11/5 \text{ gNO}_2$$

$$\text{مقدار گرم اولیه } \text{NO}_2 = \text{مقدار مصرف شده} + \text{مقدار باقی مانده} = 11/5 \text{ g} + 11/5 \text{ g} = 23 \text{ g}$$

با توجه به این‌که در ۲ دقیقه نصف  $\text{NO}_2$  مصرف شده است، پس برای مصرف نصف باقی‌مانده با نصف سرعت اولیه، ۴ دقیقه (۲۴۰s) زمان نیاز است.



۷۰- با توجه به واکنش گرما شیمیایی:  $C_3H_8(g) + 5O_2(g) \rightarrow 3CO_2(g) + 4H_2O(g)$ ,  $\Delta H = -2000 \text{ kJ}$

با گرمای حاصل از سوختن چند لیتر گاز پروپان با چگالی  $2 \text{ g.L}^{-1}$  می‌توان دمای یک قطعه آهن با جرم ۸ کیلوگرم را به اندازه  $50^\circ \text{C}$  افزایش داد؟  
 (  $c_{Fe} = 0.45 \text{ J.g}^{-1}.\text{ }^\circ\text{C}^{-1}$ ,  $H = 1$ ,  $C = 12 \text{ : g.mol}^{-1}$  )  
 ۱/۶۹ (۱)      ۱/۹۸ (۲)      ۱/۹۶ (۳)      ۱/۸۹ (۴)

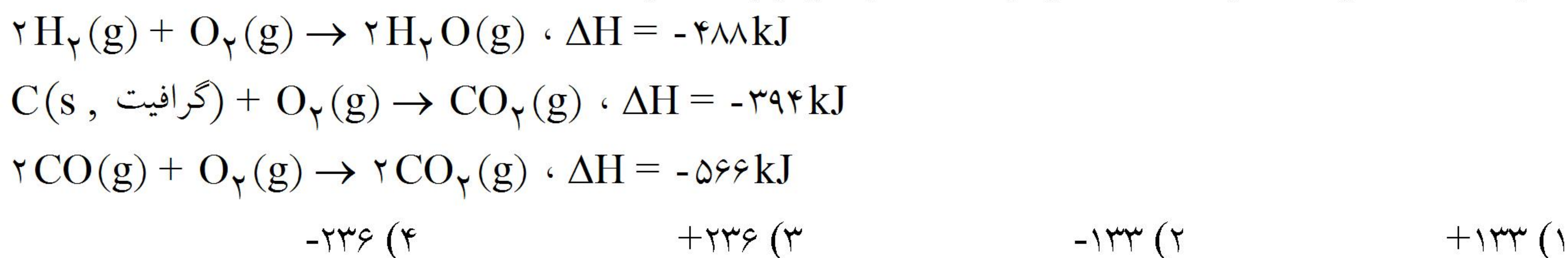
گزینه ۲ پاسخ صحیح است. زیرا، داریم:

$$q = 8000 \text{ g} \times 0.45 \text{ J.g}^{-1}.\text{ }^\circ\text{C}^{-1} \times 50^\circ \text{C} = 180000 \text{ J} = 180 \text{ kJ}$$

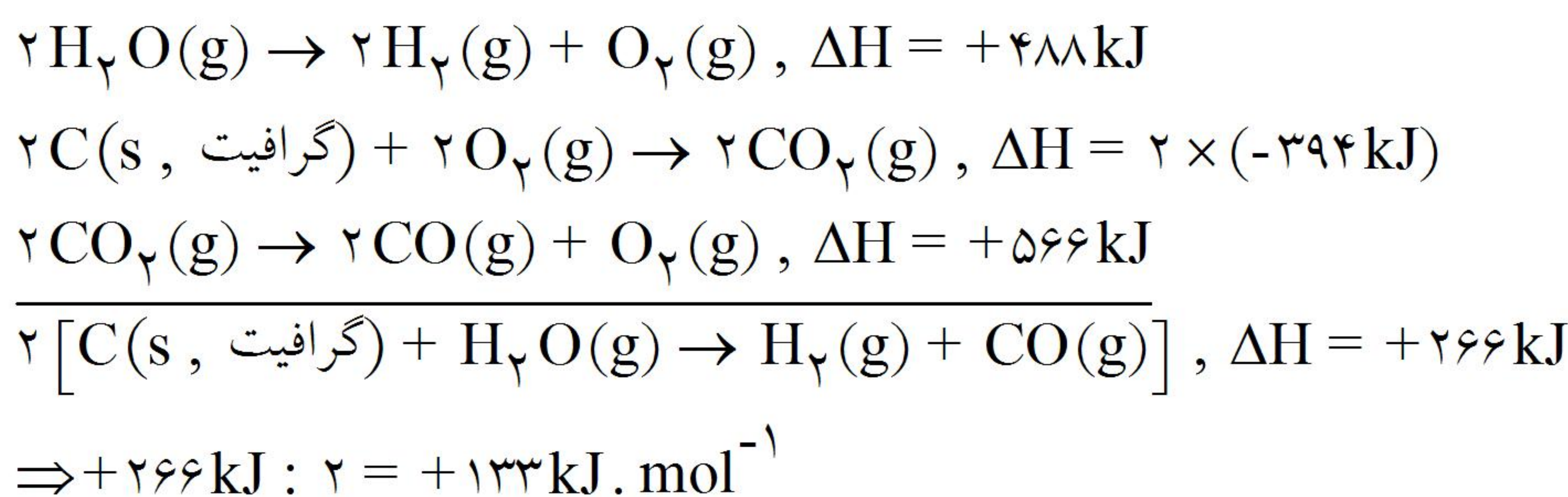
$$44 \text{ g C}_3\text{H}_8 \quad 2000 \text{ kJ} \quad \rightarrow \quad x = \frac{180 \text{ kJ} \times 44 \text{ g C}_3\text{H}_8}{2000 \text{ kJ}} = 3.96 \text{ g}$$

$$V = \frac{m}{d} = \frac{3.96 \text{ g}}{2 \text{ g.L}^{-1}} = 1.98 \text{ L}$$

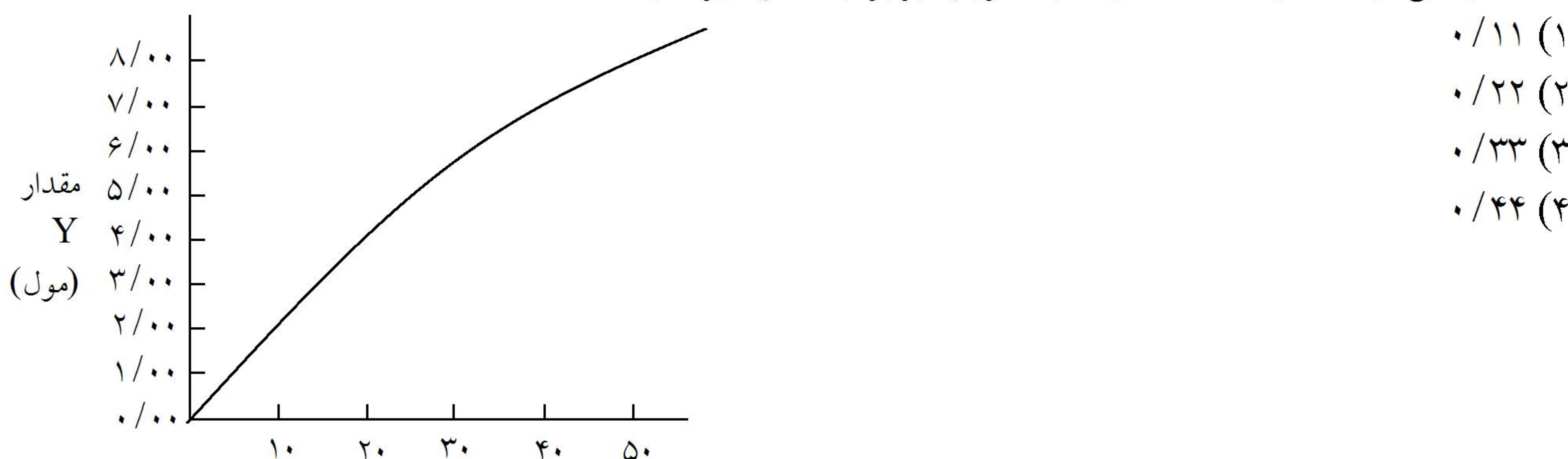
۷۱- با توجه به واکنش‌های زیر،  $\Delta H$  واکنش تولید گاز آب، برابر چند کیلوژول است؟



گزینه ۱ پاسخ صحیح است. زیرا، گاز آب، مخلوط  $H_2(g) + CO(g)$  است. از این‌رو، می‌توان نوشت:



۷۲- با توجه به نمودار روبه‌رو که به واکنش فرضی:  $X(g) \rightarrow 2Y(g)$  مربوط است، سرعت متوسط مصرف  $X$  در فاصله زمانی از ۱۰ دقیقه تا ۳۰ دقیقه، به تقریب برابر چند مول بر دقیقه است؟



گزینه ۱ پاسخ صحیح است. زیرا، داریم:

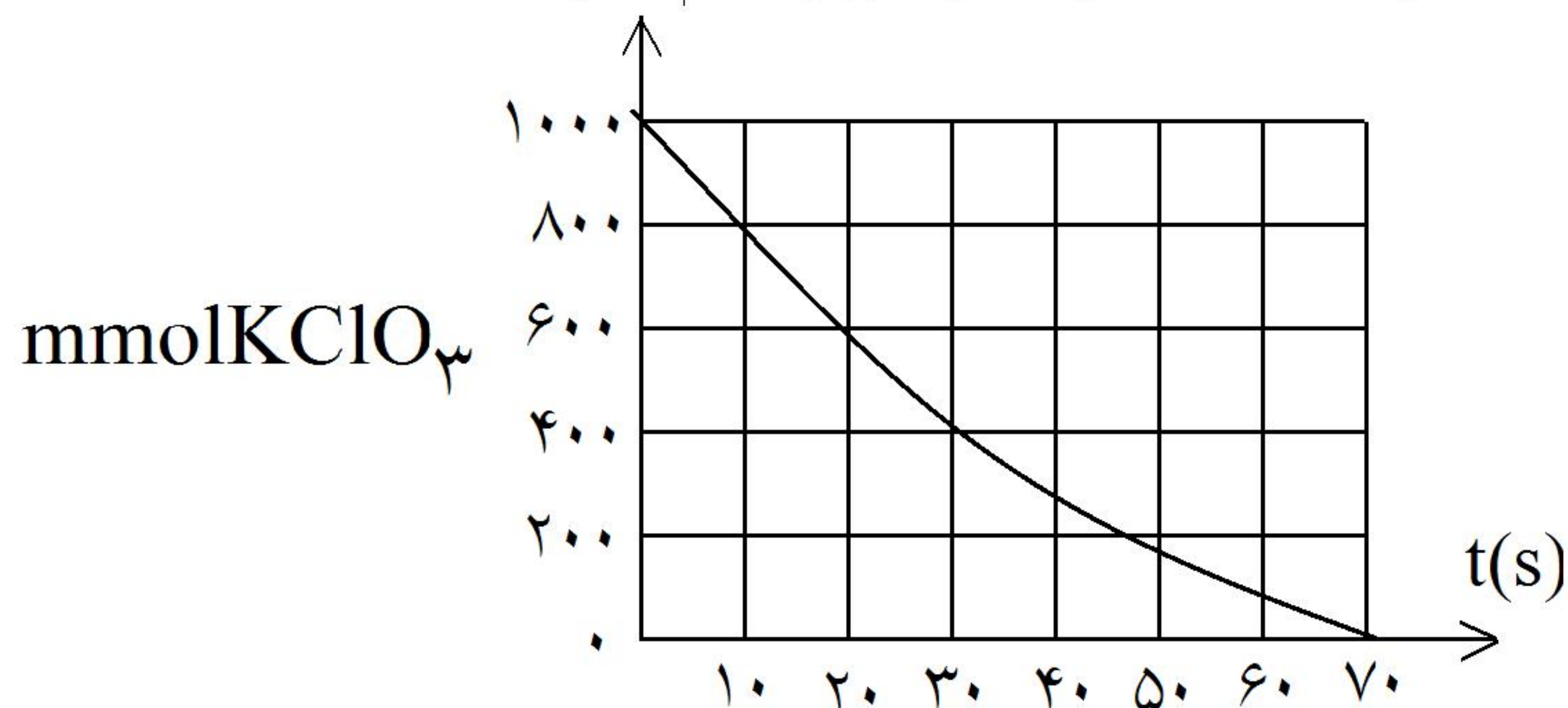
$$\Delta t = 30 \text{ min} - 10 \text{ min} = 20 \text{ min}$$

$$[\Delta Y] = 6/4 \text{ mol} - 2 \text{ mol} = 4/4 \text{ mol}$$

$$Y = \text{سرعت متوسط تولید} = 4/4 \text{ mol} : 20 \text{ min} = 0.22 \text{ mol.min}^{-1}$$

$$X = \text{سرعت متوسط مصرف} = 0.22 \text{ mol.min}^{-1} \times \frac{1}{2} = 0.11 \text{ mol.min}^{-1}$$

۷۳- با توجه به نمودار روبه‌رو، چند ثانیه طول می‌کشد تا ۰/۳ مول گاز از تجزیه گرمایی پتاسیم کلرات به دست آید؟



- (۱) ۱۰  
(۲) ۲۰  
(۳) ۴۰  
(۴) ۵۰

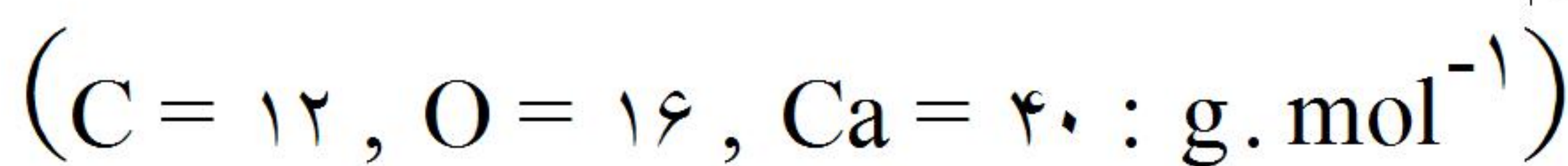
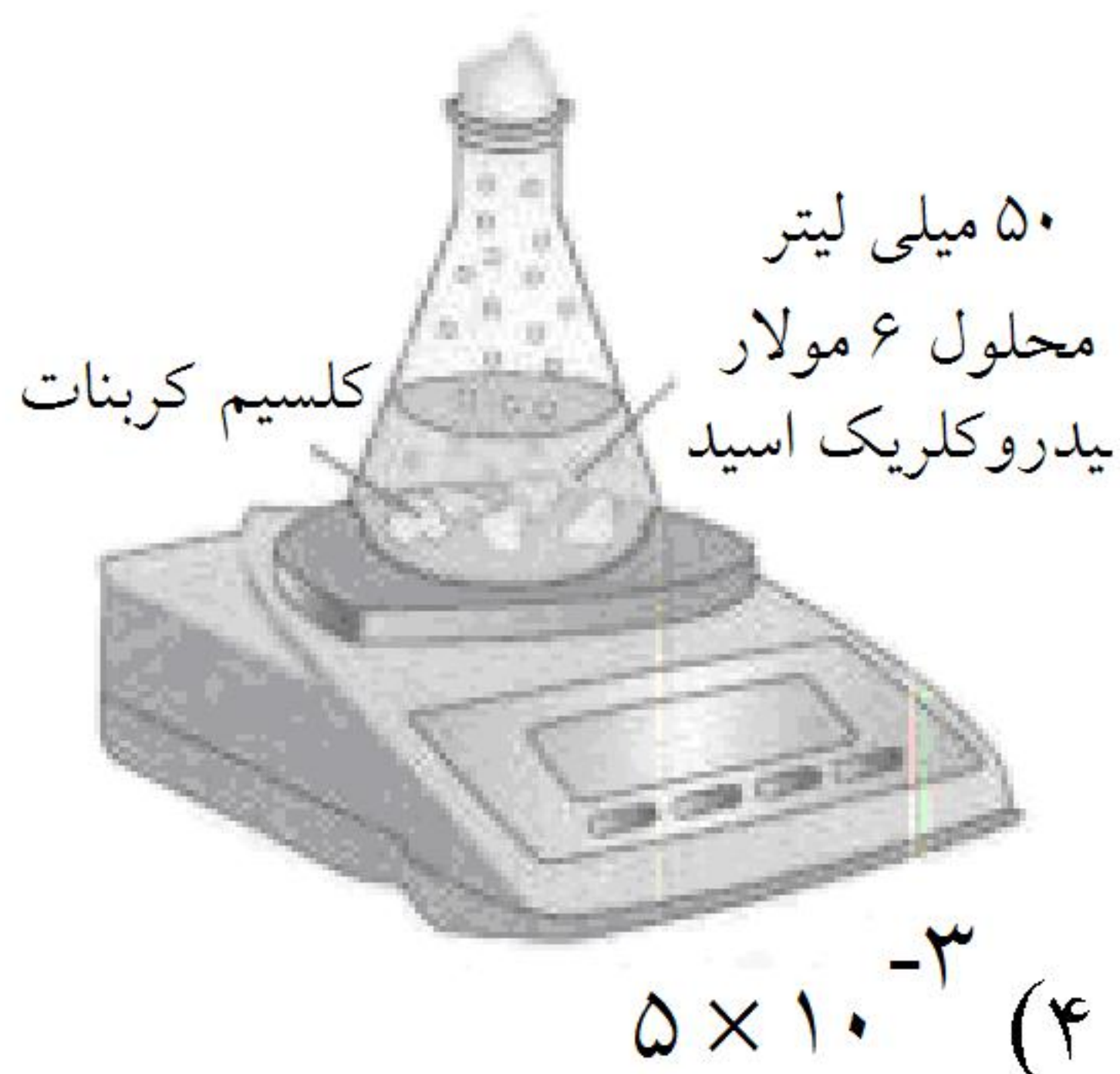
گزینه ۱ پاسخ صحیح است. زیرا، داریم:



$$x = \frac{0/3\text{mol O}_2 \times 2\text{mol KClO}_3}{3\text{mol O}_2} = 0/2\text{mol KClO}_3 = 200\text{mmol KClO}_3$$

با توجه به نمودار، برای تجزیه ۲۰۰ میلی‌مول پتاسیم کلرات، ۱۰ ثانیه زمان لازم است.

۷۴- اگر واکنش نشان داده شده در شکل، در دما و فشار اتاق در مدت یک دقیقه به طور کامل انجام شود، سرعت متوسط تولید فراورده گازی واکنش، چند  $\text{mol} \cdot \text{s}^{-1}$  است؟ (درون ارلن، ۵ تکه کلسیم کربنات وجود دارد که جرم هریک برابر ۳/۶ گرم است.)



- (۱)  $1/5 \times 10^{-3}$  (۲)  $3 \times 10^{-3}$  (۳)  $2/5 \times 10^{-3}$  (۴)  $5 \times 10^{-3}$

گزینه ۳ پاسخ صحیح است. زیرا داریم:



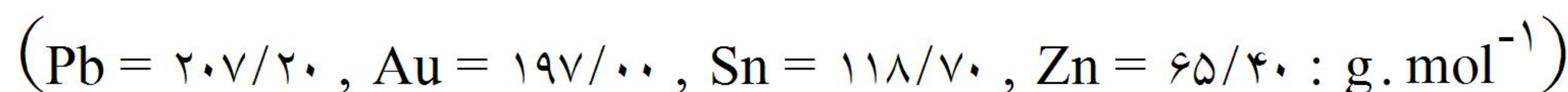
$$? \text{mol CaCO}_3 = (5 \times 3/6) \text{g CaCO}_3 \times \frac{1 \text{mol CaCO}_3}{100 \text{g CaCO}_3} \times \frac{6 \text{mol HCl}}{1 \text{L HCl}(\text{aq})} = 0/3 \text{mol HCl}$$

$$\rightarrow 0/3 \text{mol} \div 2 \text{mol} = 0/15$$

بنابراین، هیدروکلریک اسید، واکنش دهنده محدودکننده است و داریم:

$$? \text{mol CO}_2 = 1 \text{s} \times \frac{1 \text{min}}{60 \text{s}} \times \frac{0/3 \text{mol HCl}}{1 \text{min}} \times \frac{1 \text{mol CO}_2}{2 \text{mol HCl}} = 0/0025 \text{mol CO}_2$$

۷۵- در دمای اتاق، دمای ۵۰ گرم از کدام فلز با جذب ۱۰۰ ژول گرما، بیش‌تر افزایش می‌یابد؟ (عدد داخل پرانتز، مقدار ظرفیت گرمایی مولی هر فلز، برحسب  $^{\circ}\text{C}^{-1} \cdot \text{J} \cdot \text{mol}^{-1}$  است.)



- (۱) روی (۲۵/۳۷) (۲) سرب (۲۵/۴۸) (۳) طلا (۲۴/۶۳) (۴) قلع (۲۵/۴۰)

گزینه ۲ پاسخ صحیح است. زیرا، براساس رابطه «جرم مولی  $\times$  ظرفیت گرمایی ویژه = ظرفیت گرمایی مولی»، از میان فلزهای پیشنهاد شده، سرب دارای کم‌ترین ظرفیت گرمایی ویژه است.

۷۶- در دمای اتاق، برای بالا بردن دمای ۲ مول آهن به اندازه  $100^{\circ}\text{C}$ ، چند کیلوژول گرما لازم است؟ (ظرفیت گرمایی

ویژه آهن برابر  $0.45\text{J}\cdot\text{g}^{-1}\cdot^{\circ}\text{C}^{-1}$  است.) ( $\text{Fe} = 56\text{g}\cdot\text{mol}^{-1}$ )

۶/۵ (۴)

۵/۶ (۳)

۵/۰۴ (۲)

۴/۰۵ (۱)

گزینه ۲ پاسخ صحیح است. زیرا، داریم:

$$m = 2\text{ mol} \times 56\text{ g}\cdot\text{mol}^{-1}\text{ Fe} = 112\text{ gFe}$$

$$q = 112\text{ g} \times 0.45\text{ J}\cdot\text{g}^{-1}\cdot^{\circ}\text{C}^{-1} \times 100^{\circ}\text{C} = 5040\text{ J} \Rightarrow 5.04\text{ kJ}$$

۷۷- چند مورد از مطالب زیر، درست‌اند؟

• ظرفیت گرمایی ویژه مواد، از رابطه  $c = \frac{q \cdot \Delta T}{m}$  به دست می‌آید.

• حرکت‌های نامنظم ذره‌های سازنده هر ماده را حرکت های گرمایی آن می‌گویند.

• دمای یک نمونه ماده، ملاکی از میزان انرژی جنبشی و سرعت حرکت ذره‌های سازنده آن است.

• با به کارگیری ظرفیت گرمایی ویژه هر ماده، می‌توان وابستگی ظرفیت گرمایی آن را به مقدار جرم آن از بین برد.

۴ (۴)

۳ (۳)

۲ (۲)

۱ (۱)

گزینه ۳ پاسخ صحیح است. زیرا، از مطالب بیان شده، تنها مطالب نخست نادرست است.

۷۸- با توجه به واکنش‌های زیر، در تبدیل یک مول  $A(s)$  به یک مول  $A(g)$ ، تغییر آنتالپی چند کیلوژول است؟



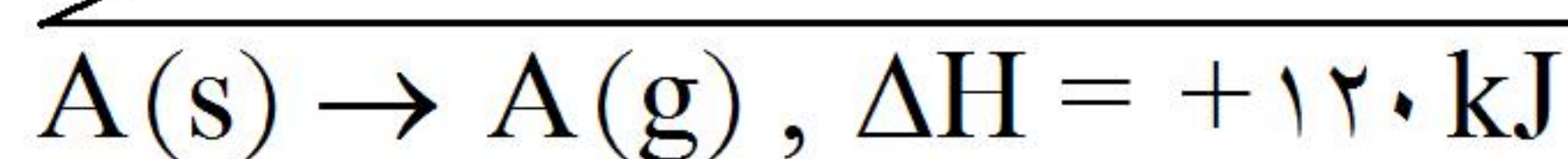
-۵۸۰ (۴)

-۱۷۸ (۳)

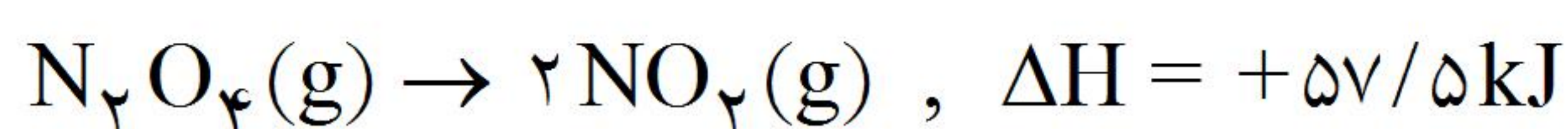
+۱۴۰ (۲)

+۱۲۰ (۱)

گزینه ۱ پاسخ صحیح است. زیرا، داریم:



۷۹- با توجه به واکنش‌های زیر،  $\Delta H$  تشکیل  $N_2O_4(g)$ ، برابر چند کیلوژول بر مول است؟



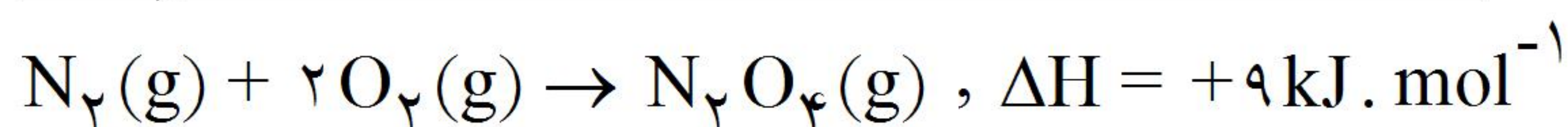
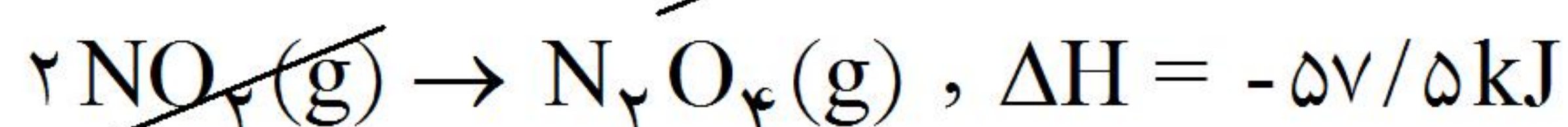
-۳۷ (۴)

+۳۷ (۳)

-۹ (۲)

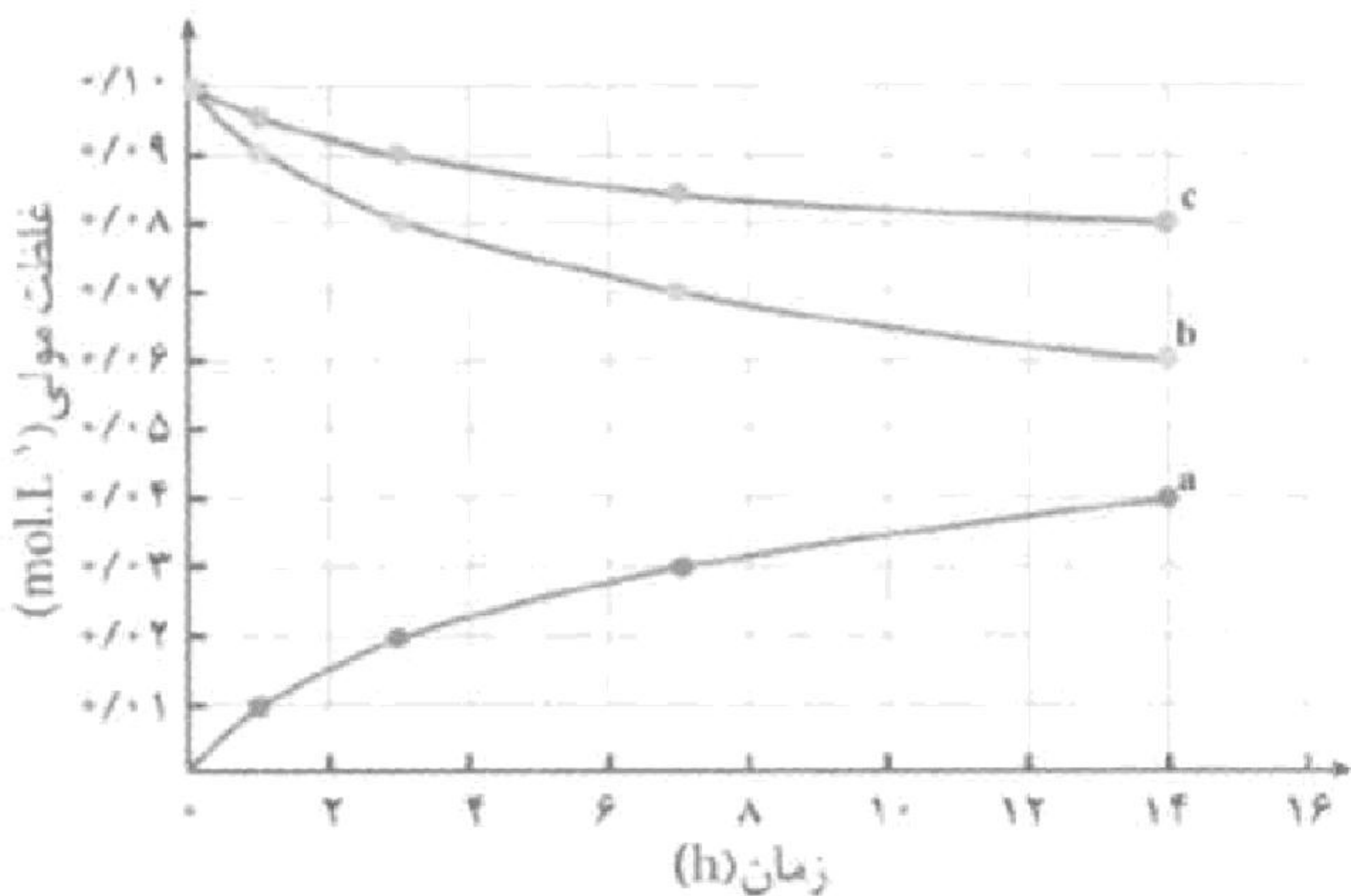
+۹ (۱)

گزینه ۱ پاسخ صحیح است. زیرا، داریم:



- ۸۰- کدام یک از مطالب زیر درباره‌ی عوامل مؤثر بر سرعت واکنش‌ها صحیح می‌باشد؟  
 الف) سوختن الیاف آهن داغ و سرخ شده در یک ارلن پر اکسیژن (ماهیت اکسیژن)  
 ب) سوختن گرد آهن بر اثر پاشیدن و پخش کردن آن بر روی شعله (سطح تماس)  
 پ) تفاوت رنگ بین گندهای بارگاه ملکوتی امامان و طاق مسی مقبره‌ی حافظ (غلظت واکنش‌دهنده)  
 ت) آسان‌تر سوختن جبهی قند آغشته به خاک باغچه (ماهیت واکنش‌دهنده)
- ۱) ب      ۲) الف، ب و پ      ۳) الف و ب      ۴) الف و ت

گزینه ۱ پاسخ صحیح است. الف) مربوط به غلظت اکسیژن است.  
 ب) صحیح است.  
 پ) مربوط به ماهیت واکنش‌دهنده است.  
 ت) مربوط به اثر کاتالیزگر می‌باشد.



- ۸۱- با توجه به نمودار «غلظت - زمان» زیر، چند مورد از مطالب پیشنهاد شده، درست‌اند؟

\* سرعت متوسط تولید فرآورده، ۴ برابر سرعت مصرف ماده C است.  
 \* سرعت متوسط مصرف ماده b با سرعت متوسط تولید ماده a برابر است.  
 \* سرعت متوسط تولید فرآورده آن از آغاز تا ساعت دهم، برابر  $3 \times 10^{-3} \text{ mol.L}^{-1} \cdot \text{h}^{-1}$  است.  
 \* سرعت متوسط مصرف ماده C، بین ساعت‌های سوم تا

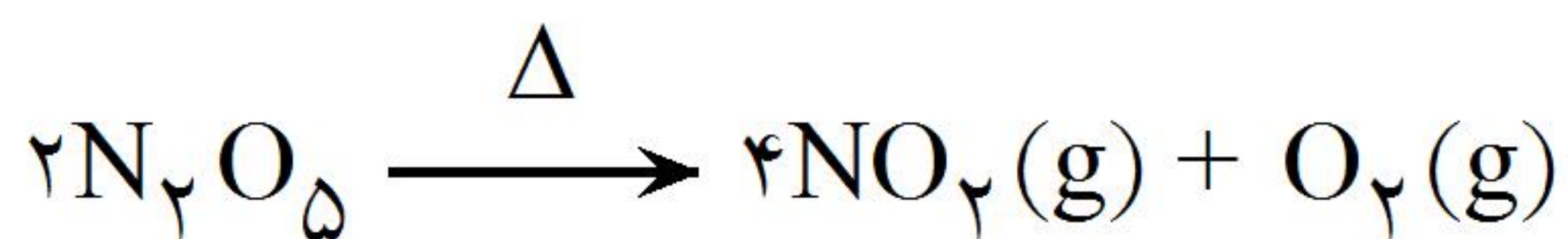
هفتم، برابر  $4 \times 10^{-4} \text{ mol.L}^{-1} \cdot \text{min}^{-1}$  است.

۱) ۱      ۲) ۲      ۳) ۳      ۴) ۴

- گزینه ۱ پاسخ صحیح است. زیرا، تنها مطلب مربوط به برابری سرعت تولید a با سرعت مصرف b، درست است.
- ۸۲- اگر در واکنش تجزیه گرمایی دی‌نیتروژن پتوکسید، پس از گذشت ۹۰ ثانیه، ۹۶ گرم گاز اکسیژن تشکیل شود، سرعت متوسط تشکیل گاز  $\text{NO}_2$ ، برابر چند مول بر دقیقه است؟ ( $\text{O} = 16 \text{ g.mol}^{-1}$ )

۱) ۴      ۲) ۵      ۳) ۸      ۴) ۱۰

گزینه ۳ پاسخ صحیح است.



$$96 \text{ g O}_2 \div 32 = 3 \text{ mol O}_2$$

چون سرعت تشکیل  $\text{NO}_2$ ، چهار برابر سرعت تشکیل  $\text{O}_2$  است. بنابراین، در این زمان، ۱۲ مول  $\text{NO}_2$  تشکیل شده است.

$$\bar{R}(\text{NO}_2) = \frac{12 \text{ mol NO}_2}{1/5 \text{ min}} = 8 \text{ mol.min}^{-1}$$

- ۸۳- متفاوت بودن سرعت واکنش سدیم و پتاسیم در شرایط یکسان با آب، به نقش کدام عامل بر سرعت واکنش‌های شیمیایی مربوط است؟

۱) اندازه ذره‌ها      ۲) دمای محیط  
 ۳) ماهیت واکنش‌دهنده      ۴) حالت فیزیکی واکنش‌دهنده

گزینه ۳ پاسخ صحیح است. علت تفاوت سرعت دو واکنش، متفاوت بودن ماهیت دو واکنش‌دهنده است.

۸۴- اگر در واکنش:  $2\text{KClO}_3(s) \xrightarrow{\Delta \text{ و } \text{MnO}_2} 2\text{KCl}(s) + 3\text{O}_2(g)$  پس از گذشت ۷ دقیقه،  $\frac{6}{3}$  مول گاز

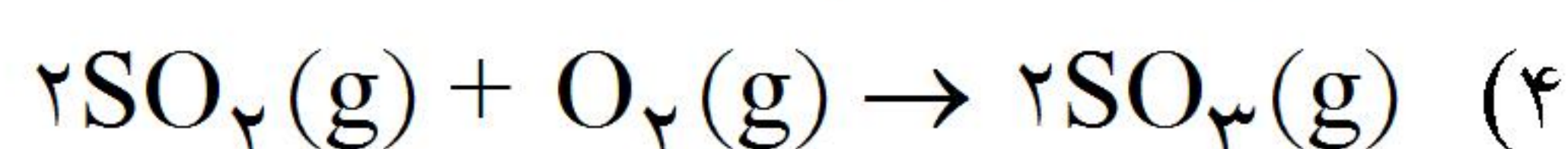
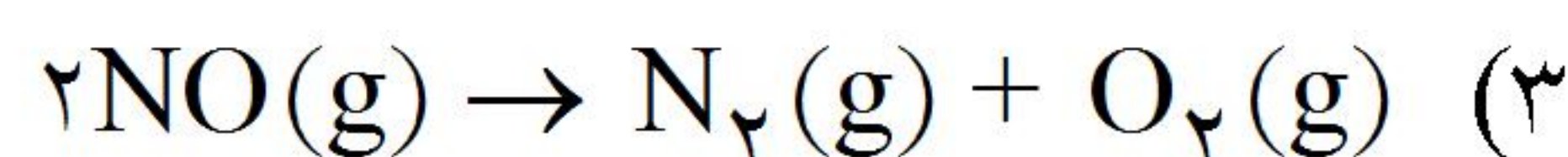
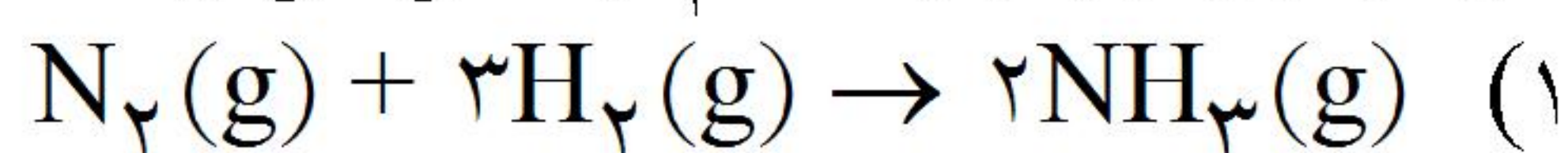
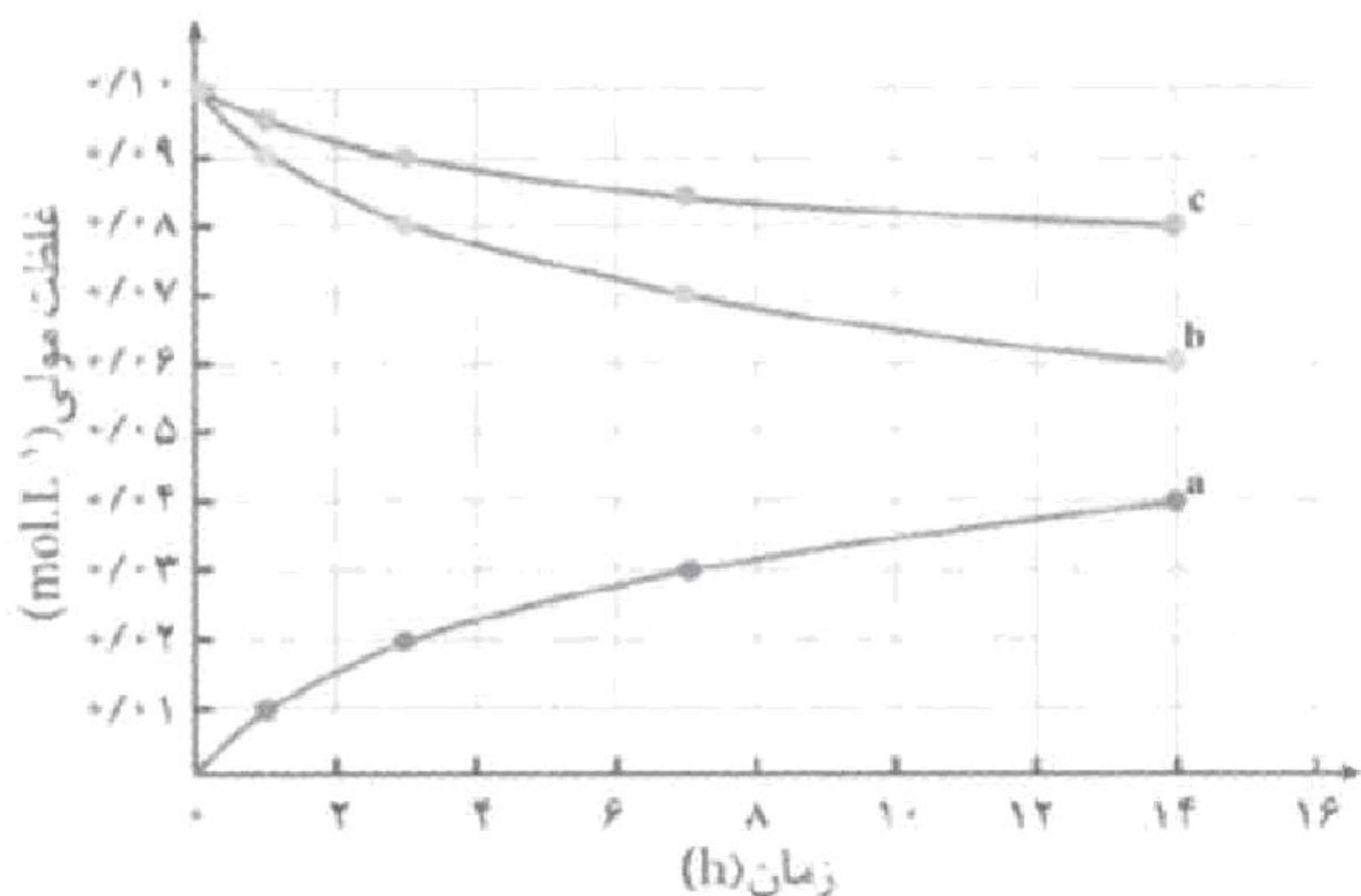
اکسیژن آزاد شود، سرعت متوسط مصرف پتاسیم کلرات، چند مول بر ثانیه است؟

- (۱)  $10^{-3}$  (۲)  $10^{-2}$  (۳)  $\frac{1}{5} \times 10^{-1}$  (۴)  $2 \times 10^{-3}$

گزینه ۲ پاسخ صحیح است.

$$\bar{R}(\text{KClO}_3) = \frac{2}{3}\bar{R}(\text{O}_2) \Rightarrow \bar{R}(\text{KClO}_3) = \frac{2}{3} \times \frac{6/3 \text{ mol}}{7 \times 60 \text{ s}} = 10^{-2} \text{ mol.s}^{-1}$$

۸۵- نمودار روبه‌رو را به کدام واکنش می‌توان نسبت داد؟



گزینه ۴ پاسخ صحیح است.

۸۶- با توجه به نمودار روبه‌رو، چند مورد از مطالب زیر، درست‌اند؟

\* مربوط به تغییر غلظت یک واکنش دهنده است.

\* می‌توان آن را به واکنش فرضی  $\text{A}(s) \rightarrow \text{B}(g)$  نسبت داد.

\* سرعت متوسط مصرف این ماده در ۱۵۰ دقیقه اول واکنش،

برابر با  $0.16 \text{ mol.h}^{-1}$  است.

\* میانگین سرعت مصرف این ماده در ۵۰ دقیقه اول واکنش،

برابر با  $4 \times 10^{-3}$  مول بر دقیقه است.

- (۱) ۱ (۲) ۲

- (۳) ۳ (۴) ۴

گزینه ۲ پاسخ صحیح است. تنها دو مطلب نخست درست‌اند.

۸۷- در بین عبارتهای داده شده، چند عبارت درست است؟

انفجار، یک واکنش شیمیایی بسیار سریع است که در آن مقدار کمی از یک ماده‌ی منفجره، حجم بسیار زیادی از گازهای داغ تولید می‌کند.

اشیای آهنی در هوای مرطوب به سرعت زنگ می‌زنند و فرومی‌ریزند.

واکنش تجزیه‌ی سلولز کاغذ بسیار کند رخ می‌دهد و کاغذ در گذر زمان زرد و پوسیده می‌شود.

در انفجار مواد شیمیایی، انبساط بسیار سریع گازهای آزاد شده، شوک موجی بسیار قوی در سرتاسر محیط منتشر می‌کند.

- (۱) ۱ (۲) ۲ (۳) ۳ (۴) ۴

گزینه ۳ پاسخ صحیح است. واکنش‌های زنگ زدن آهن آهسته هستند و نباید گفته شود به سرعت زنگ می‌زنند.

۸۸- کدام عبارت درست است؟

(۱) سرعت مصرف یا تولید یک ماده‌ی شرکت‌کننده در واکنش در گستره‌ی زمانی قابل اندازه‌گیری را سرعت متوسط واکنش می‌گویند.

(۲) واکنش کلسیم کربنات با محلول هیدروکلریک اسید به صورت  $\text{CaCO}_3(\text{s}) + 2\text{HCl}(\text{aq}) \rightarrow \text{CaCl}_2(\text{aq}) + \text{H}_2\text{CO}_3(\text{aq})$  می‌باشد.

(۳) سرعت متوسط مصرف یا تولید مواد شرکت‌کننده در یک واکنش به ویژگی‌های قابل اندازه‌گیری آن بستگی دارد.

(۴) در واکنش فلز روی با محلول مس (II) سولفات، آهنک مصرف یون‌های  $\text{Cu}^{2+}$  کندتر از آهنک تولید یون‌های  $\text{Zn}^{2+}$  است.

گزینه ۳ پاسخ صحیح است. در گزینه‌ی ۱ باید به جای سرعت متوسط واکنش، سرعت متوسط آن ماده نوشته شود. در گزینه‌ی ۲ باید به جای  $\text{H}_2\text{CO}_3(\text{aq})$  نوشته شود:  $\text{H}_2\text{O}(\text{g}) + \text{CO}_2(\text{g})$  زیرا  $\text{H}_2\text{CO}_3$  اسیدی ناپایدار است و نمی‌تواند فرآورده‌ی واکنش باشد.

در گزینه‌ی ۴ به ازای مصرف یک مول  $\text{Cu}^{2+}$  یک مول  $\text{Zn}^{2+}$  ایجاد می‌شود. بنابراین آهنک مصرف  $\text{Cu}^{2+}$  با آهنک تولید  $\text{Zn}^{2+}$  برابر است.

۸۹- کدام عبارت درست است؟

(۱) برای شرکت‌کننده‌ها در فاز گاز و محلول سرعت متوسط را فقط می‌توان با یکای مول بر لیتر بر زمان تعریف نمود.

(۲) برای نگهداری طولانی‌مدت گوشت، آن را در زیر آب نگهداری می‌کنند.

(۳) حبه‌ی قند آغشته به خاک باغچه بسیار کند و به سختی می‌سوزد.

(۴) طاق مسی مقبره‌ی حافظ با گذشت زمان سبز رنگ شده است.

گزینه ۴ پاسخ صحیح است. در عبارت گزینه‌ی ۱، اگر فقط حذف شود، به عبارتی درست تبدیل می‌شود. گوشت و فرآورده‌های گوشتی به حالت منجمد ذخیره می‌شوند. خاک باغچه در نقش کاتالیزگر سرعت سوختن حبه‌ی قند را زیاد می‌کند.

۹۰- در کدام عبارت، عامل اختلاف سرعت در واکنش درست معرفی شده است؟

(۱) فلزهای قلیایی سدیم و پتاسیم در شرایط یکسان با آب سرد به سرعت واکنش می‌دهند اما سرعت این دو واکنش متفاوت است (غلظت).

(۲) الیاف آهن داغ و سرخ شده در هوا نمی‌سوزد در حالی که در ارلن پر از اکسیژن می‌سوزد (سطح تماس).

(۳) شعله‌ی آتش، گرد آهن موجود در کپسول چینی را داغ و سرخ می‌کند در حالی که پاشیدن و پخش کردن گرد آهن بر روی شعله سبب سوختن آن می‌شود (سطح تماس).

(۴) محلول هیدروژن پراکسید در دمای اتاق به کندی تجزیه می‌شود اما چنانچه با محلول پتاسیم یدید مخلوط شود، به سرعت تجزیه می‌گردد (حالت فیزیکی).

گزینه ۳ پاسخ صحیح است. گرم کردن گرد آهن در کپسول چینی باعث دور شدن گاز اکسیژن از سطح فلز می‌شود، اما با قرار گرفتن گرد آهن در شعله‌ی در حال سوختن با توجه به دمای بالای شعله و تجمع بیشتر اکسیژن در آن ناحیه، سطح تماس اکسیژن با گرد آهن زیاد شده و می‌سوزد.

۹۱- با توجه به واکنش  $\text{A}(\text{s}) \rightarrow \text{B}(\text{g}) + 2\text{C}(\text{g})$ ، کدام رابطه درست است؟

$$\frac{2\Delta[\text{B}]}{\Delta t} = \frac{\Delta[\text{C}]}{\Delta t} \quad (۴) \quad \frac{\Delta[\text{A}]}{\Delta t} = -\frac{\Delta[\text{C}]}{2\Delta t} \quad (۳) \quad \frac{2\Delta[\text{C}]}{\Delta t} = \frac{\Delta[\text{B}]}{\Delta t} \quad (۲) \quad \frac{\Delta[\text{B}]}{\Delta t} = -\frac{\Delta[\text{A}]}{\Delta t} \quad (۱)$$

گزینه ۴ پاسخ صحیح است. چون A یک ماده‌ی جامد است، سرعت بر حسب غلظت برای آن قابل تعریف نیست و گزینه‌های ۱ و ۳ نادرست هستند.

با توجه به ضریب استوکیومتری B و C، سرعت متوسط C دو برابر B می‌باشد و بدین ترتیب گزینه‌ی ۴ درست است.

۹۲- در واکنش تجزیه‌ی  $N_2O_5$  کدام رابطه درست است؟

$$\bar{R}_{\text{واکنش}} = -\frac{\Delta n(NO_2)}{4\Delta t} \quad (2) \qquad \bar{R}_{\text{واکنش}} = -\frac{\Delta n(N_2O_5)}{\Delta t} \quad (1)$$

$$\bar{R}_{\text{واکنش}} = \bar{R}_{O_2} = \frac{\Delta n(O_2)}{\Delta t} \quad (4) \qquad \bar{R}_{NO_2} = \frac{\Delta n(NO_2)}{4\Delta t} \quad (3)$$

گزینه ۴ پاسخ صحیح است. واکنش تجزیه‌ی  $N_2O_5$  به صورت  $2N_2O_5(g) \rightarrow 4NO_2(g) + O_2(g)$  است. بنابراین:

$$\bar{R}_{(\text{واکنش})} = \bar{R}_{O_2} = \frac{\bar{R}_{NO_2}}{4} = \frac{\bar{R}_{N_2O_5}}{2}$$

$$\bar{R}_{NO_2} = \frac{\Delta n(NO_2)}{\Delta t}, \quad \bar{R}_{N_2O_5} = -\frac{\Delta n(N_2O_5)}{\Delta t}$$

$$\Rightarrow R_{(\text{واکنش})} = -\frac{\Delta n(N_2O_5)}{2\Delta t} = \frac{\Delta n(NO_2)}{4\Delta t} = \frac{\Delta n(O_2)}{\Delta t}$$

۹۳- سرعت متوسط تولید  $O_2$  در واکنش تجزیه‌ی  $N_2O_5$  با سرعت متوسط مصرف آن در واکنش سوختن متان برابر است. نسبت جرم  $N_2O_5$  مصرفی به جرم  $CH_4$  مصرفی در دو واکنش موردنظر کدام است؟

$$(N = 14, O = 16, C = 12, H = 1 : g.mol^{-1})$$

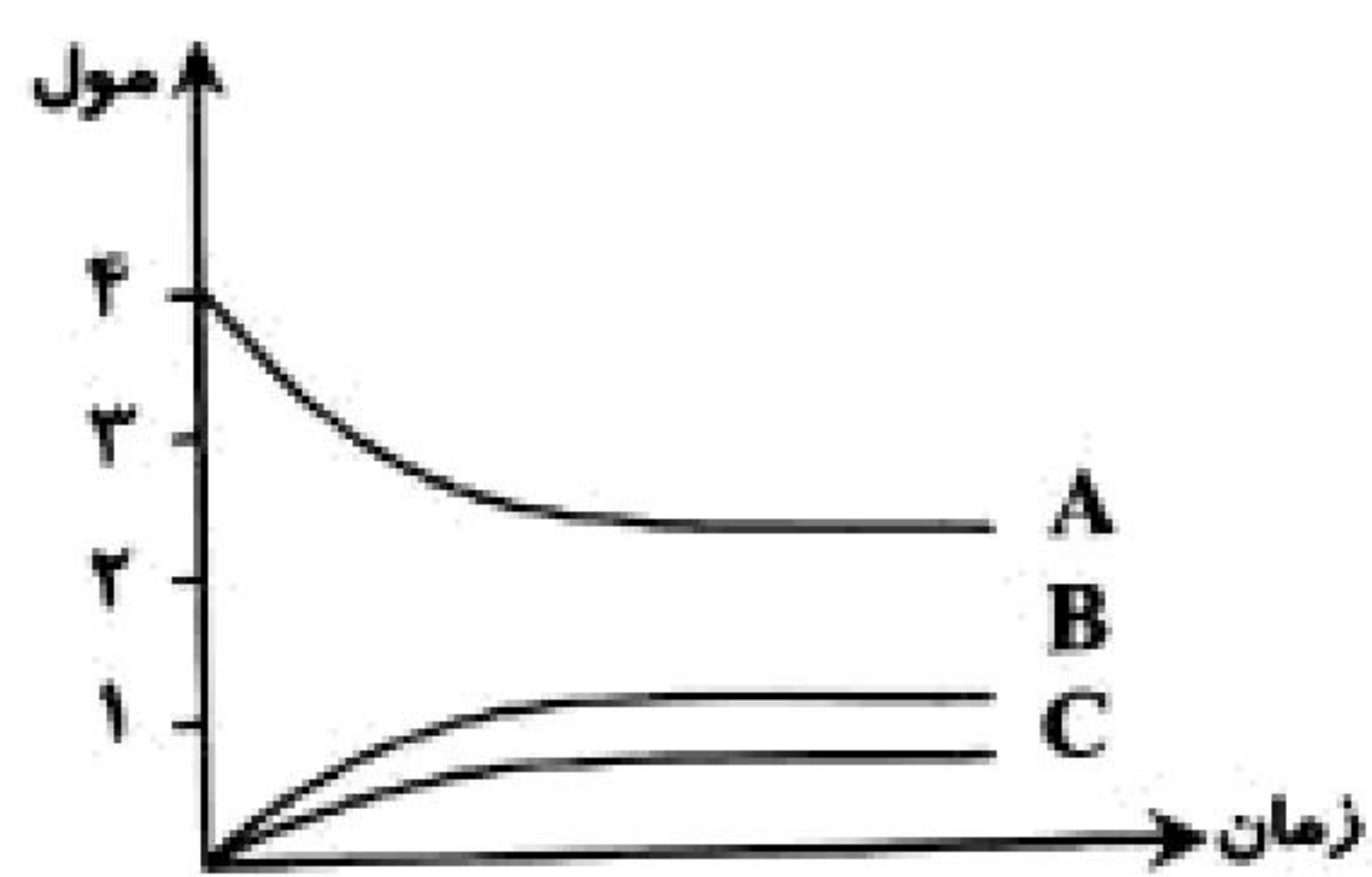
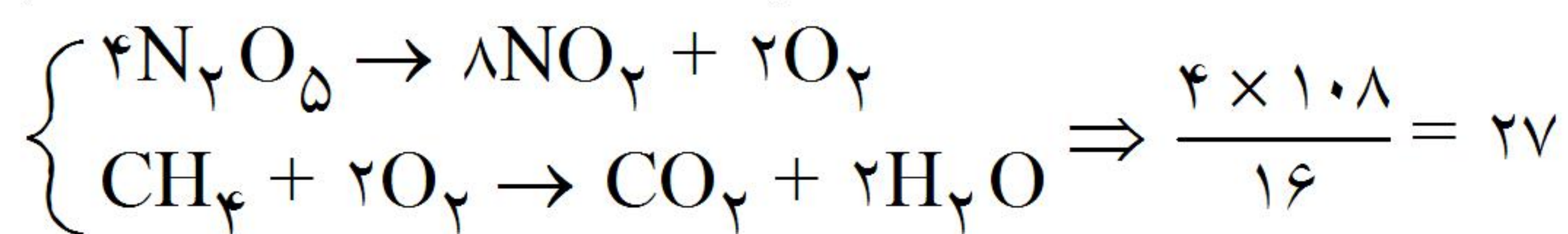
۱۶ (۴)

۸ (۳)

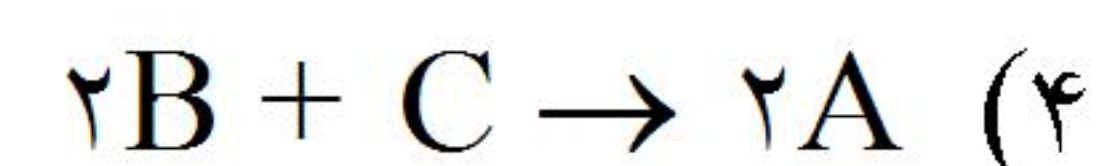
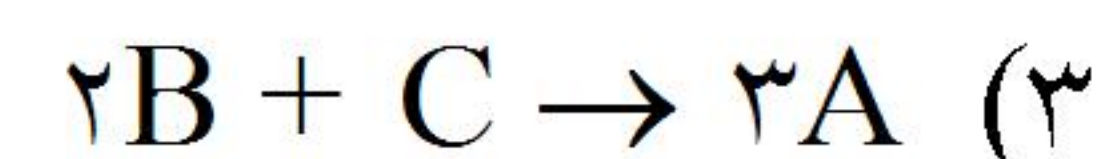
۶۴ (۲)

۲۷ (۱)

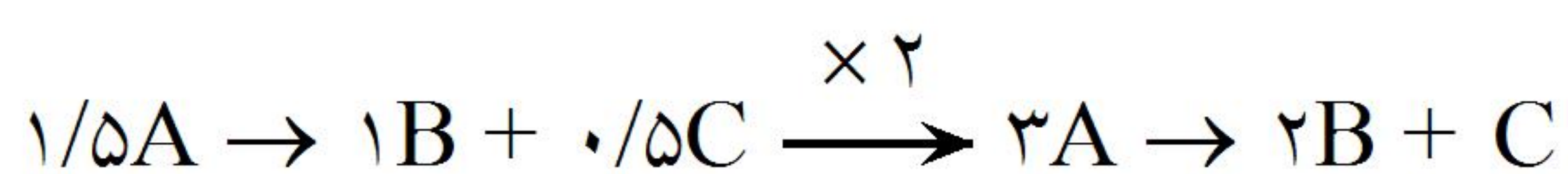
گزینه ۱ پاسخ صحیح است. وقتی برای یک ماده‌ی مشترک سرعت تولید یا مصرف برابر است، ضریب آن‌ها را برابر می‌کنیم و محاسبات را ادامه می‌دهیم.



۹۴- با توجه به نمودار مقابل، معادله‌ی واکنش مربوط به کدام است؟



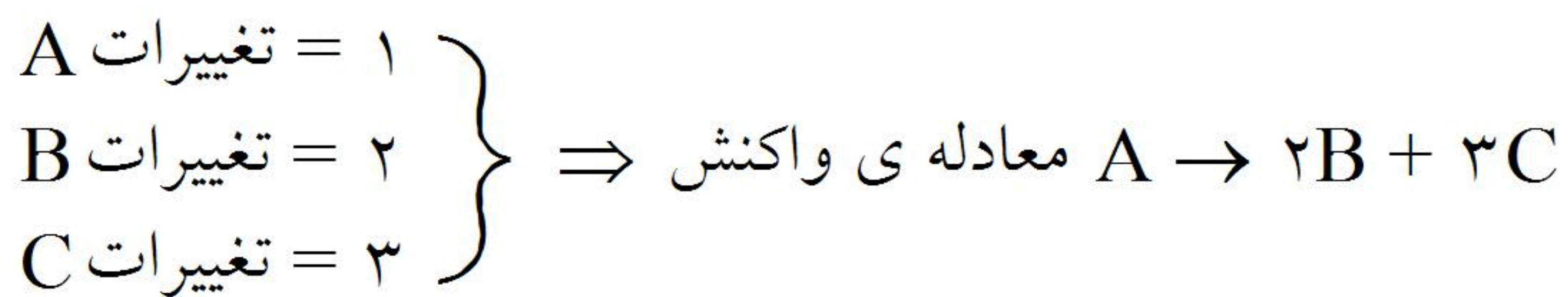
گزینه ۲ پاسخ صحیح است. ابتدا تغییرات هر ماده را به‌عنوان ضریب اولیه قرار می‌دهیم، سپس با اعداد صحیح تبدیل می‌کنیم:



۹۵- در واکنش  $aA \rightarrow bB + cC$  در دقیقه‌ی ۵، مقدار A، B و C به ترتیب ۲، ۳ و ۴ مول و در دقیقه‌ی ۱۰ به ترتیب ۱، ۴ و ۶ مول می‌باشد. مقدار اولیه‌ی A و سرعت متوسط واکنش بر حسب مول بر دقیقه به ترتیب کدام است؟

(۱) ۰/۲، ۳ (۲) ۰/۲، ۴ (۳) ۰/۱، ۳ (۴) ۰/۱، ۴

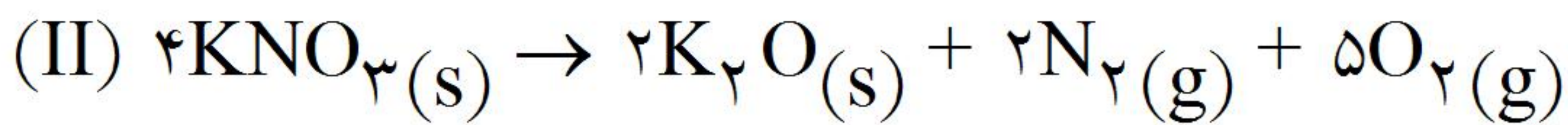
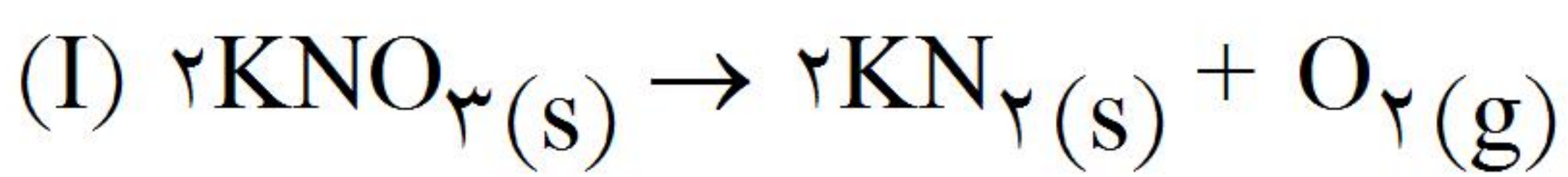
گزینه ۱ پاسخ صحیح است.



به‌ازای تشکیل ۲ مول B در دقیقه‌ی ۵، ۱ مول A مصرف می‌شود. بنابراین مقدار A برابر ۳ مول خواهد بود.

$$\bar{R}_{\text{واکنش}} = \bar{R}_A = \frac{۱}{۵} = ۰/۲ \text{ mol. min}^{-۱}$$

۹۶- ۵۰۵ گرم  $KNO_3$  را در سامانه‌ای ۴ لیتری قرار می‌دهیم. ۸۰٪ آن در واکنش (I) و ۲۰٪ آن در واکنش (II) شرکت می‌کند. چنانچه پس از ۵ دقیقه ۵۰٪ آن تجزیه شود، سرعت متوسط تولید گاز اکسیژن چند مول بر لیتر بر دقیقه خواهد بود؟ ( $K = ۳۹, O = ۱۶, N = ۱۴: \text{g. mol}^{-۱}$ )



$$(۱) \quad ۴/۱۲۵ \times ۱۰^{-۲} \quad (۲) \quad ۸/۱۲۵ \times ۱۰^{-۲} \quad (۳) \quad ۱/۶۲۵ \times ۱۰^{-۱} \quad (۴) \quad ۳/۲۵ \times ۱۰^{-۱}$$

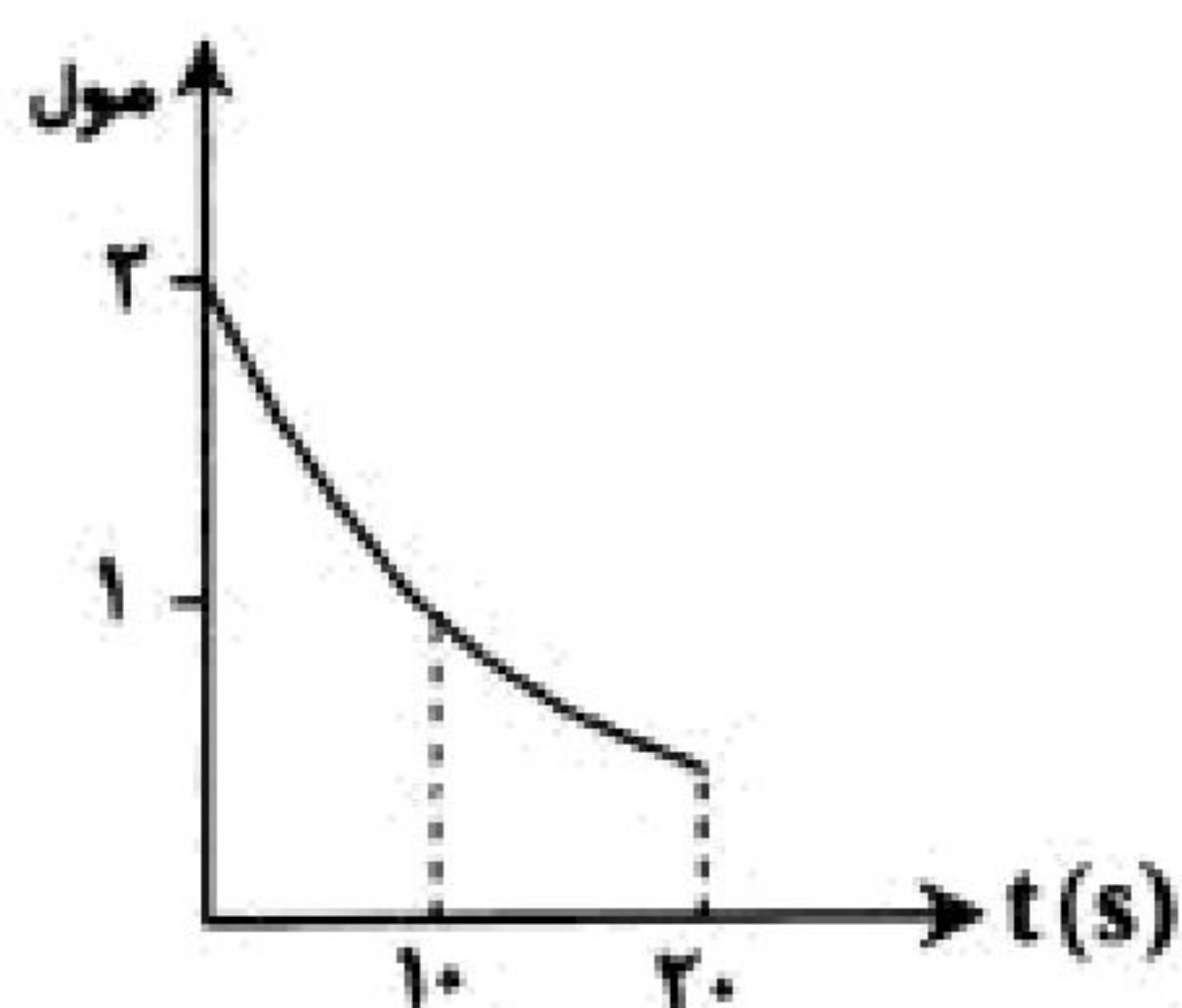
گزینه ۲ پاسخ صحیح است.

$$\text{مول های } KNO_3 = \frac{۵۰۵}{۱۰۱} = ۵ \rightarrow \text{مول های تجزیه شده} = ۵ \times ۰/۵ = ۲/۵$$

$$(I) \quad \text{مول } O_2 \text{ حاصل از واکنش (I)} = ۲ \rightarrow \text{مول های شرکت کننده در واکنش (I)} = ۲/۵ \times ۰/۸ = ۲$$

$$(II) \quad \text{مول } O_2 \text{ حاصل از واکنش (II)} = ۰/۵ \rightarrow \text{مول شرکت کننده در واکنش (II)} = ۰/۵ \times \frac{۵}{۴} = ۰/۶۲۵$$

$$\text{مول های } O_2 = ۱/۶۲۵ \Rightarrow \bar{R}_{[O_2]} = \frac{۱/۶۲۵}{۵ \times ۴} = ۸/۱۲۵ \times ۱۰^{-۲} \text{ mol. L}^{-۱} \cdot \text{min}^{-۱}$$



۹۷- با توجه به نمودار مقابل که مربوط به تجزیه‌ی  $KClO_3$  می‌باشد، سرعت متوسط واکنش چند مول بر دقیقه است و چنانچه ادامه‌ی واکنش با سرعت ثابت برابر سرعت متوسط در ثانیه‌ی ۱۰ تا ۲۰ باشد، پس از چند ثانیه واکنش به انجام می‌رسد؟

$$(۱) \quad ۳۰, ۴/۵ \quad (۲) \quad ۳۰, ۲/۲۵$$

$$(۳) \quad ۴۰, ۴/۵ \quad (۴) \quad ۴۰, ۲/۲۵$$

گزینه ۱ پاسخ صحیح است.



$$\bar{R}_{KClO_3} = \frac{۱/۵}{\left(\frac{۲۰}{۶۰}\right)} = ۴/۵ \text{ mol. s}^{-۱}$$

$$\bar{R}_{KClO_3(۱۰-۲۰)} = \frac{۰/۵}{۱۰} = ۰/۰۵ \text{ mol. s}^{-۱}$$

با توجه به این که ۰/۵ مول از  $KClO_3$  پس از ثانیه‌ی ۲۰ تجزیه نشده باقی مانده است:

$$\frac{۰/۵}{t} = ۰/۰۵ \Rightarrow t = ۱۰ \Rightarrow \text{کل زمان لازم برای انجام واکنش} = ۲۰ + ۱۰ = ۳۰ \text{ s}$$



۹۸- ۲/۵ لیتر آب ( $\rho = 1 \text{ kg} \cdot \text{L}^{-1}$ ) و ۲ لیتر الکل را با یکدیگر مخلوط می‌کنیم. اگر مقدار گرمای جذب شده برای افزایش دمای این محلول به اندازه  $10^\circ \text{C}$  برابر  $157/8$  کیلوژول باشد، چگالی الکل چند  $\frac{\text{kg}}{\text{L}}$  است؟

$$\left( \frac{\text{J}}{\text{g} \cdot ^\circ \text{C}} : c_{\text{آب}} = 4/2, c_{\text{الکل}} = 2/4 \text{ و ظرفیت گرمایی مواد در محلول تغییر نکرده است.} \right)$$

$$1/2 \text{ (۱)} \quad 1/4 \text{ (۲)} \quad 1/5 \text{ (۳)} \quad 1/1 \text{ (۴)}$$

گزینه ۴ پاسخ صحیح است.

$$Q = q_{\text{آب}} + q_{\text{الکل}} = m_{\text{آب}} \times c_{\text{آب}} \times \Delta T + m_{\text{الکل}} \times c_{\text{الکل}} \times \Delta T$$

$$= 2/5 \times 1000 \times 4/2 \times 10 + (2 \times \rho_{\text{الکل}}) \times 1000 \times 2/4 \times 10 = 157/8 \times 10^3 \text{ J} \Rightarrow \rho_{\text{الکل}} = 1/1 \frac{\text{kg}}{\text{L}}$$

۹۹- در واکنش گازی  $A_2(g) + B_2(g) \rightleftharpoons 2AB(g)$  در شرایط غلظت و دمای معین، مولکول‌های  $A_2$  و  $B_2$  در

هر ثانیه  $1/204 \times 10^{25}$  برخورد با یکدیگر خواهند داشت به طوری که از هر یک میلیون برخورد تنها یکی مؤثر واقع می‌شود. سرعت متوسط تولید  $AB(g)$  تقریباً چند  $\text{mol} \cdot \text{min}^{-1}$  خواهد بود؟

$$2/4 \times 10^{-3} \text{ (۱)} \quad 0/4 \times 10^{-4} \text{ (۲)} \quad 2/408 \times 10^{19} \text{ (۳)} \quad 1/204 \times 10^{19} \text{ (۴)}$$

گزینه ۱ پاسخ صحیح است.

$\times \frac{1}{6} \times 10^6$   
 $1/204 \times 10^{19} =$  تعداد برخورد مؤثر در ۱ ثانیه  $\xrightarrow{10^6}$   $1/204 \times 10^{25} =$  تعداد کل برخوردها در یک ثانیه  
 چون به ازای هر برخورد مؤثر بین  $A_2(g)$  و  $B_2(g)$ ، ۲ مولکول  $AB$  ایجاد می‌شود.

تعداد مولکول‌های  $AB$  تولید شده در ۱s  $1/204 \times 10^{19} \times 2 = 2/408 \times 10^{19}$

$$\Rightarrow \frac{2/408 \times 10^{19}}{6/022 \times 10^{23}} = 0/4 \times 10^{-4}$$

$$0/4 \times 10^{-4} \frac{\text{mol}}{\text{s}} \times \frac{60 \text{ s}}{1 \text{ min}} = 2/4 \times 10^{-3} \text{ mol} \cdot \text{min}^{-1}$$

۱۰۰- واکنش:  $Zn(s) + 2H^+(aq) \rightarrow Zn^{2+}(aq) + H_2(g)$ ، بر اثر کدام تغییر، سریع‌تر انجام می‌گیرد؟

آ- بالا بردن دما

ب- انجام واکنش در ظرف سربسته

پ- به کار بردن دانه‌های ریز فلز روی به جای قطعه‌های آن

ت- به کار بردن فسفریک اسید ۰/۰۱ مولار به جای هیدروکلریک اسید ۰/۰۱ مولار

$$1) \text{ آ، ب، ت} \quad 2) \text{ ب، پ، ت} \quad 3) \text{ آ، پ} \quad 4) \text{ ت، پ}$$

گزینه ۳ پاسخ صحیح است.

زیرا بالا بردن دما و نیز افزایش سطح تماس مواد شیمیایی، سرعت واکنش آن‌ها را افزایش می‌دهد.