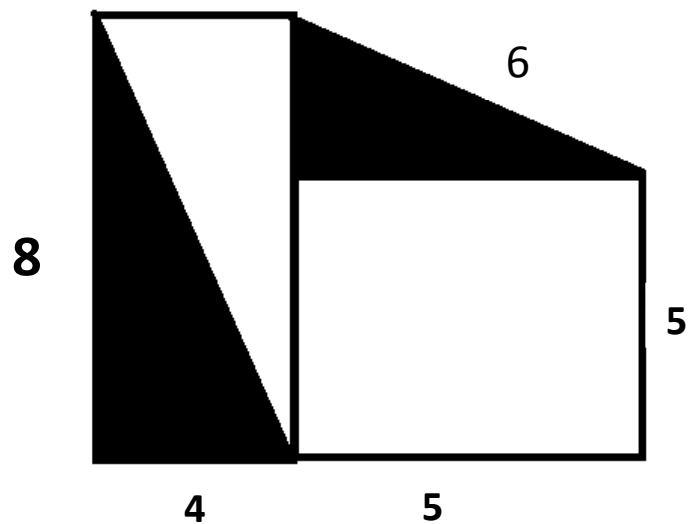
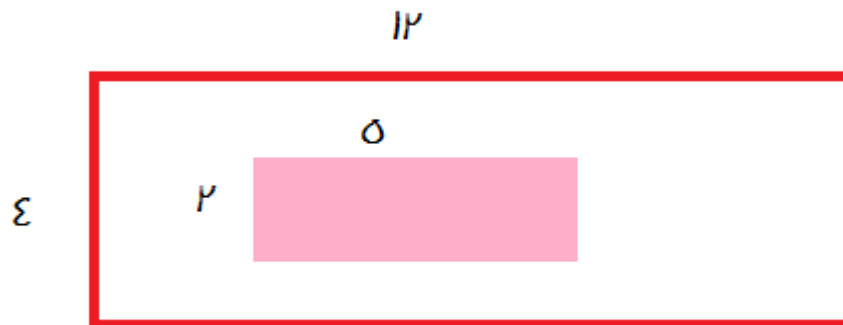
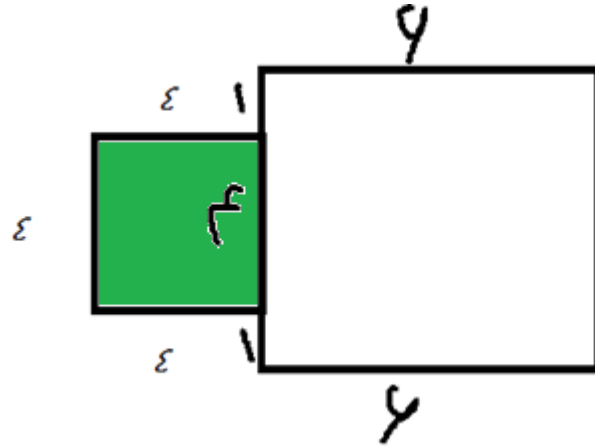
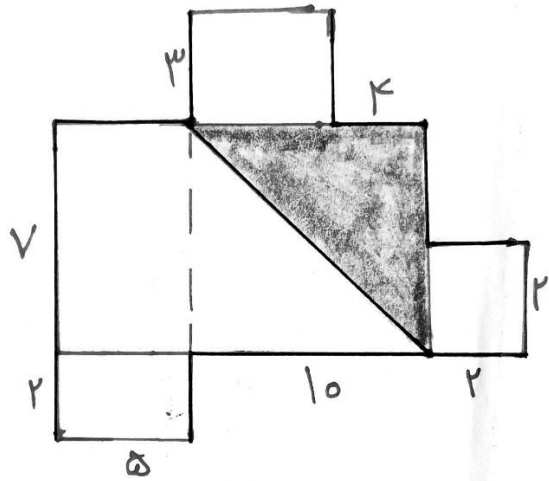


1- الف) محیط و مساحت شکل های زیر را بدست آورید.

ب) مساحت قسمت های رنگ شده را بدست آورید.





2- اگر مساحت زمینی 72 متر مربع باشد و بنواییم آن را با کاشی هایی به ضلع 3 متر
پرنسیم چند کاشی لازم داریم؟

3- اگر محیط باغ مربعی $\frac{2}{6}$ مساحت زمین مستطیل شکلی باشد و عرض زمین 3 و طول آن 12
باشد. طول ضلع باغ چند است؟

4- طول ضلع های نامشخص را بنویسید. سپس مساحت شکل را حساب کنید.

