



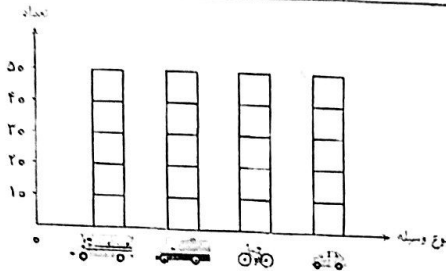




۱- در یکی از خیابان های تهران ۲۷ دوچرخه ، ۲۳ کامیون ، ۱۷ اتوبوس و ۴۸ اتومبیل حرکت می کنند . تعداد تقریبی هر کدام را بنویس و روی نمودار تصویری برای هر ۱۰ وسیله یک مربع را رنگ کن .

نوع وسیله	تعداد	تعداد تقریبی
		
		
		
		



۲- نجمه ۴ سال دارد . پدرش از ۳ برابر سن نجمه ۲۰ سال بیشتر سن دارد . پدر نجمه چند سال دارد ؟

۳- در جاهای خالی عدد مناسب بگذار .

$$6 + 6 + 6 + 6 = \square \times 6$$

$$14 \times 1 = \square$$

$$(18 \div 2) \times 9 = \square$$

$$(5 \times 0) + 4 = \square$$

$$3 \times 8 = \square \times 4$$

$$9 \times 6 = \square \times 9$$

۴- اگر قیمت ۷ خودکار ۴۲ تومان باشد قیمت ۵۲۰ خودکار چند ریال است ؟

۵- در جاهای خالی عدد مناسب بگذار .

$$6 \times 10 = \dots\dots\dots$$

$$9 \times \dots\dots\dots = 900$$

$$39 \times \dots\dots\dots = 0$$

$$20 \times 40 = \dots\dots\dots$$

$$\dots\dots\dots \times 10 = 1700$$

$$40 \times 50 = \dots\dots\dots$$

۶- حاصل ضرب‌ها را به دست آور.

$$\begin{array}{r} 38 \\ \times 4 \\ \hline \end{array}$$

$$\begin{array}{r} 777 \\ \times 6 \\ \hline \end{array}$$

$$\begin{array}{r} 1953 \\ \times 8 \\ \hline \end{array}$$

۷- اصغر آقا ۴۰ تا میخ دارد. او می خواهد به هر صندوقی ۶ میخ بکوبد. او به چند تا از صندوق‌ها می تواند میخ بکوبد؟ آیا میخی باقی می ماند؟

$$74 \overline{) 8}$$

$$39 \overline{) 5}$$

$$56 \overline{) 7}$$

۸- تقسیم‌ها را انجام بده.

۹- آیا ۴۳ مضرب عدد ۵ است؟ ..... اگر ۴۳ را بر ۵ تقسیم کنیم آیا باقی مانده دارد؟

داده	نتیجه
آمار	
مسئله ریاضی	
ضرب	
تقسیم	
ضرب جدول در خانه	