



نام: نام خانوادگی:
تاریخ: 1399/ 9/18

1- زهرا وزینب برای کوهنوردی به دامنه ی کوه رسیدند. با کمک نقشه ی زیر مسیر مناسب برای شروع حرکت آن ها را مشخص کن.

مسیر ب مناسب است. به چه دلیل؟ چون شیب کمتر است و راحتتر می توان از کوه بالا رفت.



2- امیر علی و حسین می خواهند کار دستی خود را با میخ به دیوار نصب کنند




شما با امیر علی موافقید یا حسین؟ حسین چرا؟ چون میخ یک نوع گوه است و هر چه تیز تر باشد راحتتر در دیوار فرو می رود.

3- از این دو چکش، کدام یک برای بیرون

کشیدن میخ بهتر است؟ دلیل انتخاب خود را توضیح دهید. چکش سمت راست - چون دسته

آن بلندتر است و نیروی کمتری لازم دارد.



4- به شکل های زیر توجه کن و اهرم های شبیه هم را به یکدیگر وصل کن.



5- تصویر ساده شده برای هر یک از اهرم های زیر بکش.

