

سوالات دوره ای



۱ - جمع و تفریق های زیر را انجام دهید . (انتقالی)

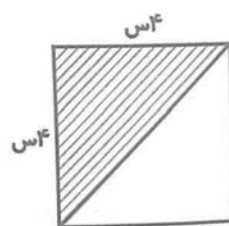
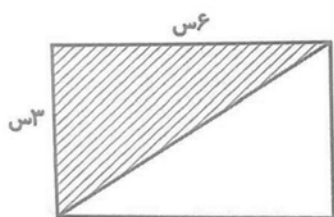
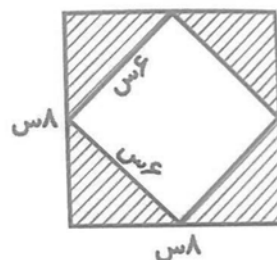
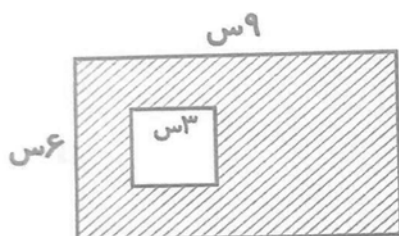
الف - عدد یک هزار و سیصد و ۹ را از عدد چهار هزار و دویست و بیست کم کنید .

ب- عدد سه هزار و پانصد و هفتاد و سه را با عدد چهار هزار و نود و نه جمع کنید .

ج - اختلاف عدد سه هزار و هشتصد و بیست و هفت را از عدد هفت هزار و سی و سه به دست آورید .

د- عدد چهار هزار و پانصد و سه را به اضافه ی چهار هزار و پانصد و هشت کنید .

۲) مساحت قسمت رنگی را در شکل های زیر به دست آورید .



۳- مساحت قسمت رنگ شده ی شکل های زیر را با هم مقایسه کنید

