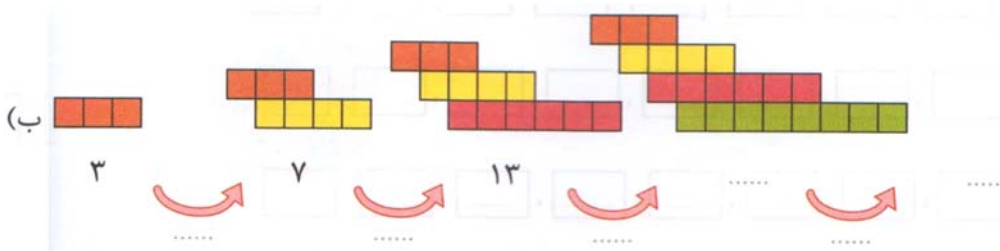
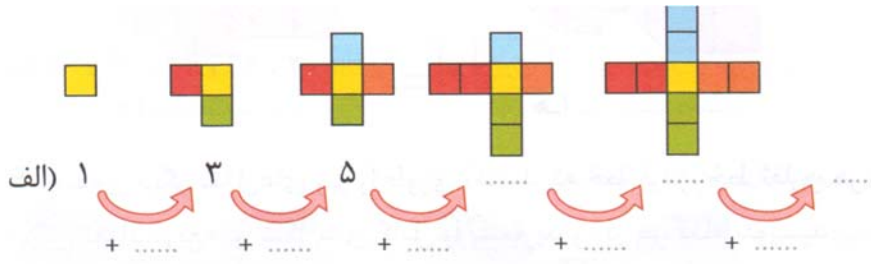




۱- ترانه هر روز ۲ ساعت و هر ساعت ۶ صفحه کتاب داستان می خواند. چند روز طول می کشد تا ترانه ۴۸ صفحه کتاب داستان بخواند؟ (جدول بکشید)

۲- الگوهای زیر را تا یک شکل دیگر ادامه دهید و جاهای خالی را پر کنید.

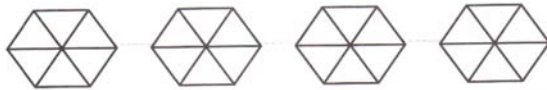


۳- حاصل عبارت مقابل را پیدا کنید.

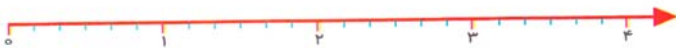
$$(۶۱ - ۵۲) \times (۳+۶)=$$

$$(۶ + ۱۸) \div (۲ \times ۴)=$$

۴- روی شکل ، مقدار خواسته شده را با رنگ کردن نشان دهید، سپس جای آن را روی محور پیدا کنید.



۲ واحد و $\frac{۴}{۶}$ واحد



۵- هر مستطیل را به یک دایره وصل کنید. یک دایره اضافی است.

۷ کیلومتر و ۷۰۰ متر

۶ کیلومتر و ۳۰ متر

۶ کیلومتر و ۳ متر

۷۰۷۰ متر

۷۷۰۰ متر

۶۰۰۳ متر

۶۰۳۰ متر

۶- شش ساعت و نیم بعد از ساعت ۴ بعد از ظهر یعنی ساعت:

۲۲:۳۰

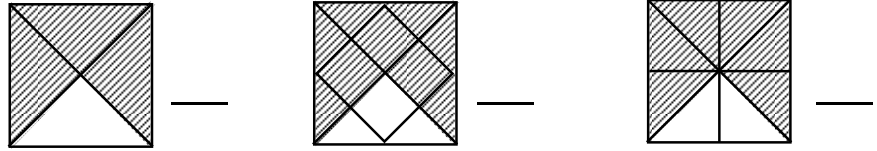
۱۴:۳۰

۲۰

۱۶

۱۹:۳۰

۷- برای هر کدام از شکل‌های زیر یک کسر بنویسید: آیا کسرهای زیر با هم برابرند؟



۸- به سوالات زیر پاسخ مناسب دهید.

یک روز $\frac{1}{24}$ یک ماه است.

چهار ساعت $\frac{1}{6}$ شبانه روز است.

دو شبانه روز $\frac{1}{7}$ یک هفته است.

۹- برای شکل زیر سه کسر مساوی بنویس.

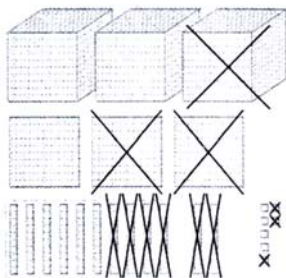


۱۰- کسرهای زیر را با هم مقایسه کن و روی محور نشان بده.

۲ واحد و $\frac{1}{4}$ واحد ۴ واحد و $\frac{3}{4}$ واحد



۱۱- در استخری به طول ۸ و عرض ۴ متر، چند کاشی به ضلع ۲ متر جا می‌گیرد تا سطح آن پر شود؟



۱۲- تفریق مربوط به شکل مقابل را بنویسید؟ (زیر هم بنویسید)