




۱- الگوی عددی زیر را کامل کن.


..... ، ، ، ۲۳۰۰ ، ۲۶۵۰ ، ۳۰۰۰ ، ۳۳۵۰



۲- الگوهای زیر را تا شکل پنجم ادامه بده.



۳- زمان های داده شده را روی ساعت نشان بده .

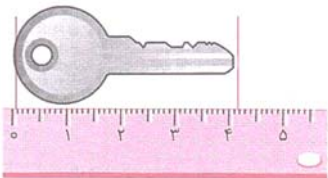


۴- با توجه به شکل ، به سؤال های زیر پاسخ بده .

طول کلید سانتی متر و میلی متر است .




طول کلید میلی متر است .

طول کلید سانتی متر از ۴ سانتی متر بیش تر است .

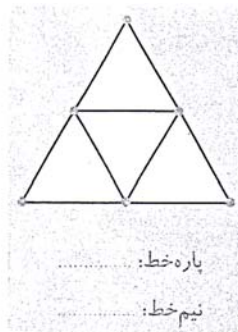
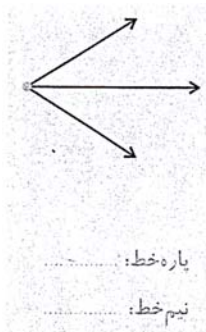
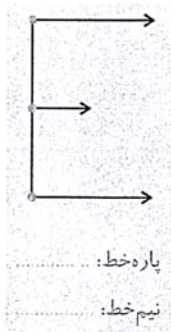
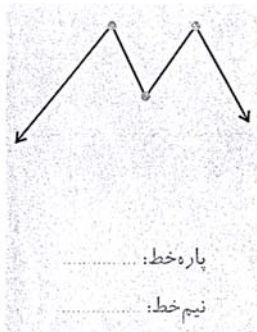


۵- هر کسر را روی محور مربوط به آن نشان بده . (به مخرج کسرها دقت کن ؛ فقط به سه محور نیاز داری)

$\frac{1}{5}$ ، $\frac{2}{3}$ ، $\frac{2}{6}$ ، $\frac{3}{5}$ ، $\frac{5}{6}$



۶- در هر شکل تعداد پاره خط ها و نیم خط ها را مشخص کن.



۷- کشاورزی زمینی دارد که اندازه طول آن ۵۰ متر و عرض آن ۳۰ متر است. اگر بخواهد دور زمین را دو دور نرده بکشد به چند متر نرده نیاز دارد؟ اگر بخواهد در نیمی از زمینش گندم بکارد، چند متر مربع از زمین خالی می ماند؟

۸- در جاهای خالی عددهای مناسب بنویس.

- $۸۰ \times ۹ = ۹ \times \dots$
- $۷ \times ۴ = (\dots \times ۴) + (\dots \times ۴) = \dots + \dots = \dots$
- $۵ \times ۳(\dots \times \dots) + (۲ + ۳)$
- $(۶ \times ۱) = (\dots \times ۱) + (۲ \times \dots)$
- $\bullet \times ۱۳۵ = \dots$

۹- تا حالا به خط های عابر پیاده نگاه کرده ای؟ این خط ها چه نوع خط هایی هستند؟ چرا؟



۱۰- مانند نمونه حاصل ضرب های زیر را به شکل تقریبی به دست بیاور.

$$۳۷ \times ۴۲ \rightarrow ۴۰ \times ۴۰ = \dots$$

$$۳۶ \times ۱۹ \rightarrow \dots \times \dots = \dots$$

۱۱- یک ماشین چاپ، در هر ساعت ۱۳۵ روزنامه چاپ می کند. این ماشین چاپ در ۵ ساعت، چند روزنامه چاپ می کند؟ (شکل بکشید.)

